

韩国围棋畅销书系列

바둑서당

第 3 卷



曹薰铉围棋速成


Created by Tasha

韩国围棋畅销书系列





曹薰铉围棋速成

第三卷



[韩] 曹薰铉 著
陈 启等译



人民体育出版社



Created by Tasita

出版前言

韩国围棋畅销书第一批6种14册在我国出版后,受到读者的欢迎和好评。为此,我们与韩国围棋书院再次商谈并继续有选择地引进。

现在这套韩国围棋畅销书增至9种32册,即:《曹薰铉布局技巧》(1)(2)(3)(4)(5),《李昌镐新手新型》(1)(2)(3),《围棋最新攻防变化》(1)(2)(3),《欺着的攻与防》,《曹薰铉最新定式》(1)(2)(3)(4)(5),《李昌镐官子技巧》(1)(2)(3),《曹薰铉围棋速成》(1)(2)(3),《曹薰铉中盘战略》(1)(2)(3)(4)(5),《曹薰铉和李昌镐围棋教室》(入门篇上、下卷)(初级篇)(中级篇)。以后视情况仍可能增加品种和册数。

需要特别提到的,是第一批出版的《曹薰铉布局技巧》(上)(中)(下)三册,从现在看应列为(1)(2)(3)才合理。对当时的考虑不周,谨向读者致歉。如果再版,将把(上)(中)(下)改为(1)(2)(3)

在此,向所有关心和支持此丛书出版的中韩人士,表示诚挚的感谢!

前 言

围棋初学者最感苦闷的，莫过于当盘上出现问题时不知该如何下。虽然大家都明白，下棋应经过思考、经过计算，但实战中碰上某个具体局面，下出的棋到底是好是坏，他们却很难区分。面对自己熟悉的棋形或定式时，可能表现得非常自信；而面对陌生的棋形时，又表现出不知所措的样子。维持这种状况，当然很难赢棋，即使偶尔赢一两盘，大概也是得益于对手的失误。

不断发现自己对局中的错误，并在以后下棋时努力不犯同样的错误，对提高自己的棋力非常重要。其中主要的环节就是学会如何区别好棋和坏棋。于是很自然地就会引出这样一个问题，即：区别好棋和坏棋的标准到底是什么？

为了解除广大围棋初学者在学习围棋时经常出现的这种困惑，围棋书院推出了这套围棋速成丛书，希望能为大家提供区分好坏棋的标准。为提高学习效果，丛书采用先提出问题再予以解说的方式写作，愿这种努力能受到欢迎。我相信，读者通过学习，若能真正理解和掌握，必会很快地提高棋力。

最后，对承担本书稿件整理的成期昌先生，对承担本书编辑、出版工作的围棋书院同仁，一并致以诚挚的谢意。

曹薰铉

1998年7月

目 录

上篇

问题 1 ~ 60 (1)

下篇

问题 61 ~ 115 (123)

上 篇

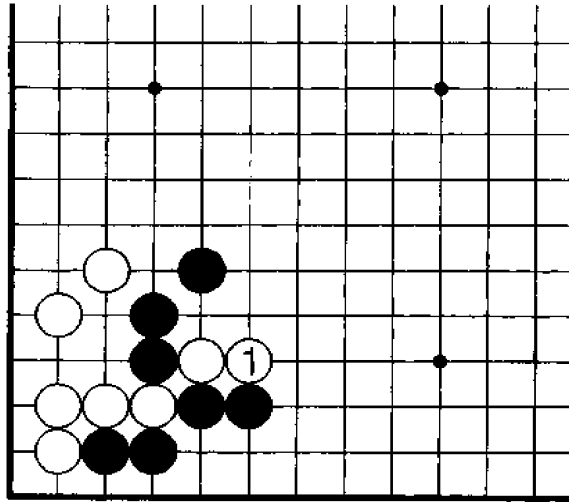
问题 1 ~ 60

Created by Tasita

Created by Tasita

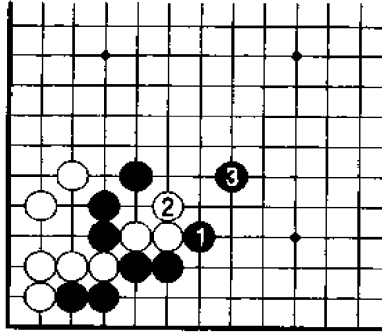
问题 1

黑先



白 1 长时,黑棋如果吃不住白二子,将面临被分割的危险形势。请问此时黑棋应如何下?

问题1解答



正解图

黑1扳头是绝对的一手，其后白2若逃，黑3则飞封，白棋只能束手就擒。

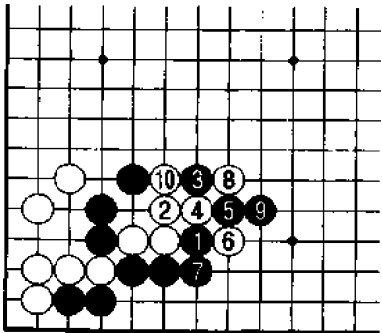


图1 变化

黑1、白2时，黑3封未考虑到自身弱点，白4冲以下至白10，白棋可以成功逃跑。



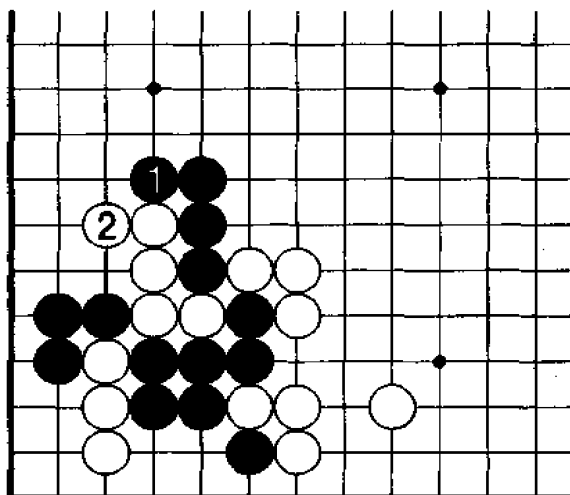


图2 失败

黑1长不好，白2压，黑3扳时，白4跳向中腹，中腹的黑三子反倒受到攻击。

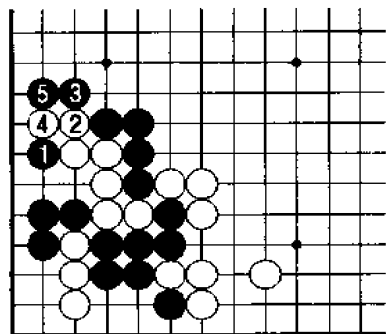


黑先



黑 1 挡, 白 2 长气时, 下侧的黑棋仅剩三气, 那么请问此时黑棋如何才能与白棋对杀? 如果能下成打劫, 黑棋同样成功。

问题2解答



正解图

黑1是绝对的一手,其后白2时,黑3、5是对杀的要领,后续变化见下图。

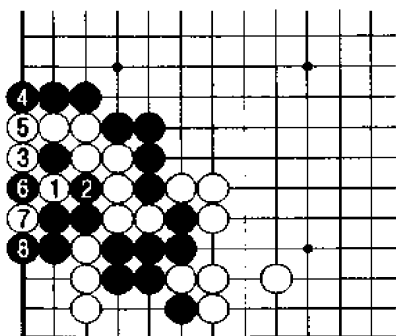


图1 正确继续

续正解图,其后白1打吃,黑2、4是好次序,白5时,黑6、8又是手筋,结果黑棋下成先手劫。

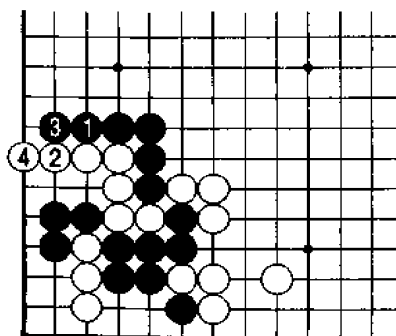

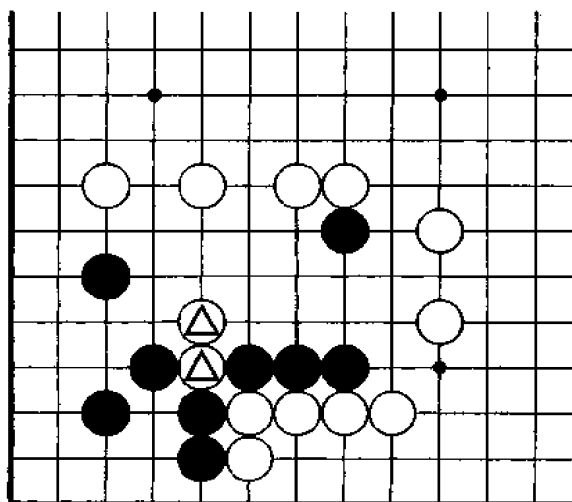


图2 失败

黑1、3挡,虽可阻止白棋出头,但下侧黑棋大龙被杀,黑棋必败无疑。

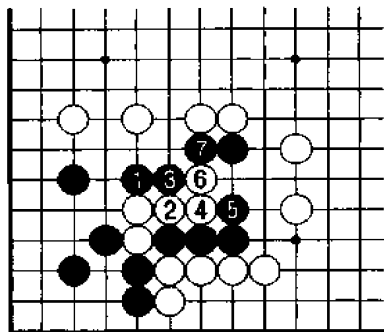


黑先



黑棋如何吃住白空二子是目前面临的问题。黑棋如能充分利用周边的棋子,即可轻松解决问题。请问黑棋应如何下?

问题3解答



正解图

黑1靠是吃白二子的唯一手筋，白2如果逃跑，黑3以下至黑7，白棋死得更多。

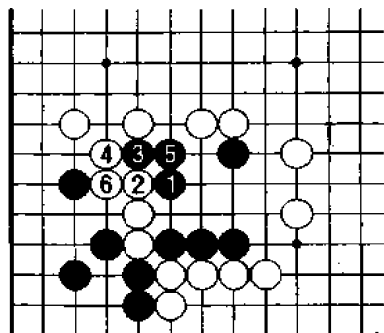


图1 失败1

黑1封看似可行，被白2长后，黑3、5即使挖接，但白6连接后，黑棋失败。

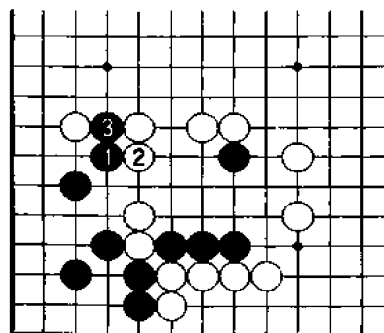
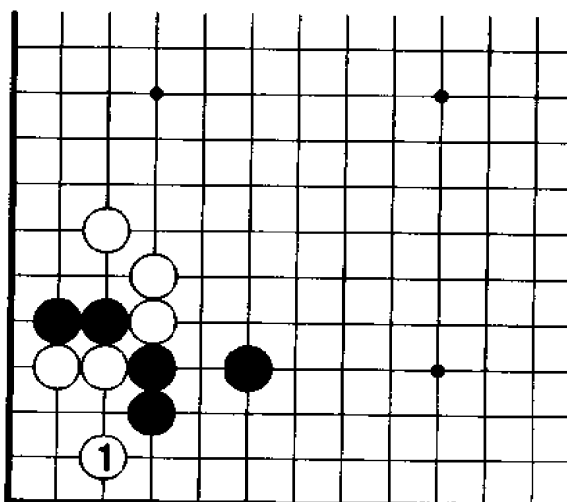


图2 失败2

黑1攻击白棋的弱点，被白2连接之后，中腹黑四子被吃，黑损。

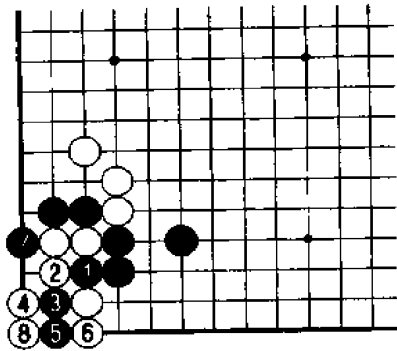
问题 4

黑先



白 1 单跳后，双方下成实战中经常出现的对攻基本棋形。请问黑棋如何才能取得对杀的胜利？

问题4解答



正解图

黑1、3冲断是对杀的要领，也是手筋。白2、4只得如此，以下进行至黑7，黑棋弃去二子。后续变化见下图。

图1 正解继续

续正解图，其后黑1扑时，白2提子，黑3则连接，以后A位和B位黑棋必居其一。

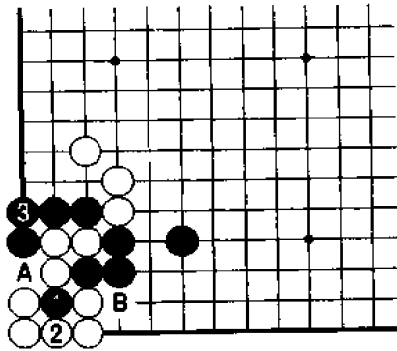
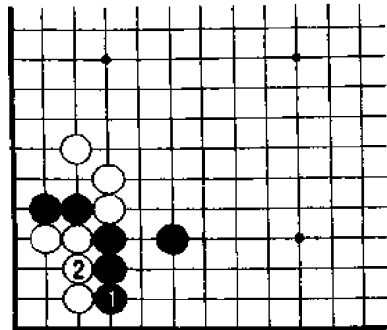


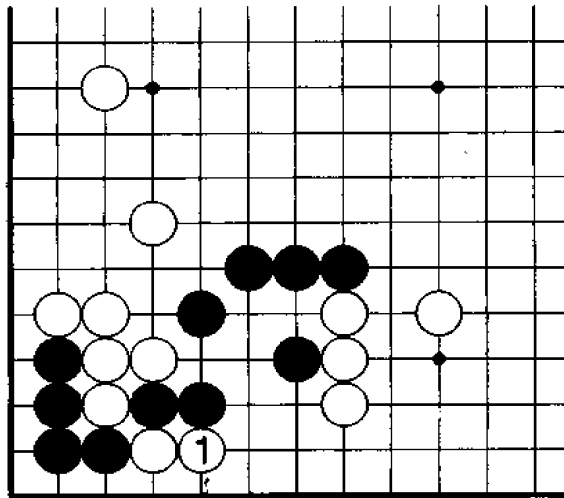
图2 失败

黑1挡，被白2连接后，左黑棋二子被吃。



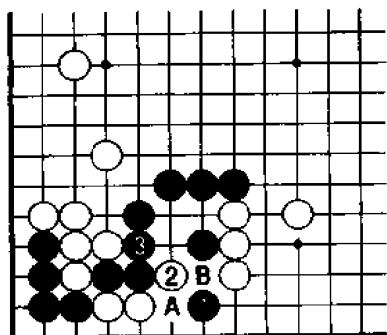
问题 5

黑先



白 1 长谋求联络,对黑棋来说,如果吃不住白二子,角上黑棋将全部被白棋吃掉。那么请问黑棋如何才能摆脱危机?

问题5解答



正解图

黑1是吃白二子的唯一手筋。白2打吃，黑3则连接，其后A位和B位黑棋必居其一。

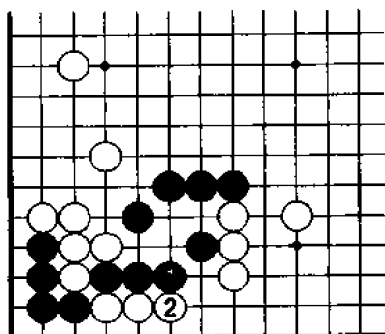


图1 失败1

黑1长是不负责的下法，白2退之后，角上黑棋被吃。

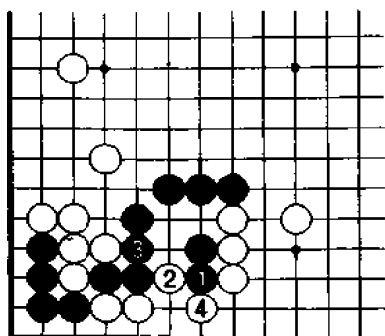
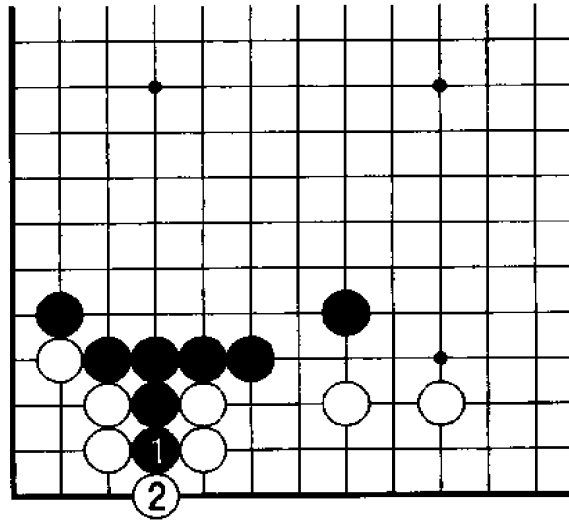


图2 失败2

黑1挡同样不能成立，白2打吃后，白4虎，白棋即可轻松连接。

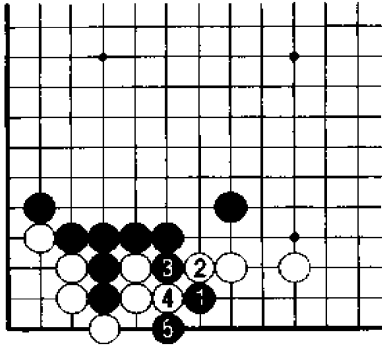


黑先



黑 1 冲, 白 2 渡, 其后黑棋如何下才能切断白棋?

问题6解答



正解图

黑1是正确答案，其后白2、4试图反扑，至黑5打吃，黑棋很轻松。

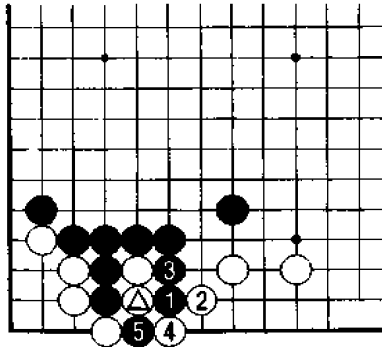


图1 失败1

黑棋如果稍有疏忽，很可能会下黑1靠，但白2夹，黑3连接时，白4可以渡过。黑5提子时，白6可打二还一。

⑥ = △

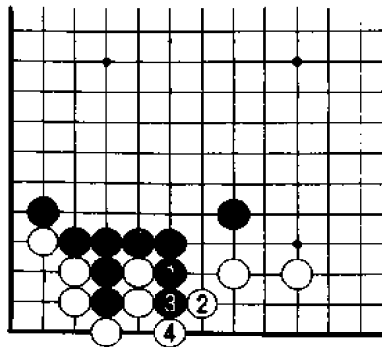
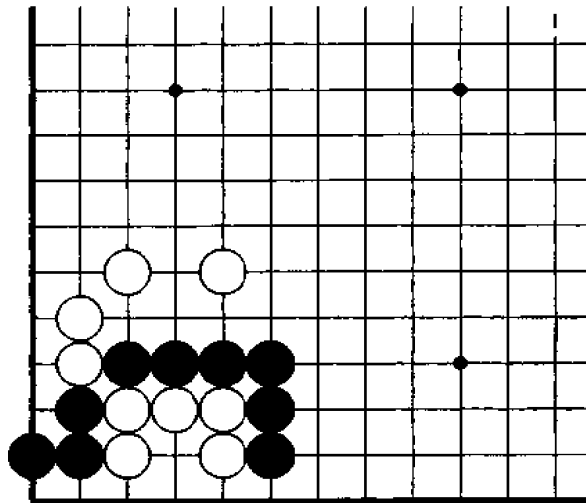


图2 失败2

黑1同样不能成功，此时白2尖是联络的手筋，黑3打吃时，白4渡过可以成立。

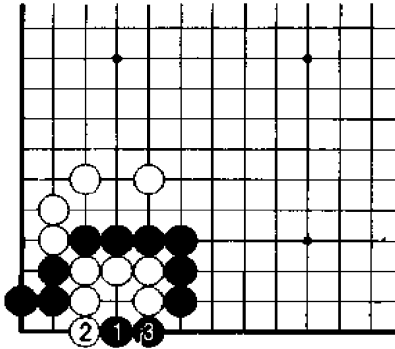
问题 7

黑先



本题是黑白对杀的棋形。黑棋如果不能正确利用角的特殊性,角上黑棋将不能活。那么请问黑棋取得对杀胜利的手筋是什么?

问题7解答



正解图

黑1点是对杀的手筋，白2下立，黑3连回，黑棋在对杀中快一气。

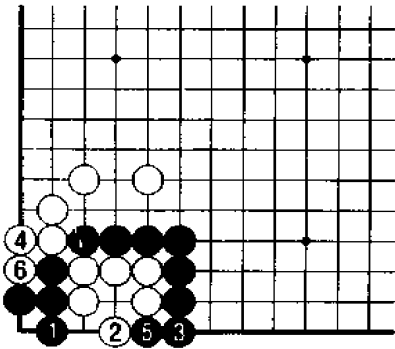


图1 失败1

黑1首先做眼，白2同样做眼，其后黑3下立，以下至白6，黑棋反下成先手双活。

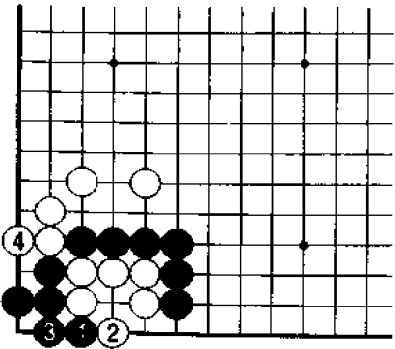

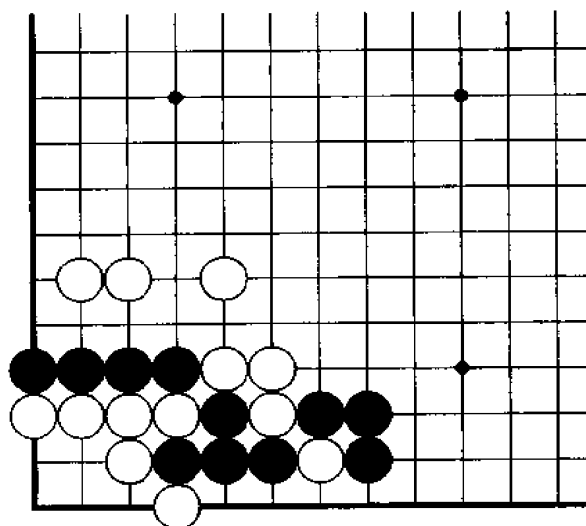


图2 失败2

黑1扳是最坏的选择，白2打吃，黑3时，白4下立，结果黑棋被吃。

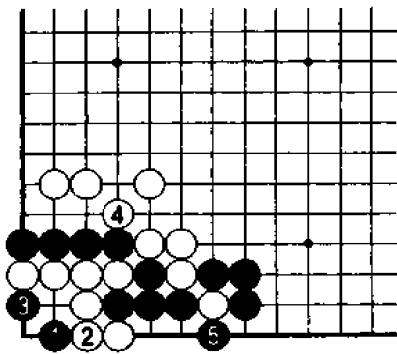


黑先



双方在本题中已下成了对杀的棋形。请问黑棋如何下才能无条件吃住角上白棋？

问题8解答



正解图

黑1点是无条件吃住白棋的手筋，白2如果连接，黑3则做眼，至黑5，黑棋在对杀中快一气。

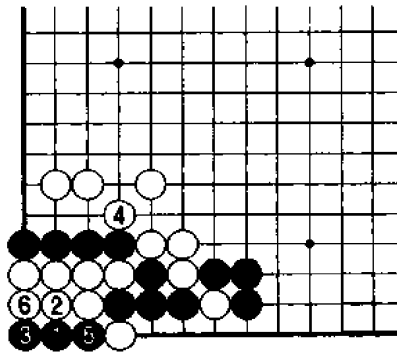


图1 变化

黑1点时，如果白2应，黑3长是好棋，其后白4收气，黑5扑是要领，后续变化见下图。

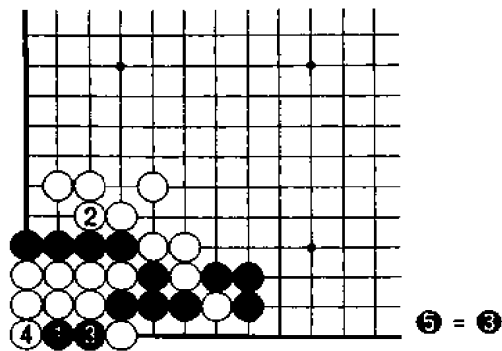

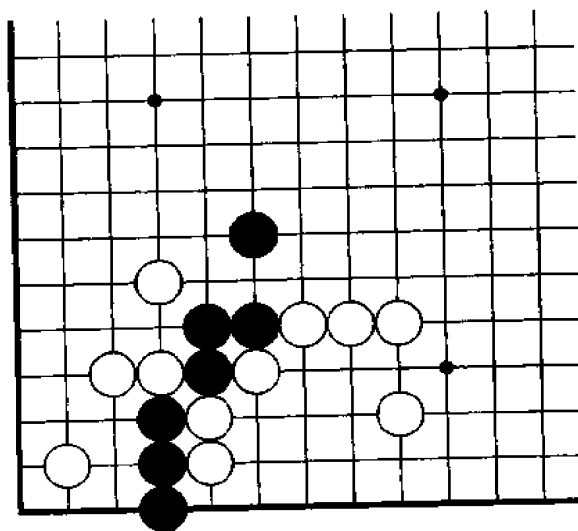


图2 白死

续图1，其后黑1点是连贯的手筋，白2紧气，黑3、5连续倒扑，白棋短一气。

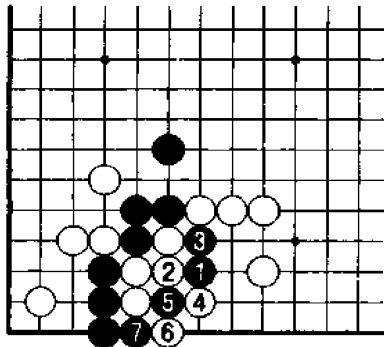


黑先



角上黑三子已处于危险的境地，但黑棋可以通过攻击白棋的弱点而起死回生。请问黑棋应如何下？

问题9解答



正解图

黑1点是绝妙的手筋,其后白2如果连接,黑3断是要领,白4时,黑5、7可以扑吃接不归。

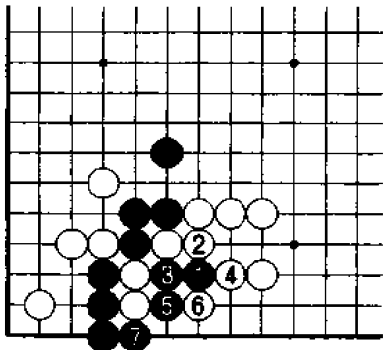


图1 变化

黑1时,如果白2连接,则黑3断,其后白4若扳,黑5打即可简单解决问题。

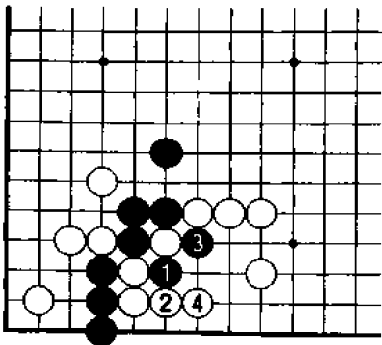

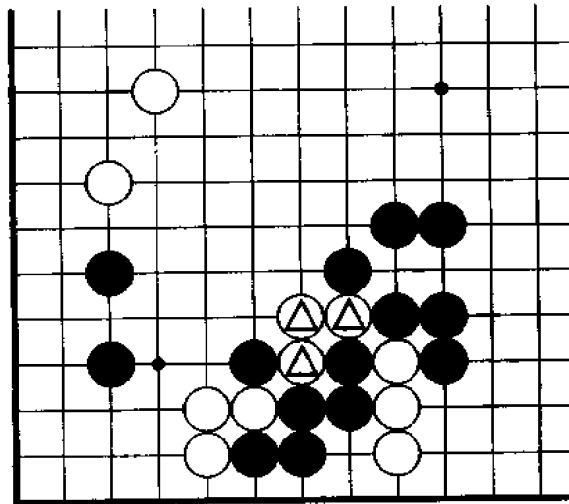


图2 失败

黑1单打不行,以下至白4,角上黑棋被吃,黑棋大损。

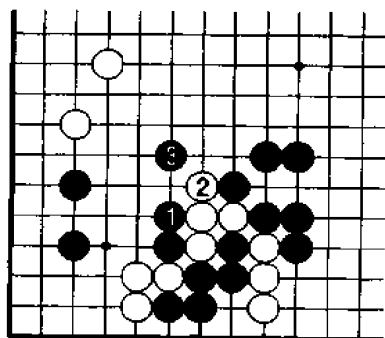


黑先



黑棋如果不能成功吃住白⊕三子，那么下侧黑五子将被白棋吃掉。请问黑棋如何才能摆脱危机？

问题10解答



正解图

黑1打吃，白2时，黑3枷，是黑棋摆脱危机的绝妙次序。黑3后，白四子已无法逃生。

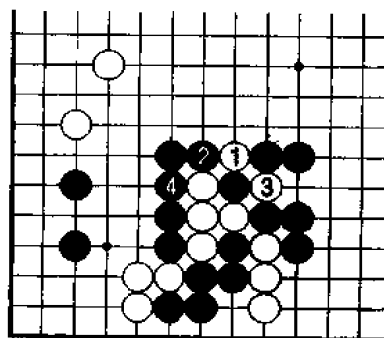


图1 正解继续

续正解图，其后白1打吃，黑2、4反打是要领，结果白四子被吃。

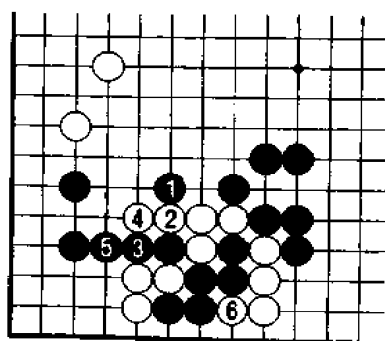

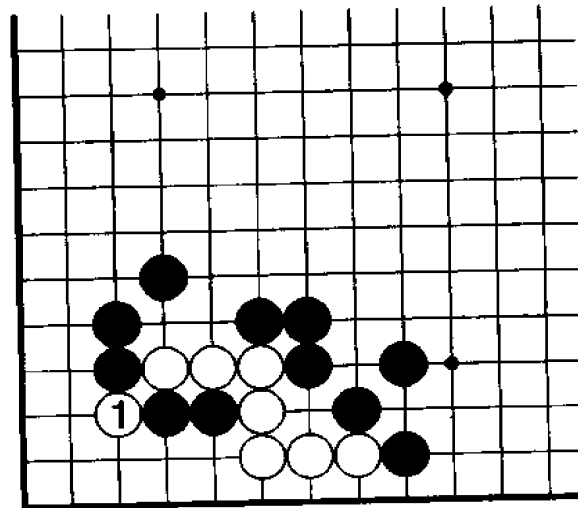


图2 失败

黑1直接封不能成立，白2、4打后白6收气，白棋在对杀中取胜。

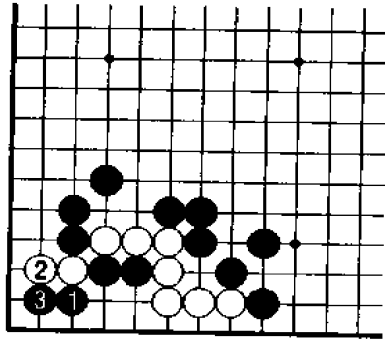


黑先



白1断时，黑棋针对这一棋形大多会轻易放弃二子，但实际上本图中有吃住整块白棋的方法。请问黑棋应如何下？

问题11解答



正解图

黑1打吃是正确的选择，白2时，黑3挡，由此可以吃住整块白棋。

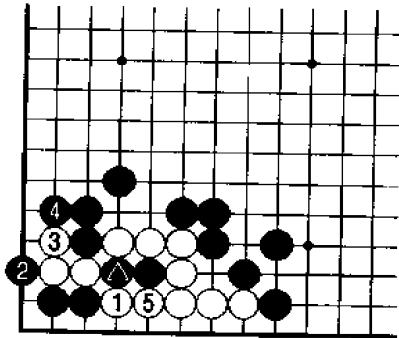




图1 正解继续

续正确图，其后白1只好打吃，黑2、4反打后，黑6扑是准备好的手段，白棋整体只有一只眼。

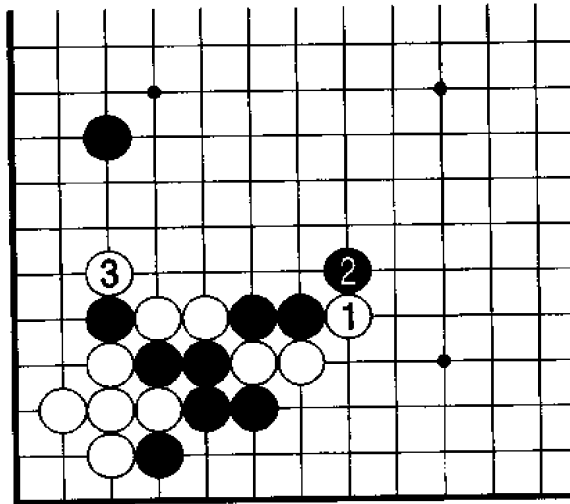
图2 失败

如果在实战中，黑棋稍不留神，很有可能下成黑1打吃，白2、4之后，白棋活净。



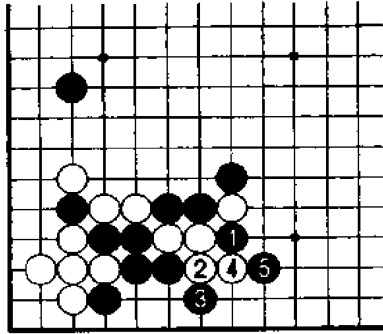


黑先



白1扳,黑2反扳,白3打吃。目前黑棋征子有利,那么请问黑棋如何利用自身的优势而将白棋逼入绝境?

问题 12 解答



正解图

黑 1 打吃是正确的下法，白 2 时，黑 3、5 打吃是连贯的手筋，后续变化见下图。

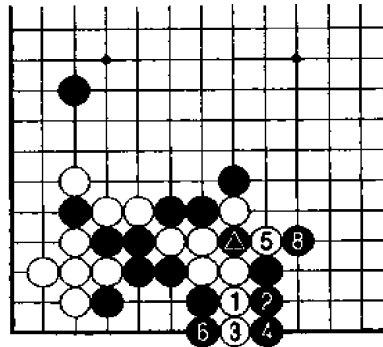


图 1 抱吃

续正解图，其后白 1 如果逃跑，黑 2 打吃以下至黑 8，黑棋可以征吃全部白棋。

⑦ = ⑧

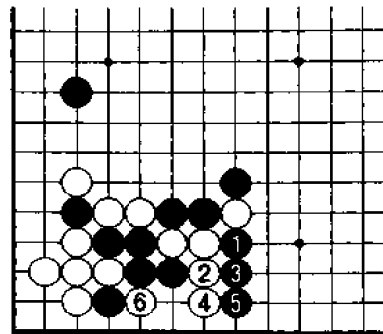
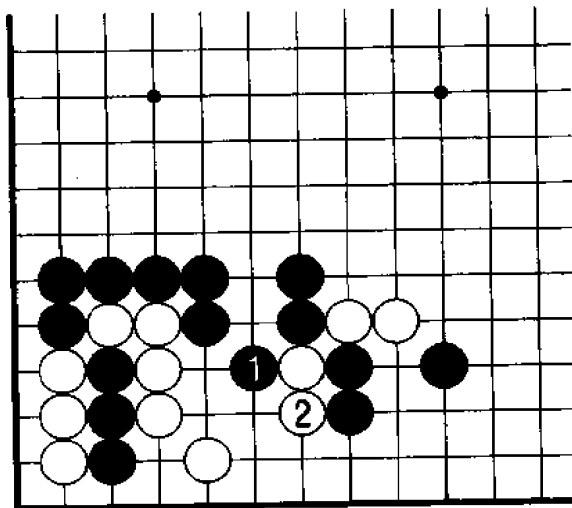


图 2 失败

黑 1 打吃，白 2 时，黑 3 是不负责的下法，以下黑 5、白 6，黑五子被吃。

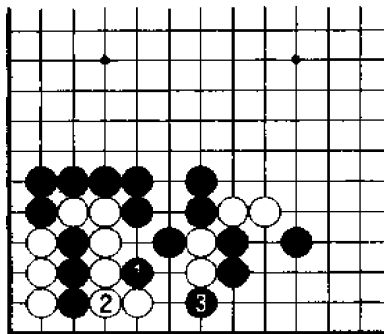
问题 13

黑先



黑 1 打吃, 白 2 长, 黑棋应如何利用角上被吃住的三子而有所收获?

问题18解答



正解图

黑1是绝妙的手筋，白2只好连接，黑3可以吃住白二子。

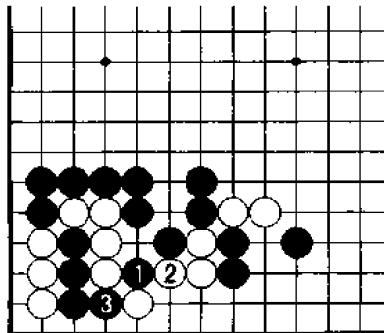


图1 变化

黑1时，白2打吃无理，黑3可以倒扑吃白四子，白大损。

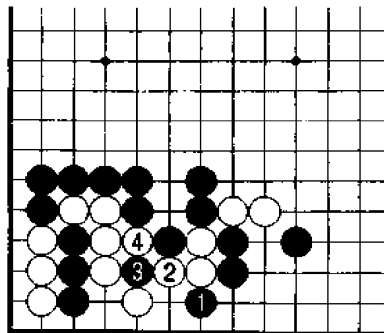
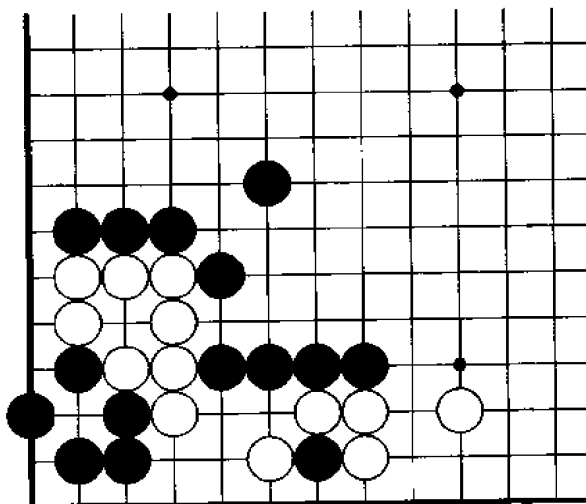


图2 失败

黑1、白2交换后再黑3扑次序错误，白4提子后，黑棋又无后续手段。

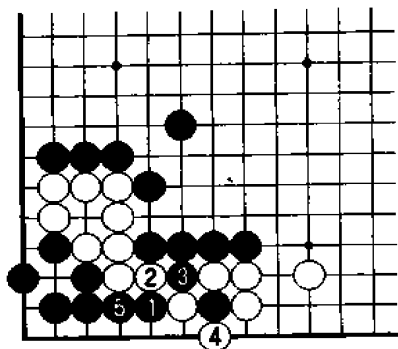
问题 14

黑先



在本题中,黑棋如何才能左右分断白棋?
要求不能下成劫杀,而要无条件杀死左侧白棋。

问题14解答



正解图

黑1是切断白棋联络的手筋，白2如果冲，黑3打吃，然后黑5连接，即可吃住整块白棋。

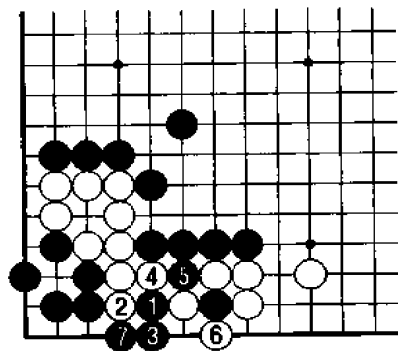


图1 变化

黑1时，白2冲是最强的抵抗，此时黑3下立是准备好的手段，至黑7，即告成功。

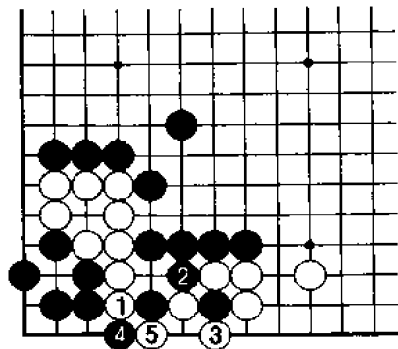
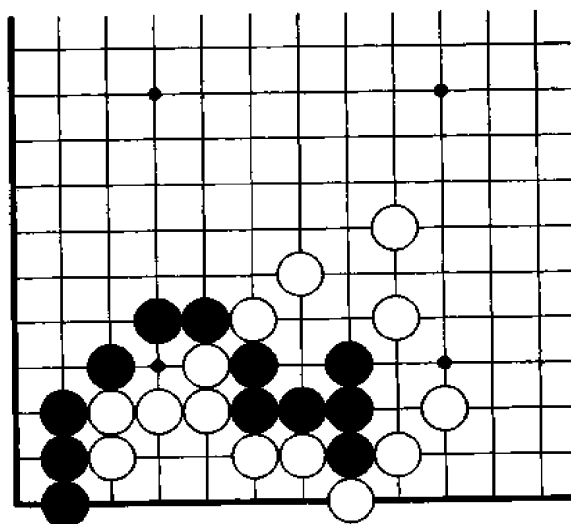


图2 失败

白1冲时，黑2打吃是大恶手，白3时，黑4扳过，但白5有抛劫的手段。

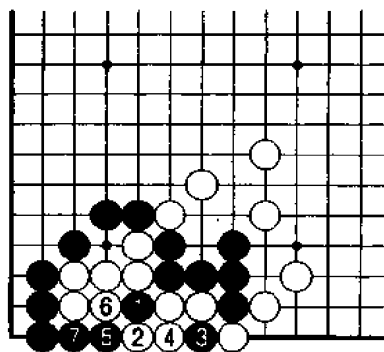


黑先



被白棋围住的黑六子看似已不可能生还,但只要黑棋能正确利用白棋的弱点,便可创造出奇迹。请问黑棋应该如何下?

问题16解答



正解图

黑1断是正确选择,白2如果打吃,黑3扑是非常重要的次序,至黑7,黑棋可以吃白接不归。

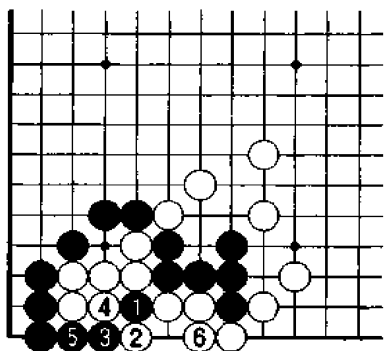


图1 失败

黑1、白2时,黑3打吃是次序错误,白4提子,黑5只好连接,此时白6连接,结果黑棋全部被吃。

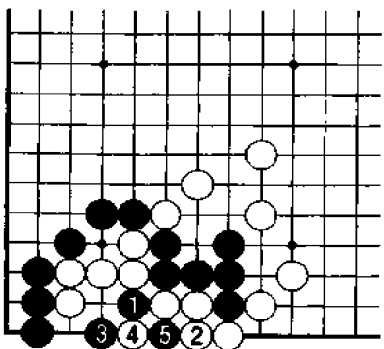
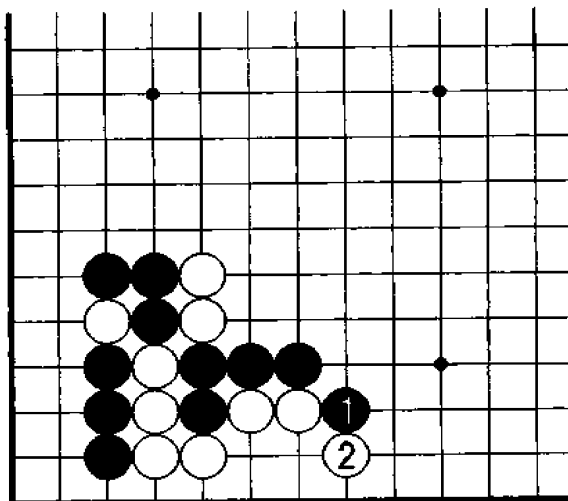


图2 变化

黑1断时,白2连接是最强的抵抗,其后黑3尖,白4扑,结果双方下成打劫。

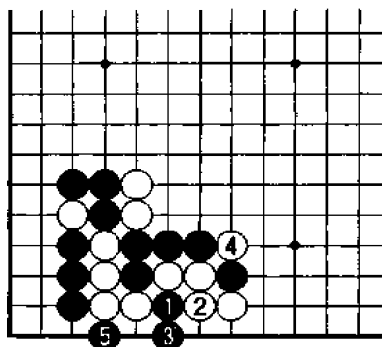
问题 16

黑先



黑 1 扳头, 白 2 扳, 此时黑棋应如何巧妙利用白棋的弱点来获取收益? 其正确的下法是什么?

问题16解答



正解图

黑1断打是正确下法，白2时，黑3下立是巧妙的次序，其后白4只有退而求其次，黑5可得很大收获。

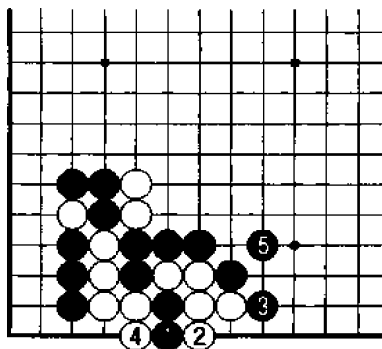


图1 变化

黑1下立时，白2打吃无理，黑3打吃之后，黑5虎，黑棋可以吃住整块白棋。

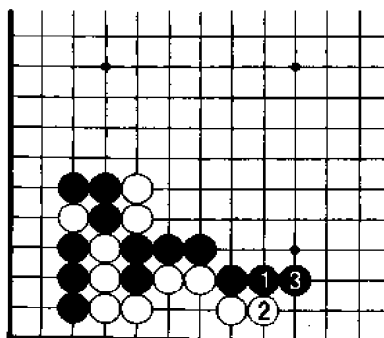
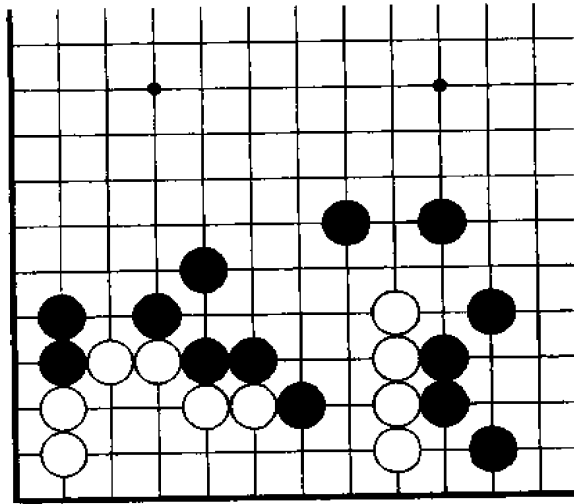


图2 失败

黑棋如果未能发现手筋，而于黑1长，白2长后，白棋做活已无困难。

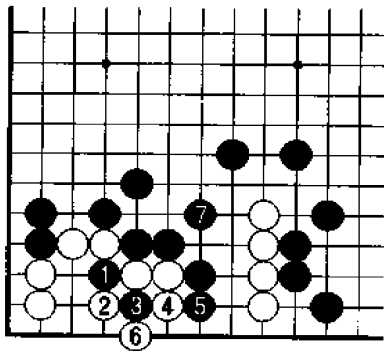
问题 17

黑先



本题中的白棋初看已经完全联络，但实际上黑棋却可以利用白棋的弱点，巧妙切断白棋。请问黑棋应如何下？

问题17解答



正解图

黑1断是绝妙的手筋,白2打吃时,黑3打吃以下进行至黑7,黑棋可以切断白棋。

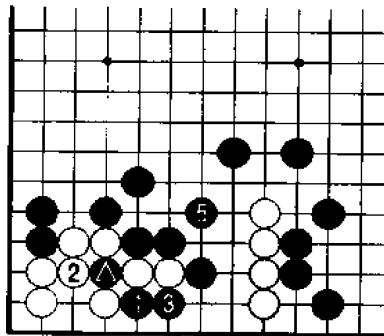


图1 变化

在正解图的进行中,黑1打吃时,白2如果提子,黑3断续打吃,白4连接,黑5虎,黑棋收益更大。

④ = ⑤

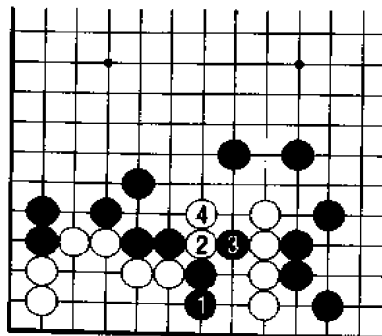
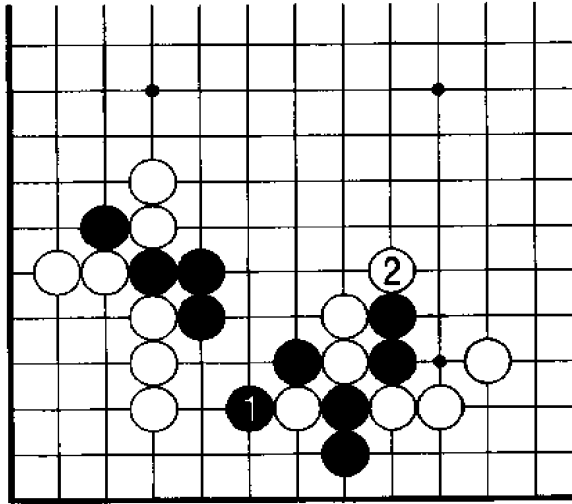


图2 失败

黑1直接下立,白2断后,黑二子只好束手就擒。

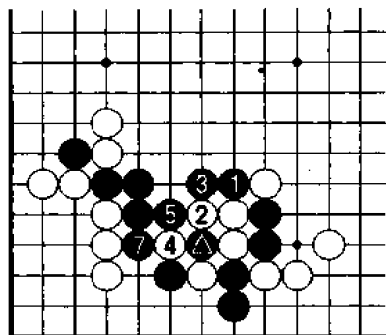
问题 18

黑先



黑 1 打吃时,白 2 扳头,白 2 这手棋看似当然,实际上却无理。那么请问黑棋惩罚白棋无理的有效方法是什么?

问题18解答



⑥ = ▲

正解图

黑1、3打吃是惩罚白棋无理的正确下法,白2、4提子,黑5、7打吃,白棋全部被吃。

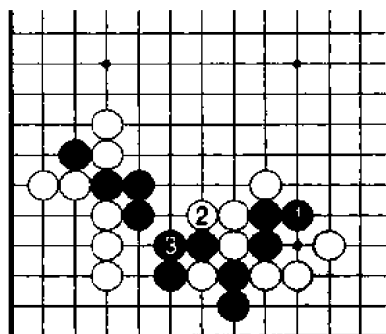


图1 失败1

黑1若逃,白2先手利用后,黑棋正解图中的一系列手段均不复存在。

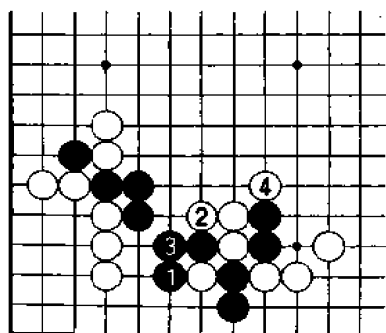
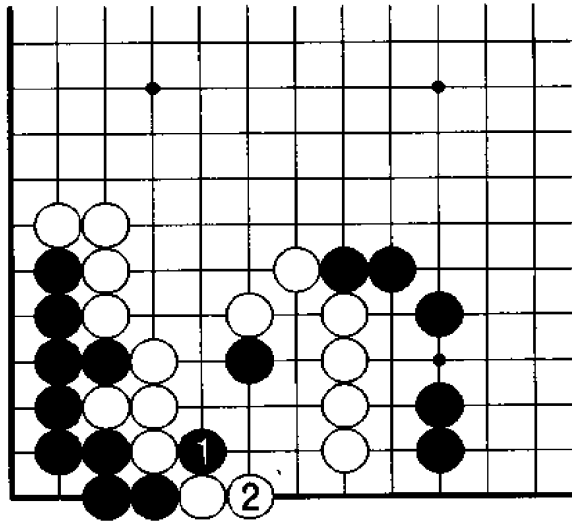


图2 失败2

黑1打吃,白2先手交换,黑3连接后,白4扳头,正解图中黑棋的手段亦随之解消。

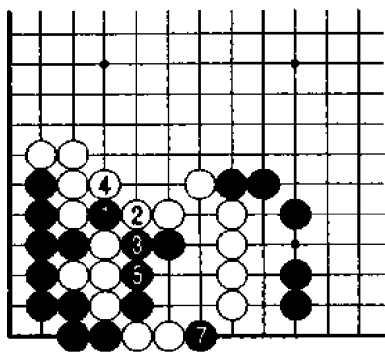
问题 19

黑先



黑 1 断时,白 2 长,黑棋欲通过攻击白棋的弱点来取得收获。那么请问黑棋应如何下?其正确次序是什么?

问题 19 解答



正解图

黑 1 断问白棋的应手，白 2 时，黑 3、5 先手利用后，黑 7 打吃，黑棋可以吃住白二子。

⑥ = ①

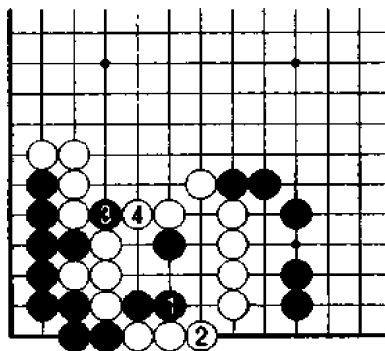


图 1 失败 1

黑 1 与白 2 交换是大恶手，其后黑 3 断，白 4 打吃，黑棋已无任何手段。

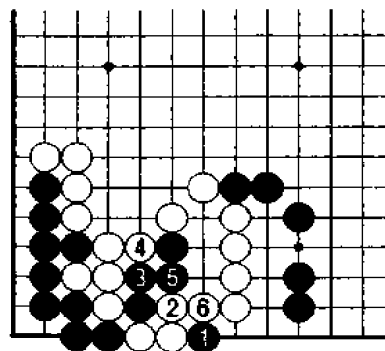
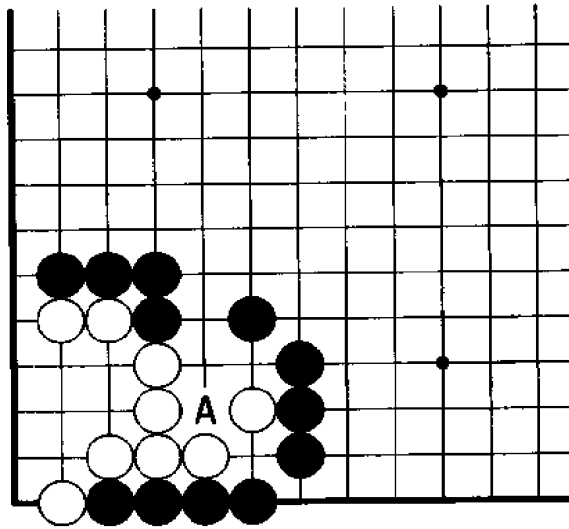


图 2 失败 2

黑 1 打吃同样不好，白 2 时，黑 3 长，以下至白 6，黑棋一无所得。

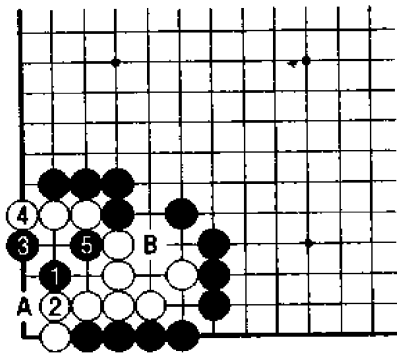
问题 20

黑先



本题是问黑棋如何吃住全部白棋。白棋可后手成 A 位一眼，黑棋对此应予以重视。黑棋在选择时，第一手棋比较容易发现，第三手棋才是关键。那么请问黑棋应如何下？

问题20解答



正解图

黑1点是第一感觉,白2连接时,黑3尖不易被发现,其后白4如果阻渡,黑5则断,以后黑棋只要在A位和B位中居其一即可。

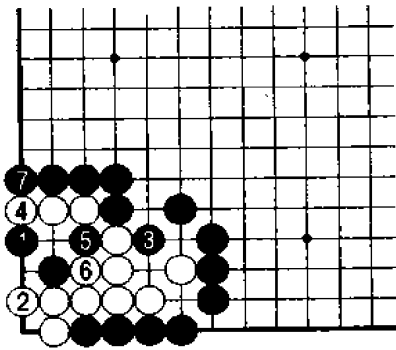


图1 变化

黑1尖时,白2如果做眼,黑3破眼是要领,其后白4断以下至黑7,黑棋可以倒扑白棋。

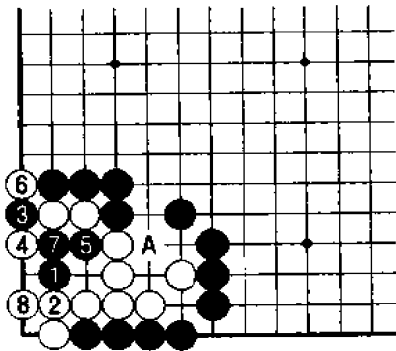
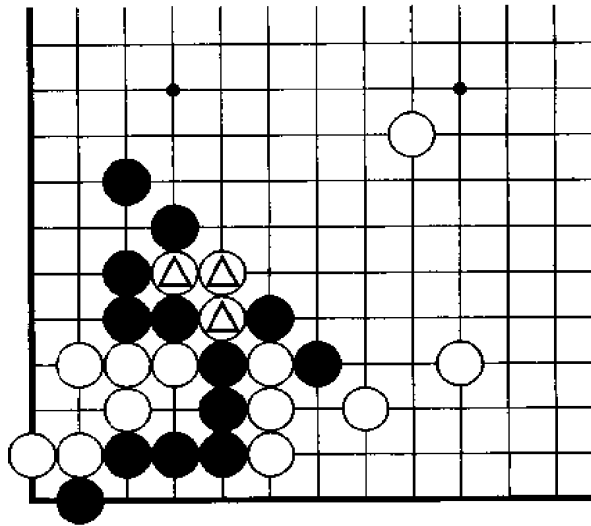


图2 失败

黑1、白2时,黑3扳不行,以下至黑7时,白8立是好棋,其后白棋只要在3位和A位中居其一即可活。

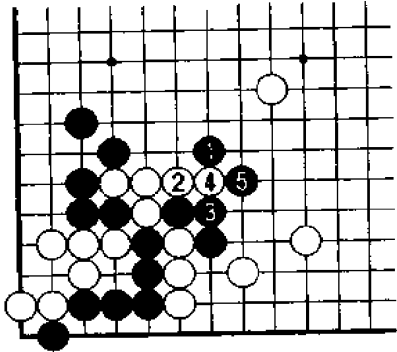
问题 21

黑先



黑棋如何吃住白△三子？黑棋在征子不利的情况下，只有采用枷的下法才行。那么请问黑棋应如何下？

问题21 解答



正解图

黑 1 是枷吃白棋的手筋，其后白 2 打吃，黑 3 连接，白棋已不可能逃脱。

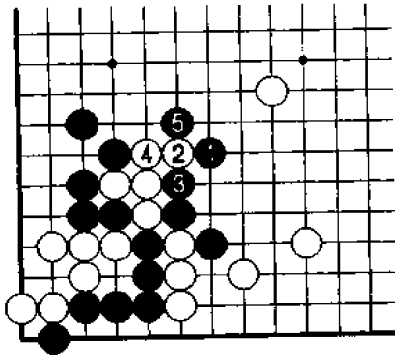


图 1 变化

黑 1 时，白 2 如果尖顶，黑 3 打吃是要领，至黑 5 即可简单解决问题。

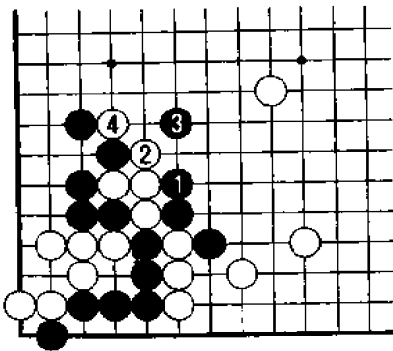
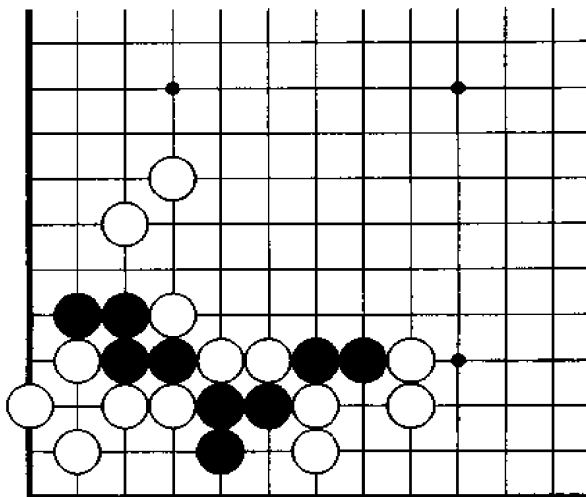


图 2 失败

黑 1 先打吃，其后黑 3 枷的下法不能成立，白 2、4 后，白棋可成功逃跑。

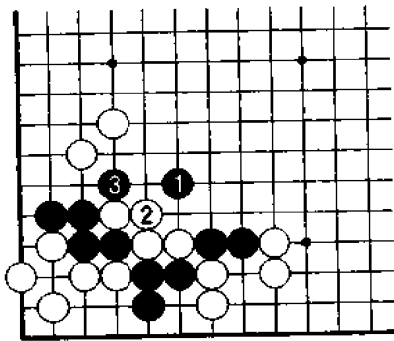
问题 22

黑先



黑棋想吃住位于中腹的白二子，仅一手棋即可解决问题。那么请问黑棋应如何选择？

问题22解答



正解图

黑1是吃白二子的
急所，白2如果连
接，黑3扳即可。

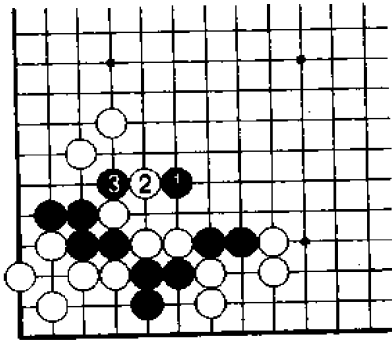


图1 变化

黑1时，白2虎谋
求变化，此时黑3打吃
即可简单解决问题。

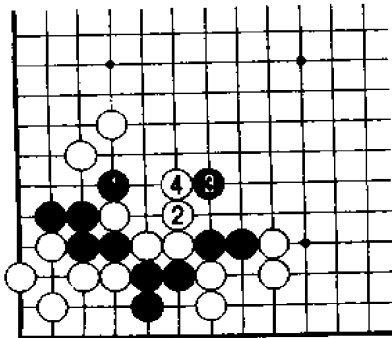
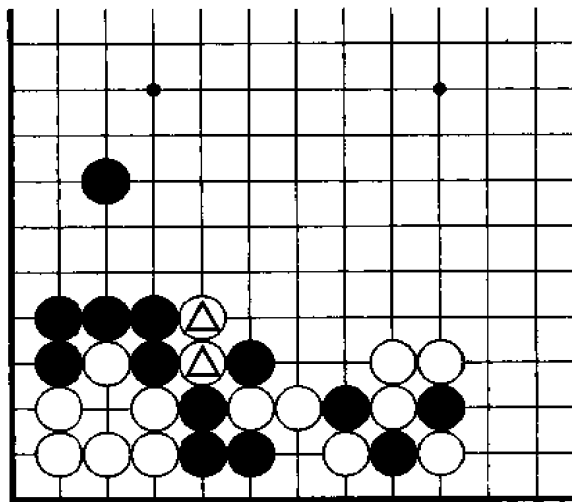


图2 失败

黑1打吃，希望白
棋连接，但白棋有直接
逃二子的下法，此时黑
3再封已来不及。

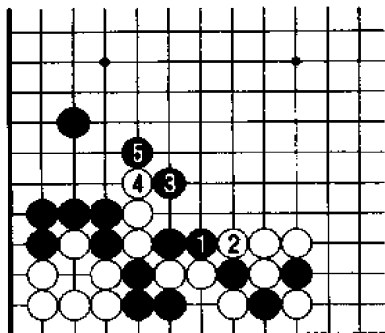
问题 23

黑先



本题中黑棋要考虑的，是如何利用白棋的弱点吃住白△二子。那么请问黑棋应如何下？

问题 23 解答



正解图

黑 1 与白 2 交换后,黑 3 枷是手筋。白 4 若逃,黑 5 可扳,白三子不可能活。

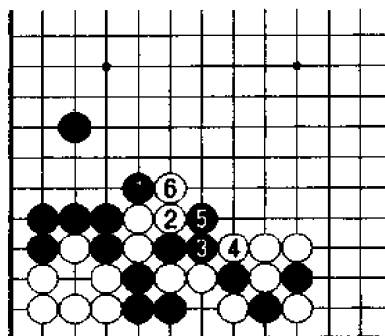


图 1 失败 1

黑 1 先与白 2 交换是大恶手,其后黑 3、5 企图抵抗,但至白 6,黑棋反而陷入困境。

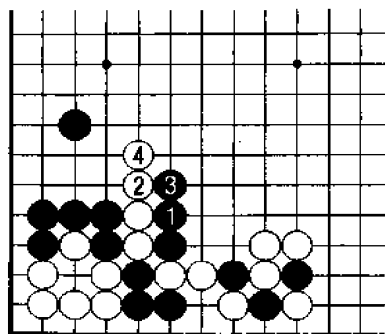

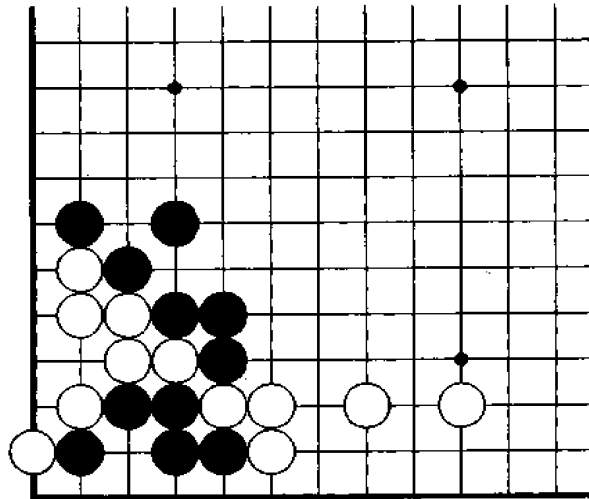


图 2 失败 2

黑 1 打吃同样不好,以下黑 3、白 4,下侧黑三子已自然死亡。

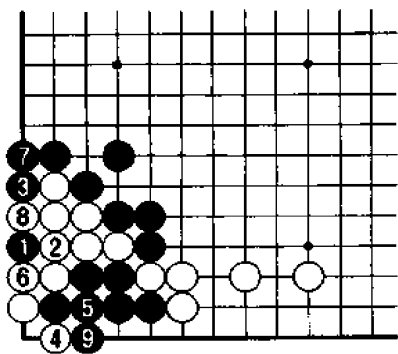


黑先



本题是黑白对杀的棋形，黑棋可以利用角的特殊性做成对自己有利的劫。那么请问黑棋应如何下？

问题24 解答



正解图

黑1点是好棋，以下进行至黑9，黑棋是先手劫。

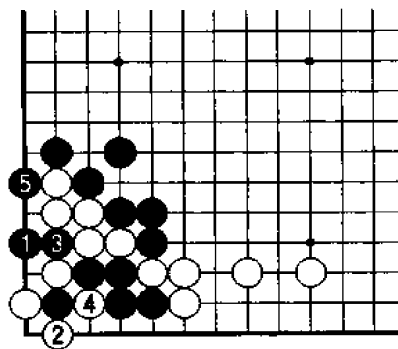


图1 变化

黑1点时，白2打吃，黑3简单反打，至黑5，即可吃白五子。

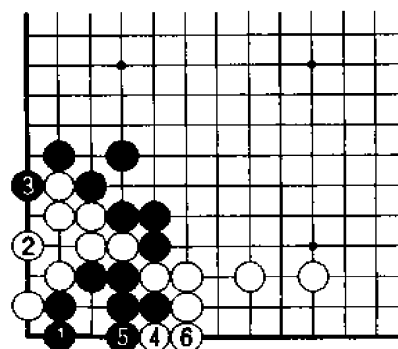
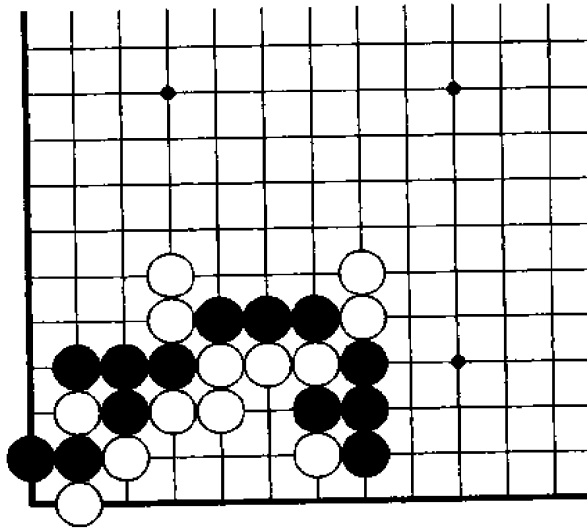


图2 先败

黑1下立，此时白2做眼非常重要，以下进行至白6，双方下成双活。

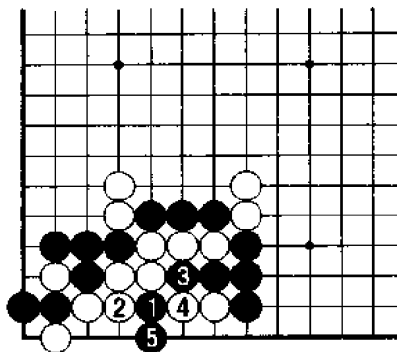
问题 25

黑先



中腹的黑三子仅剩三口气，那么请问黑棋如何才能取得对杀的胜利？

问题25解答



正解图

黑1是取得对杀胜利的手筋，白2时，黑3是要领，以下白4、黑5，黑棋运用“金鸡独立”告捷。

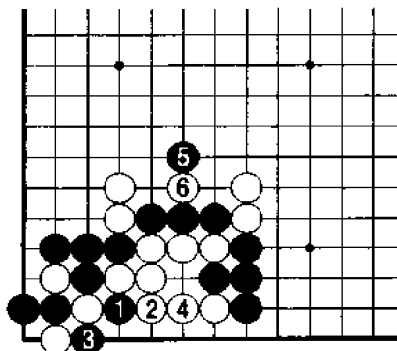


图1 失败1

黑1先打是失败之举，白2反打，其后白4连接即可。黑5逃跑时，白6挖是妙手，黑棋失败。

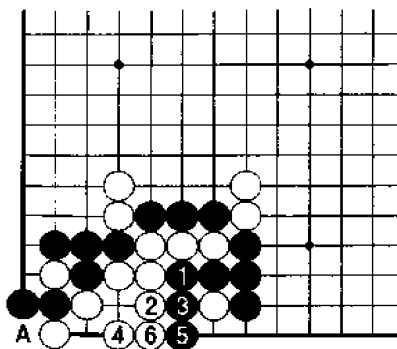
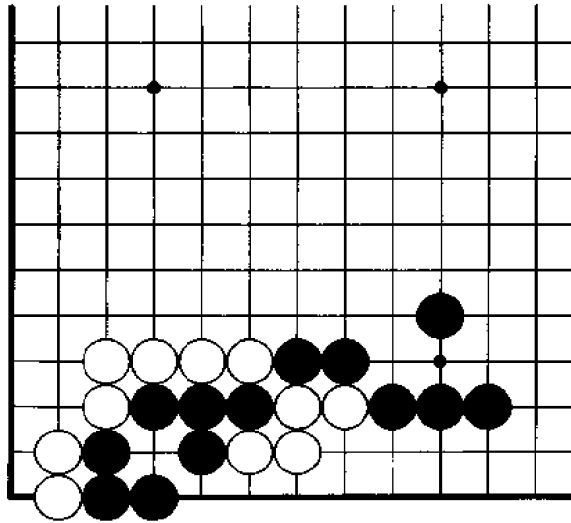


图2 失败2

黑1紧气。白2下立，黑3时，白4做眼是要领，白6以后，黑棋苦于A位不能打吃。

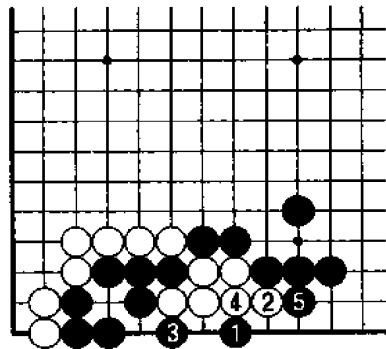
问题 26

黑先



黑白双方展开了对杀，黑棋可以下成有眼杀无眼的棋形。如果下成打劫，对黑棋来说就是失败。请问黑棋应如何下？

问题26解答



正解图

黑1点是正确下法,白2如果扳,黑3、5即可吃住白棋。

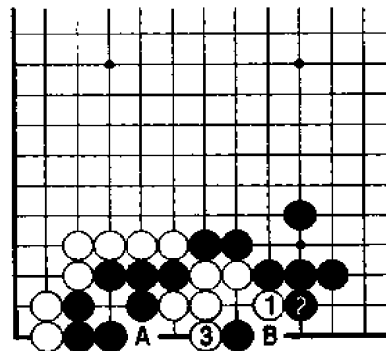


图1 失败1

白1扳时,黑2是大恶手,此时白3绝妙,其后白棋只要在A位和B位中居其一,黑棋即告失败。

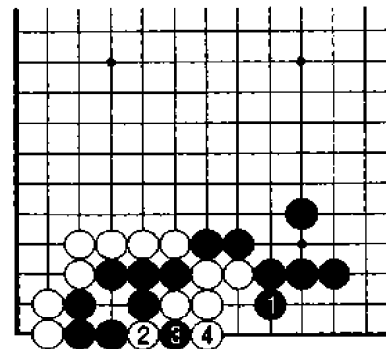
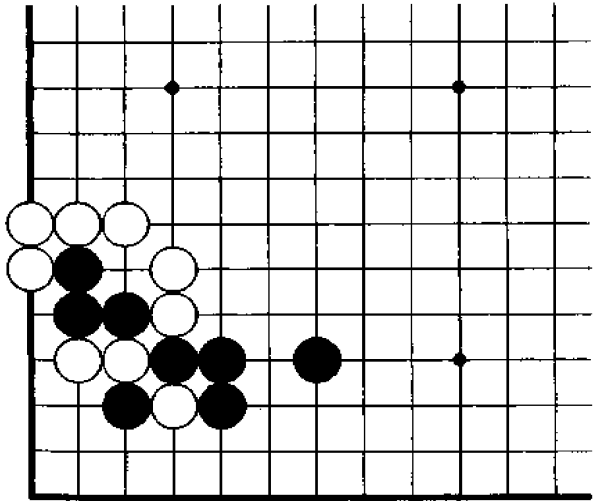


图2 失败2

如果是实战,有可能下成黑1下立,但白2扑是绝妙的抵抗,以下黑3、白4,双方下成打劫。

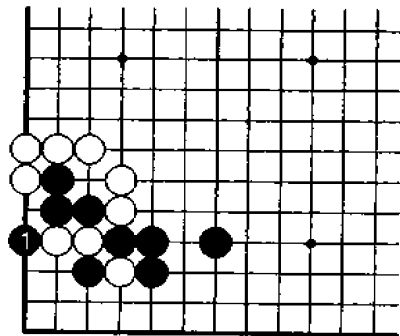
问题 27

黑先



黑棋只要能充分利用角的特殊性，即可简单解答本题。从哪一侧开始打吃，是黑棋首先面临的问题。请问黑棋应如何下？

问题27解答



正解图

黑 1 在一路打吃是正确的, 由此可以确保角地。后续变化见下图。

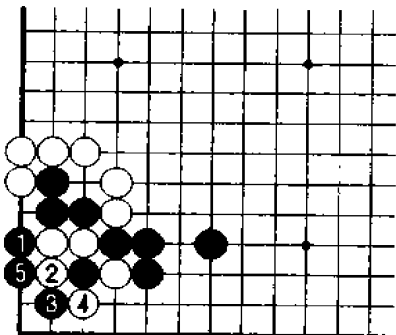


图 1 正解继续

续正解图, 其后白 2 打吃时, 黑 3 滚打是要领, 白 4 提子, 黑 5 打吃, 白棋始终只有一口气。

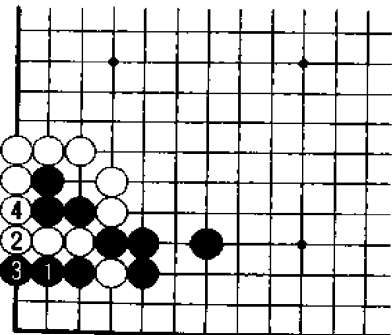

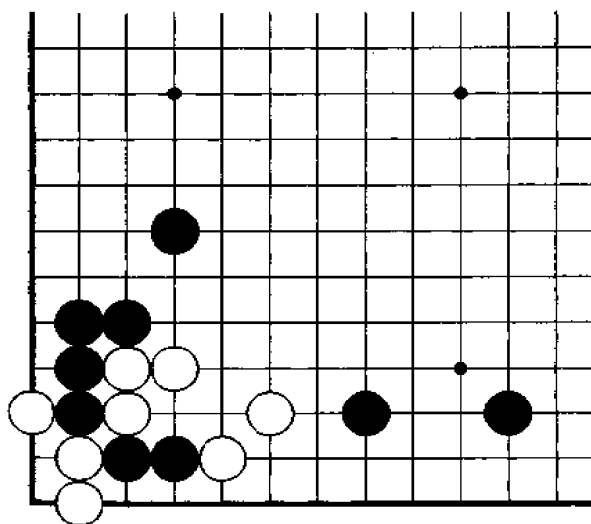


图 2 失败

实战中很可能下成黑 1 打吃, 以下黑 3、白 4, 黑棋仅可先手定形, 自然是黑损。

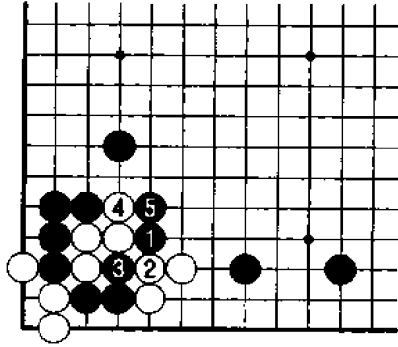


黑先



角上黑二子已处于危险之中，但只要黑棋能正确掌握手筋，完全可以反吃白棋而生还。请问黑棋应如何下？

问题28解答



正解图

黑1顶是扭转不利局面的手筋,白2时,黑3断打,白四子已逃不掉。

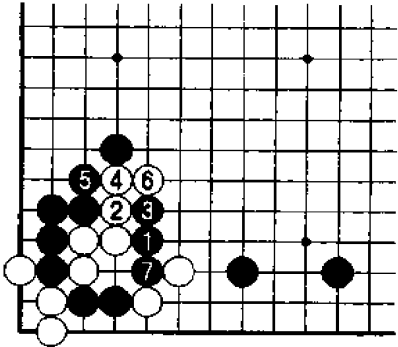


图1 变化

黑1顶时,白2、4如试图出逃,黑3、5先手利用后,黑7顶是要领,以后不论如何变化,白棋都难受。

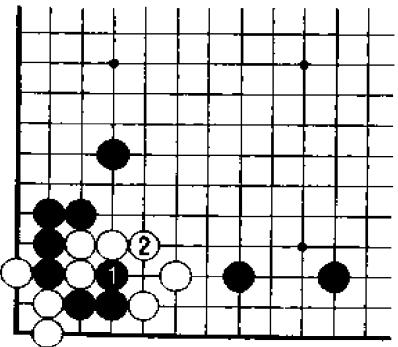
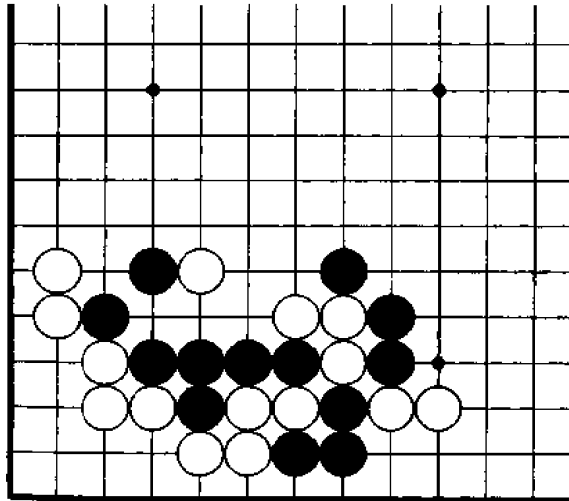


图2 失败

黑1冲错误,白2长后,黑棋痛失角地。

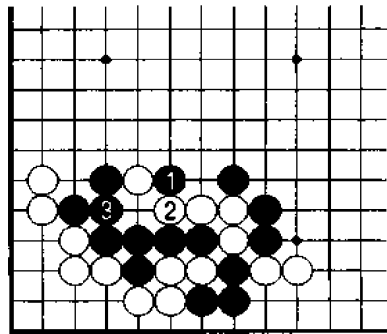
问题 29

黑先



黑棋面临的问题是如何吃住中腹白三子。第一手棋比较简单，其后的进行比较困难。那么请问黑棋如何下才能吃住白棋？

问题29解答



正解图

黑1枷是惟一正确下法，白2逃跑时，黑3连接是不易发现的手筋，后续变化见下图。

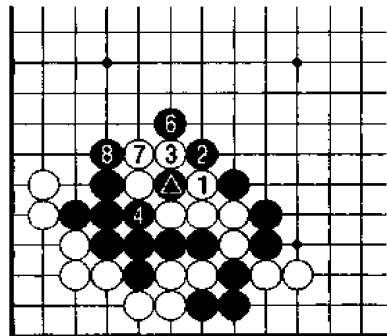


图1 正解继续

续正解图，其后白1如果打吃，黑2包打是准备好的手筋，以下进行至黑8，黑棋可以征吃白棋。

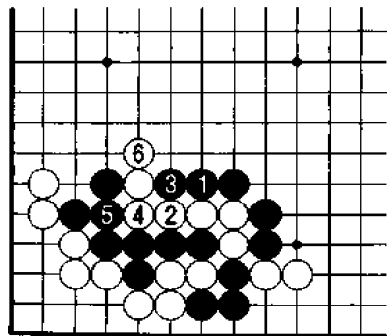
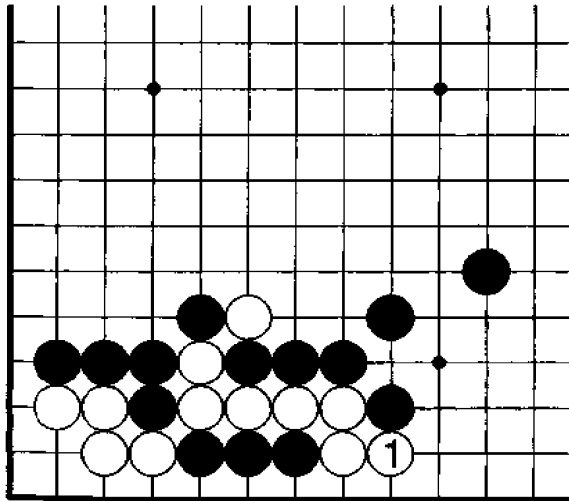


图2 失败

黑1与白2交换是大恶手，其后黑3、5抵抗，但至白6，黑棋全线崩溃。

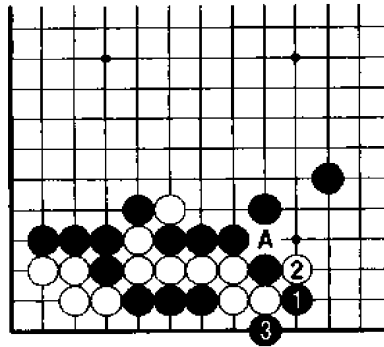
问题 30

黑先



白 1 爬时，黑棋如果能对本棋形稍加留意，应该不难解决问题。那么请问黑棋如何下才能吃住整块白棋？

问题30解答



正解图

黑1扳是吃住整块白棋的好棋。白2打吃时，黑棋可以不在A位连接，而黑3反打，后续变化见下图。

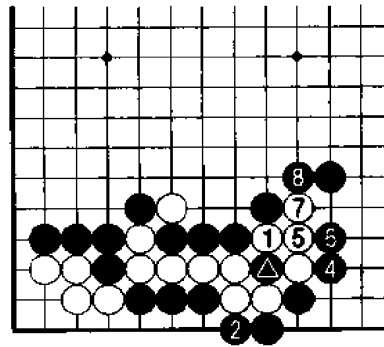


图1 正解继续

续正解图，其后白1只好提子，黑2打吃以下进行至黑8，整块白棋被吃。

③ = ▲

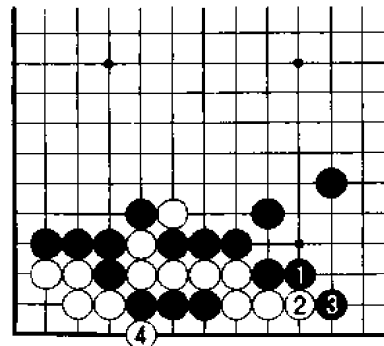
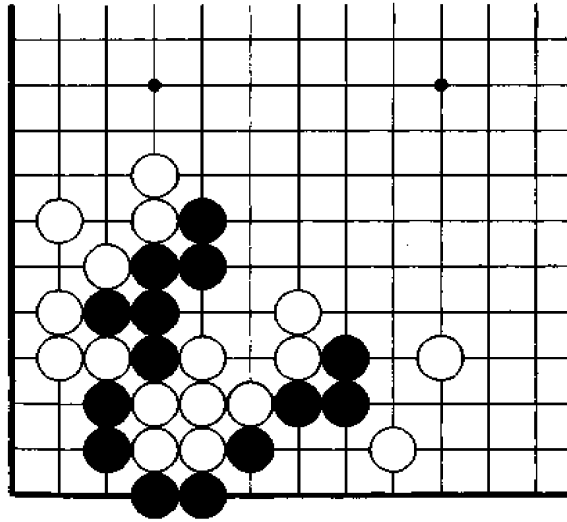


图2 失败

黑1错过机会，白2爬，黑3扳时，白4开始收气，结果黑三子反而被吃。

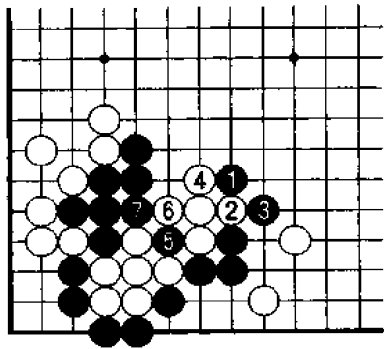
问题 31

黑先



本题黑白双方相互纠缠，黑棋不吃住中腹的白棋，自己就没法活。那么请问黑棋应如何下？

问题31 解答



正解图

黑1封是手筋，白2、4如试图逃跑，黑5、7可连续打吃，黑棋大获成功。

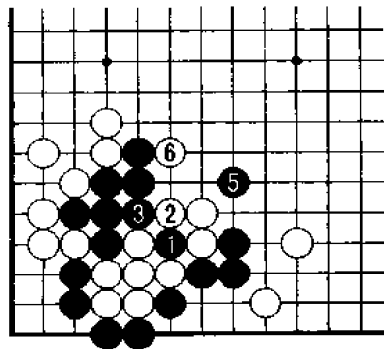


图1 失败1

黑1先与白2交换，以下至黑5时，因为黑棋行棋次序错误，白6可以靠出，黑棋难受。

④ = ①

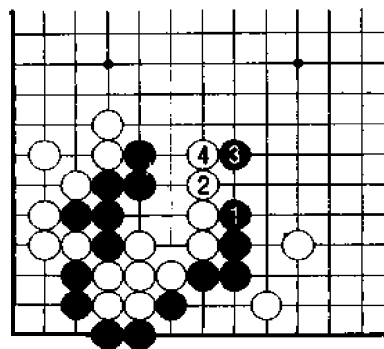
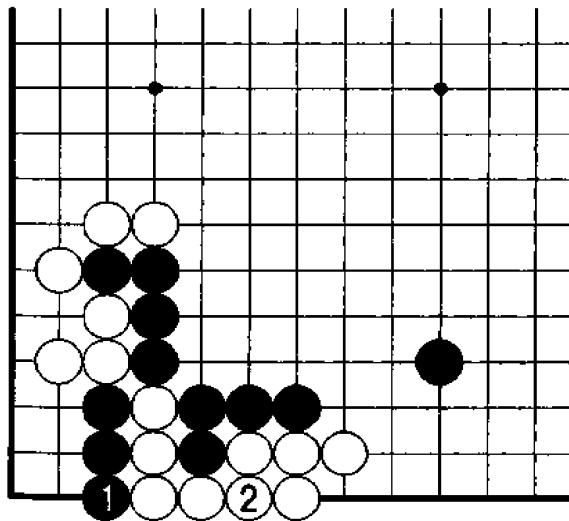


图2 失败2

黑1与白2交换后，黑3封同样不行。白4长后，黑棋反而四面楚歌。

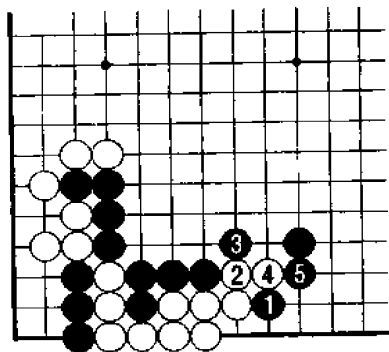
问题 32

黑先



黑 1 打吃, 白 2 连接, 目前角上的黑棋仅剩三口气, 那么请问黑棋应如何下?

问题32解答



正解图

黑1是绝对的一手,其后白2、4试图逃跑,黑3扳、5挡,后续变化见下图。

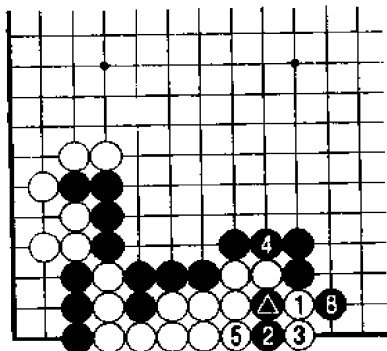
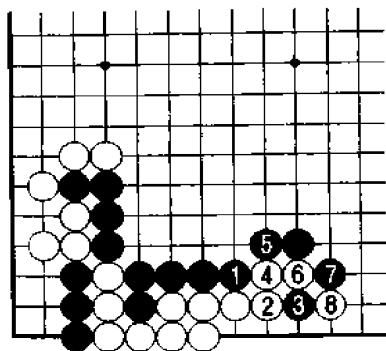


图1 正解继续

续正解图,其后白1只好打吃,黑2下立是要领,白3以下至黑8,黑棋大获全胜。

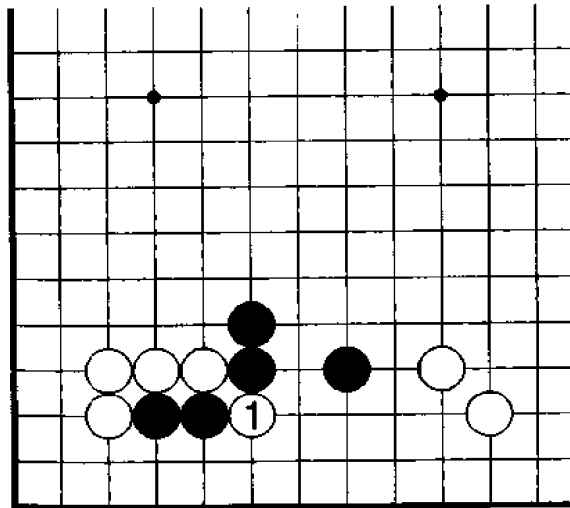
图2 失败

黑1长,白2同样长后,黑棋失败。以下至白8,黑棋大损。



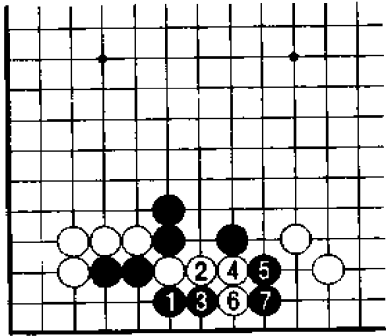
问题 33

黑先



白1断时,初看黑二子已无法生还,但实际上白1是无理棋。那么请问黑棋应如何应对?

问题 33 解答



正解图

黑 1 打吃是正确下法, 白 2 逃, 黑 3 爬, 白 4 时, 黑 5 扳, 至黑 7, 白棋被吃。

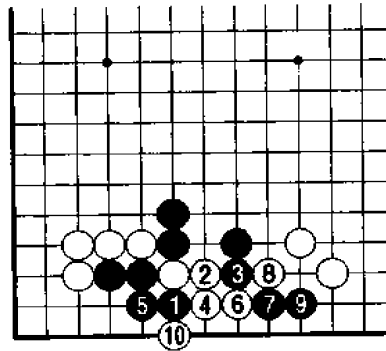


图 1 失败 1

黑 1、白 2 时, 黑 3 挡是大恶手, 白 4 时, 黑 5 连接, 白 6、8 先手利用后, 白 10 扳, 黑棋被吃。

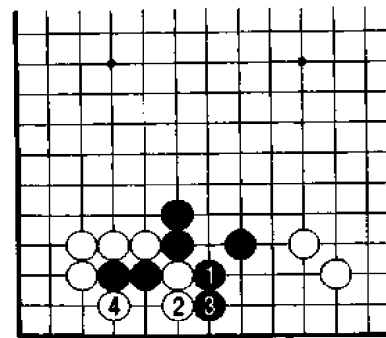
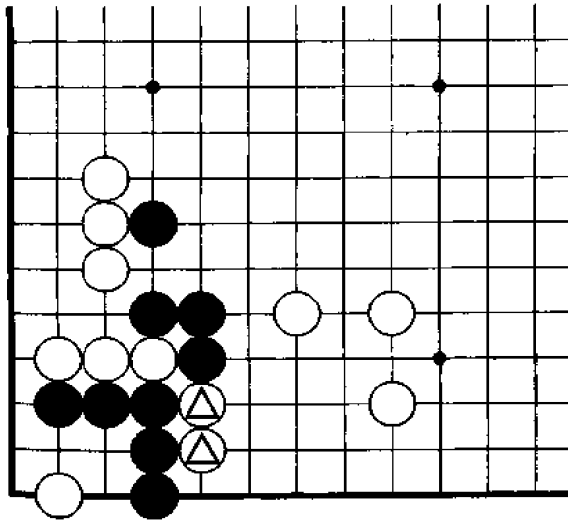


图 2 失败 2

黑棋如果未能发现正解图的下法, 很可能下成本图中的黑 1 打吃, 以下至白 4, 黑损。

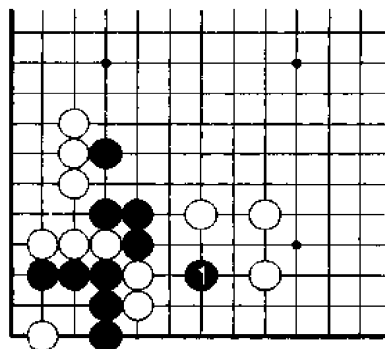
问题 34

黑先



黑棋如果吃不住白△二子，角上黑棋将不可能活。那么请问此时吃白的手筋是什么？

问题34 解答



正解图

黑1飞是吃白二子的手筋，白棋其后不论如何变化都不可能逃脱。后续变化见下图。

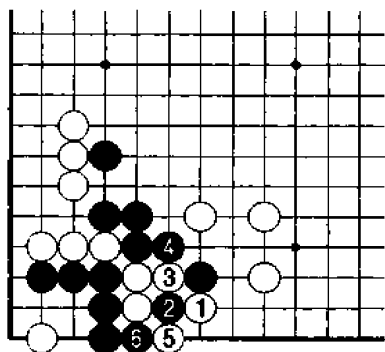


图1 正确继续

续正解图，其后白1托，此时黑2挖是手筋，白3打吃，黑4、6可以滚打。

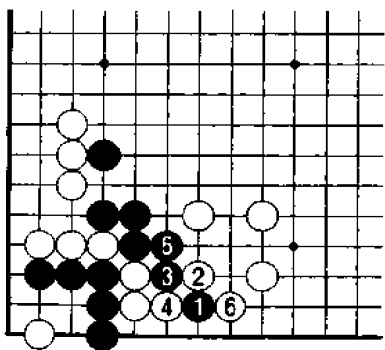
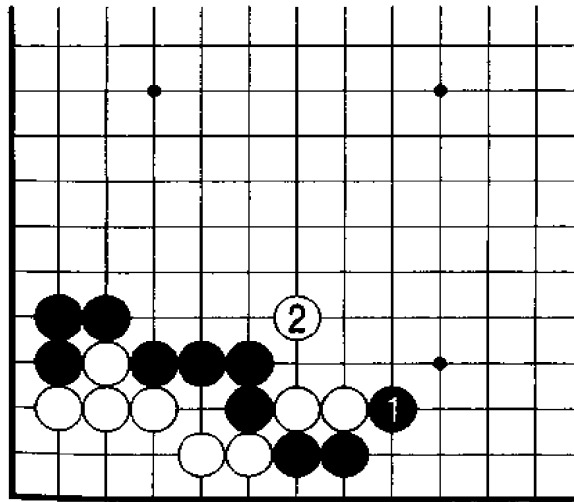


图2 失败

黑1不能成立，白2以下至白6，白棋吃住黑一子，白棋轻松联络。

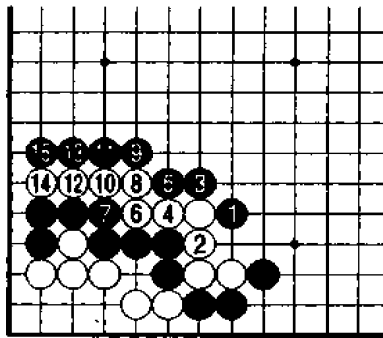
问题 35

黑先



黑 1 扳头时,白 2 单跳,那么请问黑棋现在攻击白棋的急所在哪里?

问题35解答



正解图

黑1是攻击白棋的手筋，白2如果连接，黑3扳以下进行至黑15，黑棋可以全吃白棋。

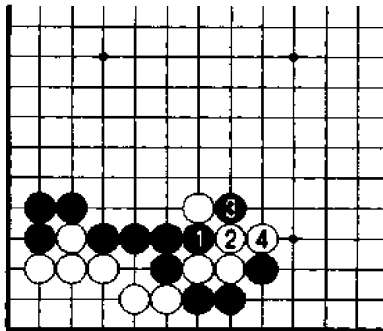


图1 失败1

黑1、3断打是典型的俗手，至白4，白棋成功逃脱，黑棋反而陷入困境。

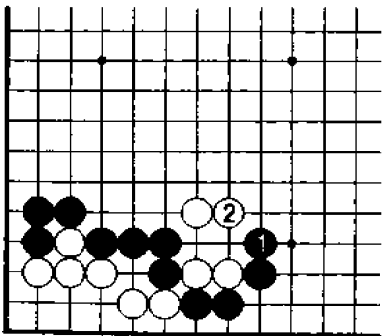
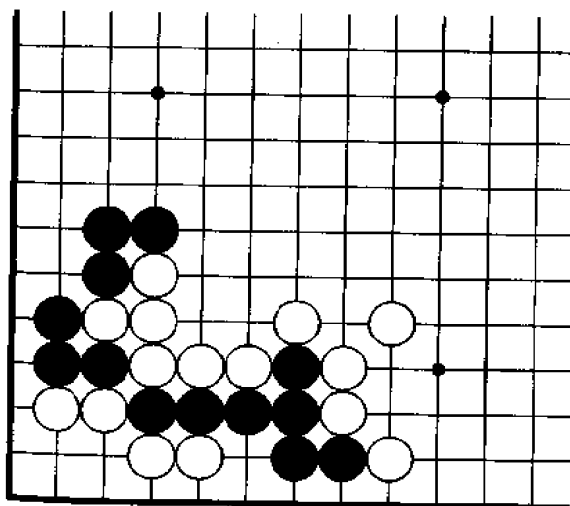


图2 失败2

黑1长同样是错误的，白2双，白棋已然走强。

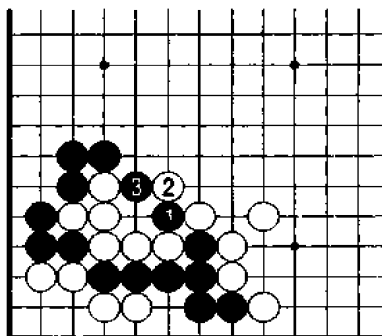
问题 36

黑先



下侧黑棋的大龙已陷入困境，那么请问黑棋能否利用中腹白棋弱点而扭转不利的形势？其正确次序是什么？

问题36 解答



正解图

黑1断是正解，白2如果打吃，黑3可以倒扑白棋。

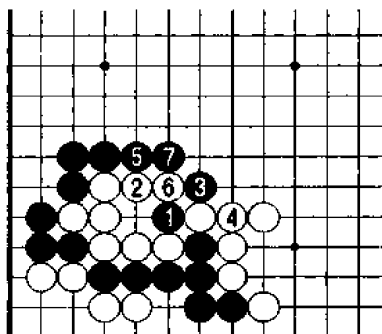


图1 变化1

黑1断时，有白2弯的变化，此时黑3打吃是要领，其后白4如果连接，黑5、7仍可倒扑白棋。

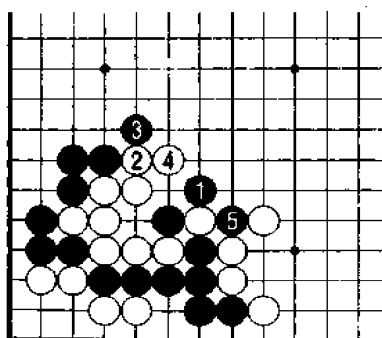
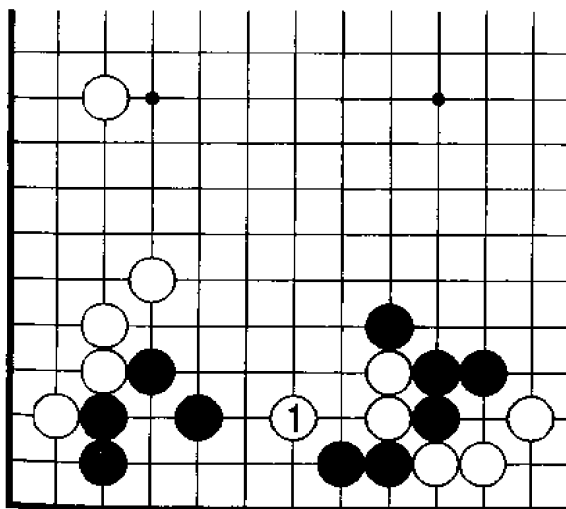


图2 变化2

黑1打吃时，白棋不连接，而白2逃出，其后黑3扳，黑5提，从而可以扭转形势。

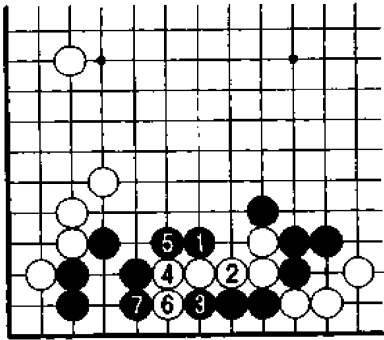
问题 37

黑先



白 1 试图出逃，请问黑棋如何下才能吃住白三子？

问题37解答



正解图

黑1一举击中要害,白2如果连接,黑3以下至黑7,白棋死得更多。

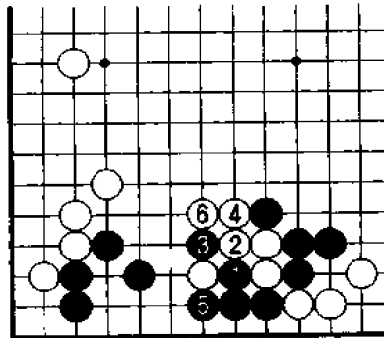


图1 失败1

黑1、3冲断,其后黑5打吃,至白6,中间黑四子反而成为浮棋。

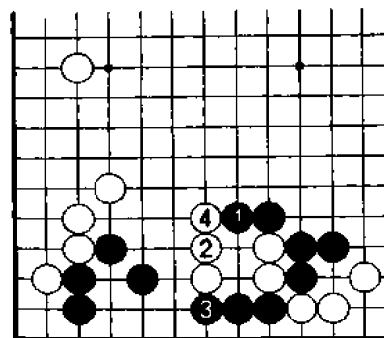
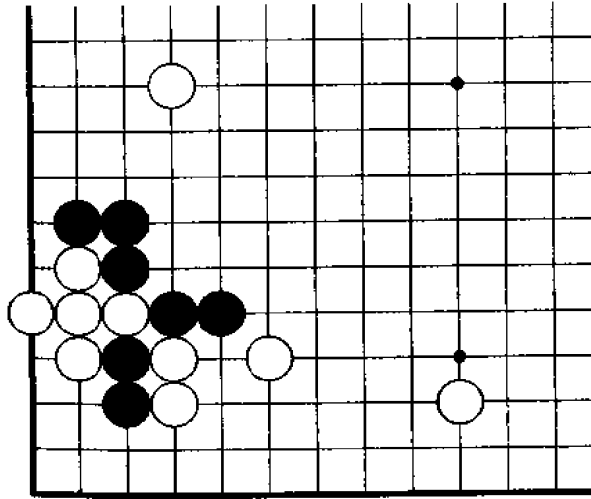


图2 失败2

黑1长看似棋形急所,实际上是错误下法,白2双,以下黑3、白4定形,白棋充分。

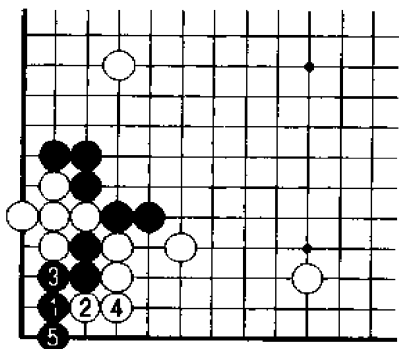
问题 38

黑先



黑白双方是对攻的棋形,在此形势下,请问黑棋如何下才能取得对杀的胜利?

问题 83 解答



正解图

黑 1 尖是最富有弹性的下法，其后若白 2 打吃、白 4 连接，黑 5 下立后，黑棋即告成功。

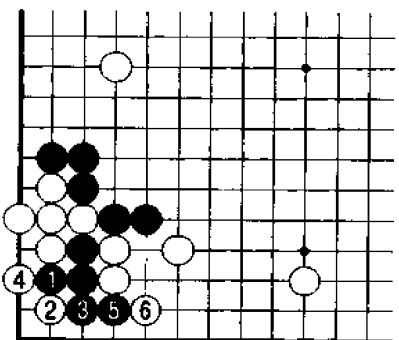


图 1 失败 1

黑 1 挡，白 2 夹是手筋，其后黑 3、5 抵抗，至白 6 挡，黑棋被吃。

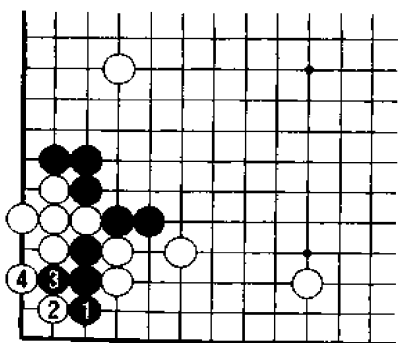
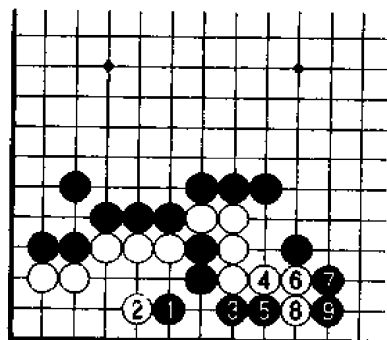


图 2 失败 2

黑 1 长同样不行，白 2 是手筋，以下黑 3、白 4，结果与图 1 大同小异。

问题39解答



正解图

黑1尖是好棋，其后白2挡角，黑3扳以下至黑9，黑棋成功吃住白棋。

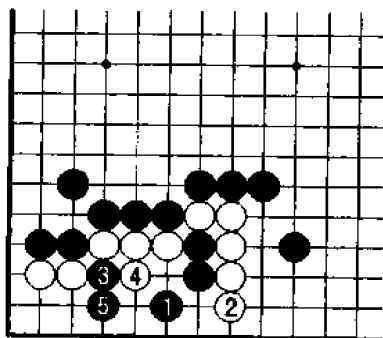


图1 变化

黑1尖时，白棋为避免正解图的进行，而白2下立，此时黑3断可成立。其后白4打吃，黑5长即可。

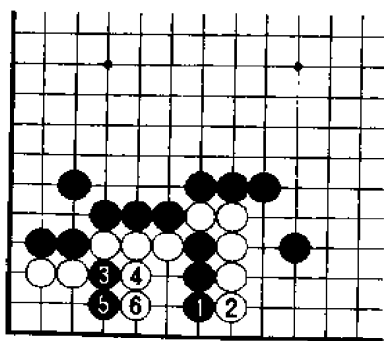
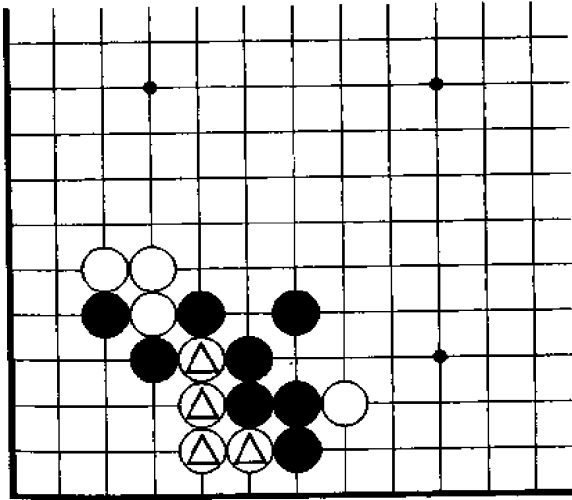


图2 失败

黑1下立，被白2挡后，黑棋只能以失败而告终。以后黑3断，白4、6应，黑无任何手段。

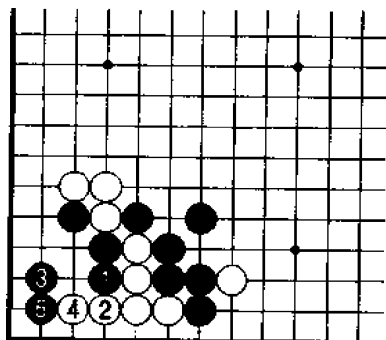
问题 40

黑先



如何吃住白△四子是黑棋面临的大问题。第一手棋和第三手棋非常重要。那么请问黑棋应如何下？

问题40解答



正解图

黑1长，白2时，黑3单跳是取胜的关键。其后白4长，黑5挡，黑棋可以取得对杀的胜利。

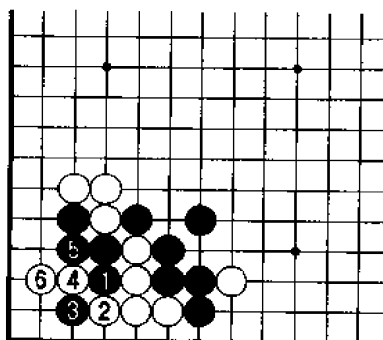


图1 失败1

黑1、白2时，黑3挡是大恶手，白4断后，白6长，黑棋反而被吃。

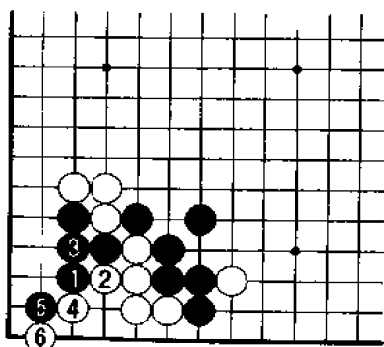
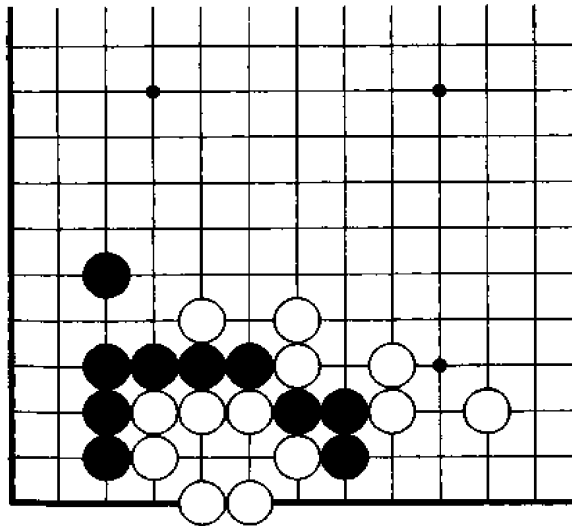


图2 失败2

黑1尖似棋形急所，但在本题中不能成立。白2打吃以下至白6，白棋顽强抵抗，以后双方将下成打劫。

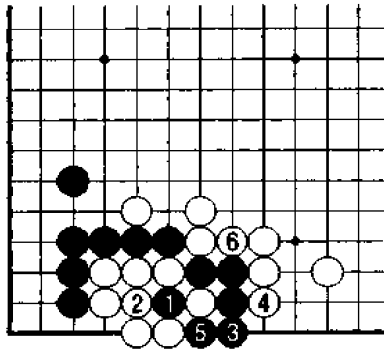
问题41

黑先



黑白双方下成对攻的棋形。黑棋应尽量
避免被白棋有眼杀无眼。如果能下成打劫，
对黑棋来说即可说是成功。那么请问黑棋应
如何下？

问题41 解答



正解图

黑1打吃是手筋，白2如果提子，黑3下立以下至白6，双方成打劫，黑棋还是先手劫。

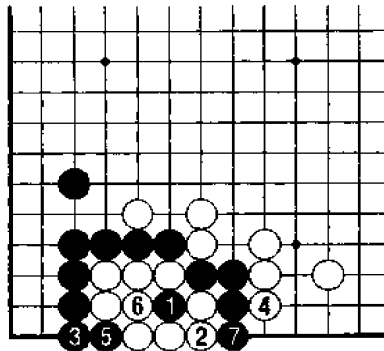


图1 变化

黑1打吃时，白2是大恶手，黑3下立以下至黑7，白棋无条件被吃。

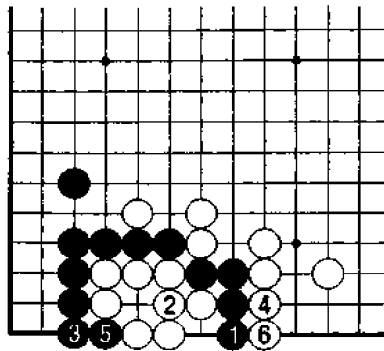
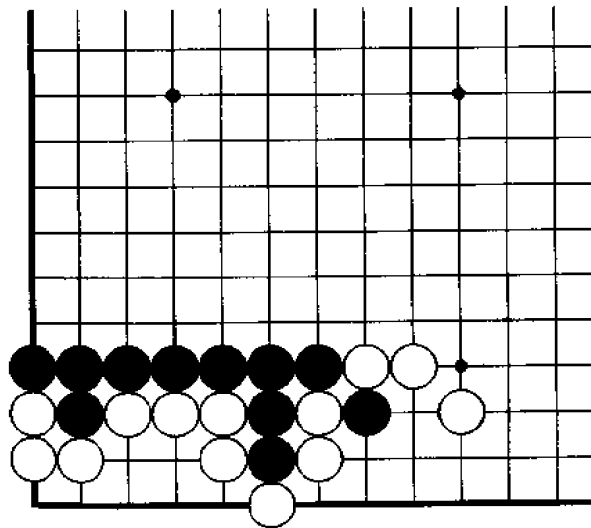


图2 失败

黑1下立不能成立，白2连接，以下至白6，白棋有眼杀无眼。

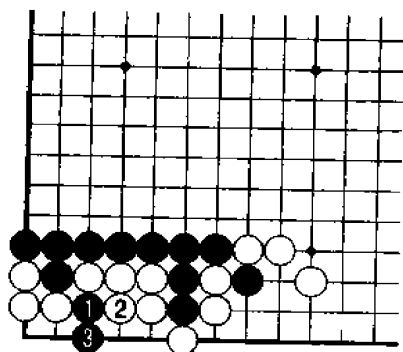
问题 42

黑先



黑棋在本题中如何利用白棋的弱点来获取便宜?其手段是什么?

问题42解答



正解图

黑1断问白棋的应手是绝妙的手筋，如果白2打吃，黑3下立成“金鸡独立”，白棋两侧均不入气。

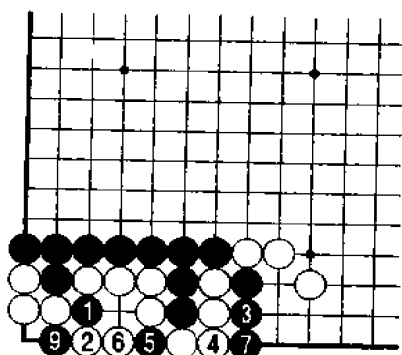


图1 变化

黑1断时，白2打吃，黑3打吃后，黑5扑是好棋，以下至黑9，成双倒扑的棋形。

⑧ = ⑤

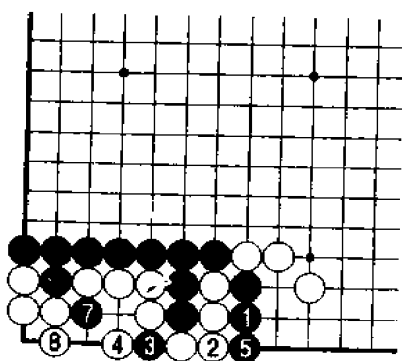


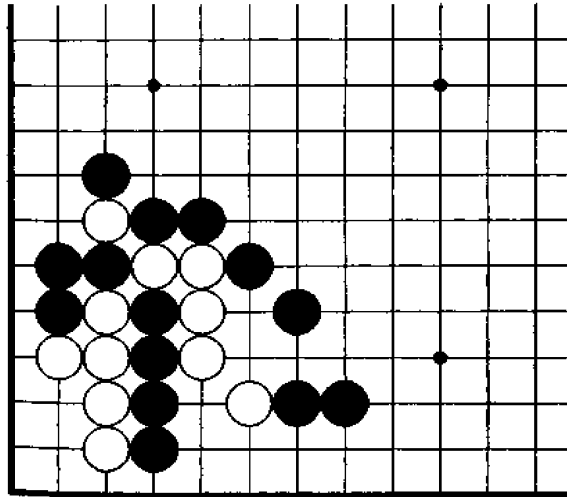
图2 失败

黑1打吃以下至白6，黑行棋次序错误，其后黑7断时，白8下立即平安无事。

⑥ = ③

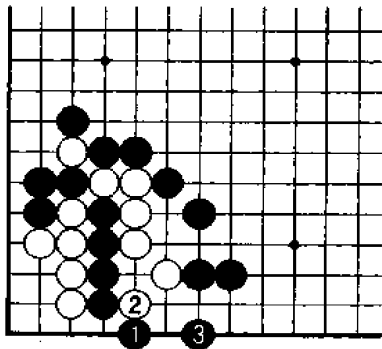
问题 43

黑先



角上黑四子已几乎被白棋吃住，但只要黑棋下出手筋，完全可能反败为胜。那么请问黑棋应如何下？

问题43解答



正解图

黑1尖是手筋，白2如果尖顶，黑3跳便可轻松联络。

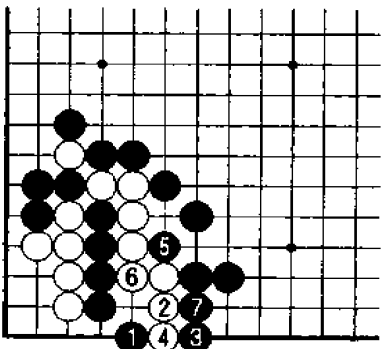


图1 变化

黑1时，白2立是最顽强的抵抗，但黑3单跳是手筋，白4以下至黑7，白棋被吃。

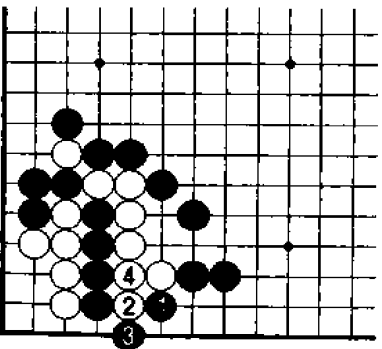
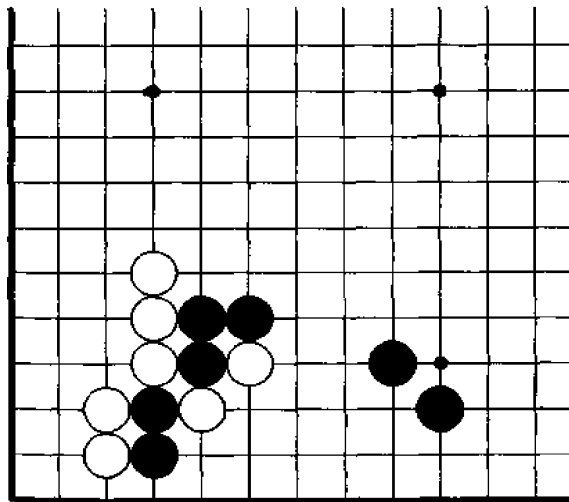


图2 失败

黑1单扳是大恶手，白2挖，黑3打吃，白4连接，黑棋被吃。

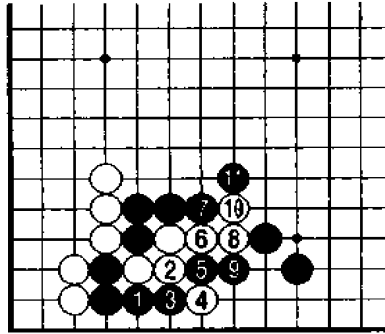
问题 44

黑先



下侧黑二子已陷入困境，但黑棋可以利用自己征子有利的前提，进行顽强的抵抗。那么请问黑棋如何下最佳？

问题44解答



正解图

黑1打吃是最强下法，白2如果连接，黑3长，白4时，黑5断打是要领，以下进行至黑11，黑棋可以征吃白棋。

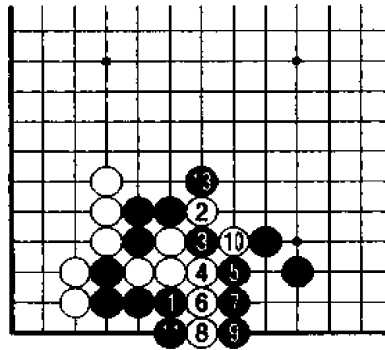


图1 变化

黑1长时，白2如果扳，黑3断后，黑5打吃是要领，以下进行至黑13，结果与图1同样。

⑫ = ③

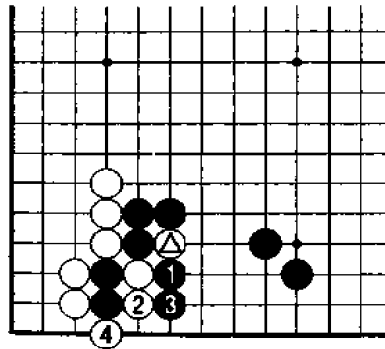
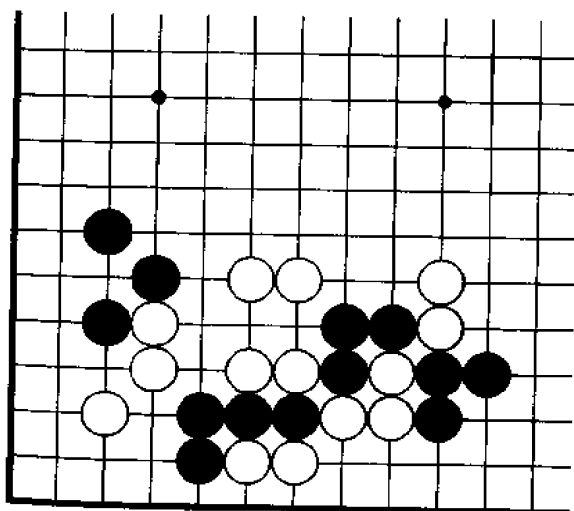


图2 失败

黑1打吃，准备抛弃二子，以下黑3、白4，白⊙一子仍有活动的余味。

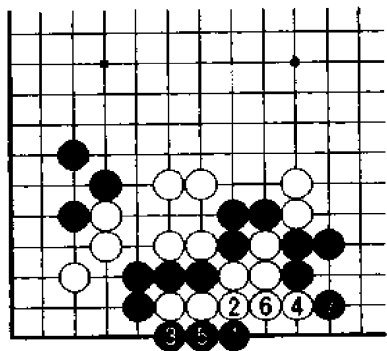


黑先



黑白双方已下成对杀的棋形，中腹被围困的黑三子只剩下三口气。那么请问黑棋应如何下？

问题45解答



正解图

黑1是取胜的绝妙手筋，白2如果连接，黑3扳是要领，以下进行至黑7，黑棋可以吃住白棋。

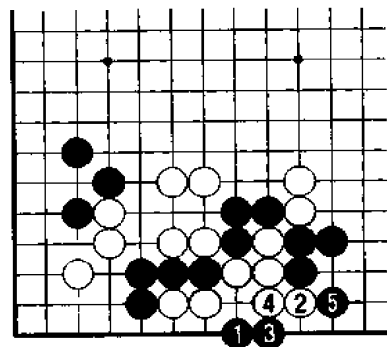


图1 变化

黑1时，白2如果扳，黑3是好棋，白4只有连接，黑5扳后，黑棋仍可取胜。

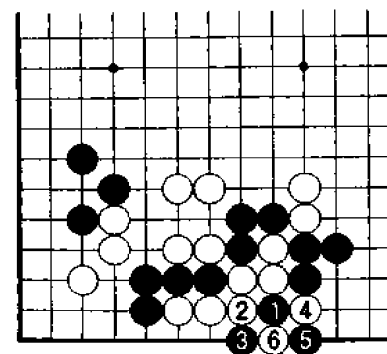
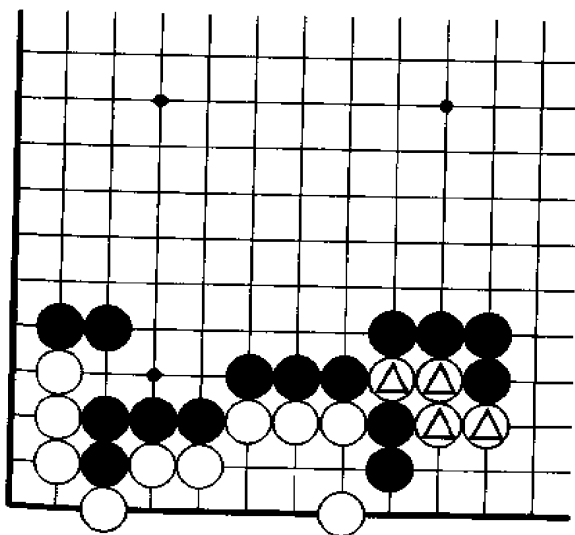


图2 失败

黑1打错误，白2连接，黑3扳以下至白6，双方下成打劫。

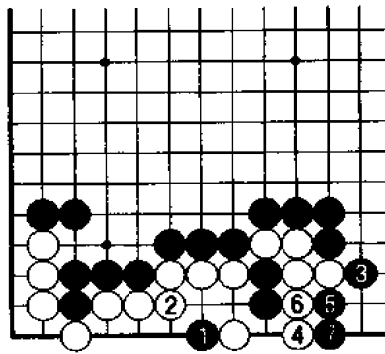
问题 46

黑先



黑棋如何吃住白△四子是面临的首要问题。如果直接收气,黑棋将短一气,因此黑棋在紧气之前应该做一些准备。那么请问黑棋应如何下?

问题46解答



正解图

黑1问白棋的应手绝妙，白2如果联络，黑3扳是要领，以下至黑7，可看出黑1的作用。

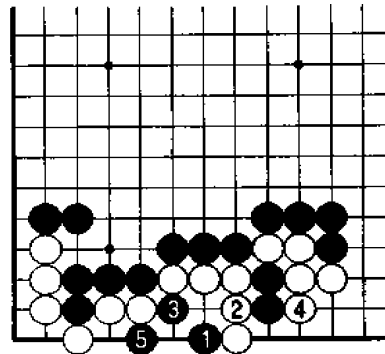


图1 变化

黑1时，白棋如果为避免正解图的进行，于白2连接，黑3则断，至黑5打吃，黑棋可以控制角地。

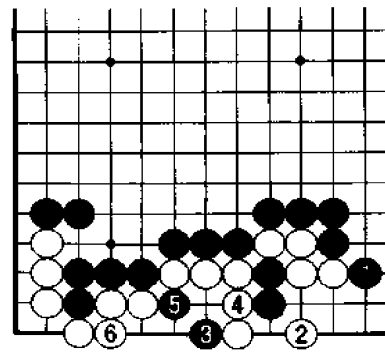
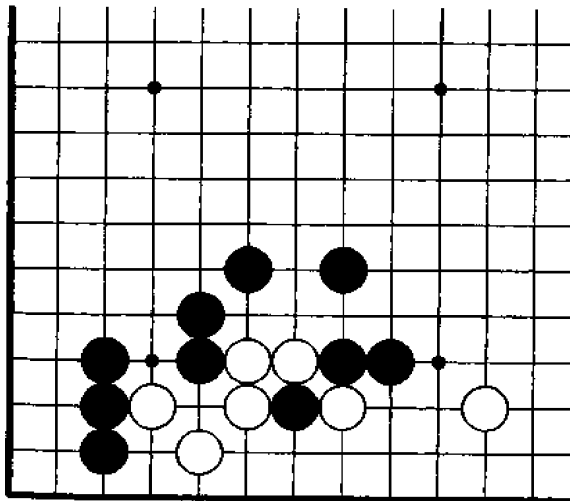


图2 失败

黑1扳次序错误，白2单跳是好棋，以下至白6，黑棋不行。

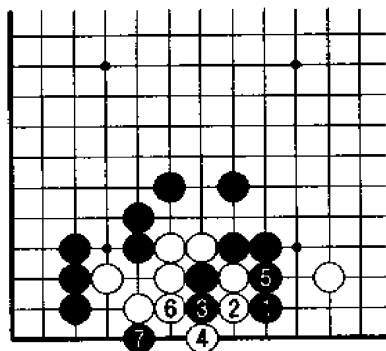
问题 47

黑先



在本题中，黑棋不仅要考虑切断白棋的联络，还应寻求吃住整块白棋的方法。那么请问黑棋应如何下？

问题47解答



正解图

黑1跳是有效的一手，白2如果下立，黑3下立是好棋，以下至黑7，黑棋可以吃住整块白棋。

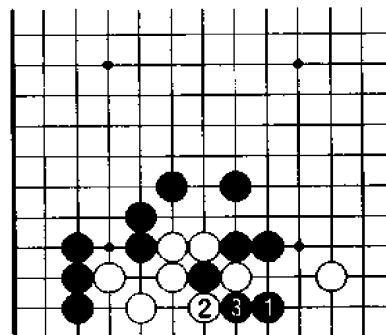


图1 变化

黑1跳时，白2如果提子，黑3是急所，其后白棋无论如何努力，也不可能做出两只眼。

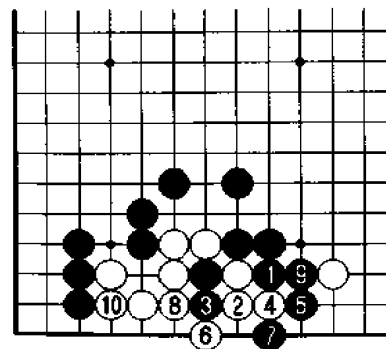
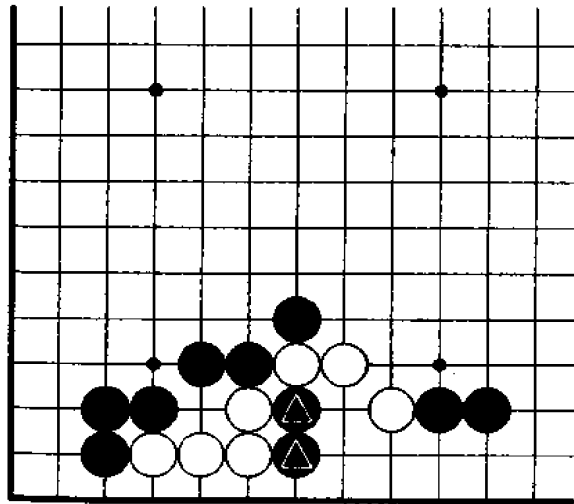


图2 失败

黑1打吃，是在帮白棋做活，白2下立以下至白10，白棋做出两只眼。

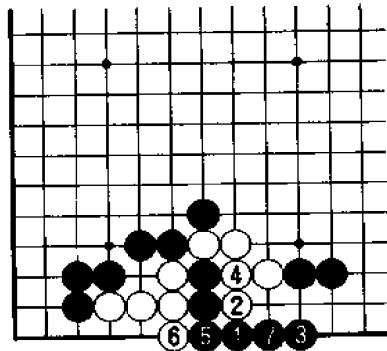


黑先



黑△二子和右侧黑子如何联络是黑棋面临的问题，如能下成打劫即告成功。请问黑棋应如何下？

问题48解答



正解图

黑1尖是联络的惟一头绪，白2如果尖顶，黑3跳，以下至黑7，黑棋成功地联络。

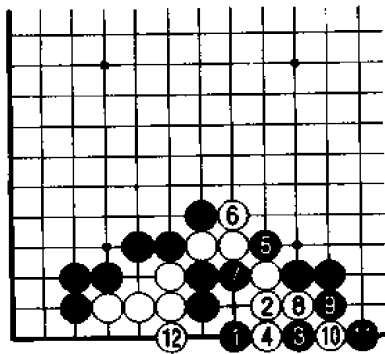


图1 变化

黑1时，白2是最强应手，黑3跳以下至黑11，黑棋可以下成打劫，而且黑棋是先手劫。

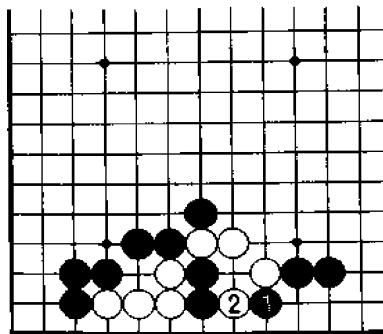
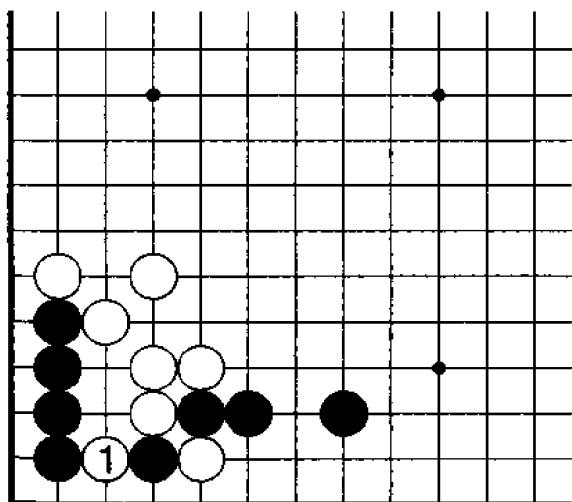


图2 失败

黑1单扳，白2挖后，黑棋已不可能抵抗。

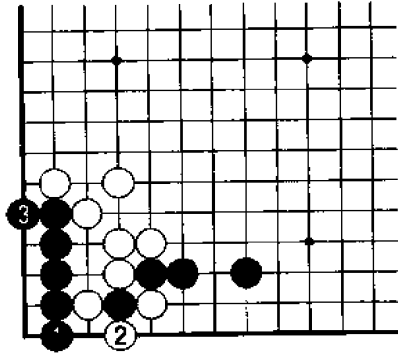
问题 49

黑先



白 1 打吃，现在黑棋如何利用白棋的弱点来活角？

问题49解答



正解图

黑1下立是惟一一手，白2如果提子，黑3即可轻松活棋。

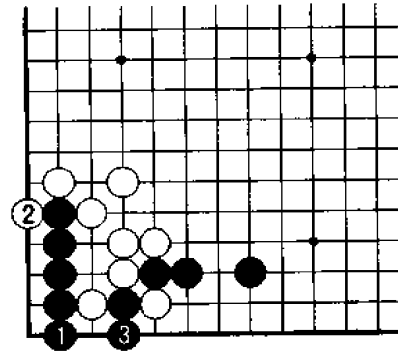


图1 变化

黑1下立时，白2如果扳，黑3下立后，黑棋可以和右边取得联络。

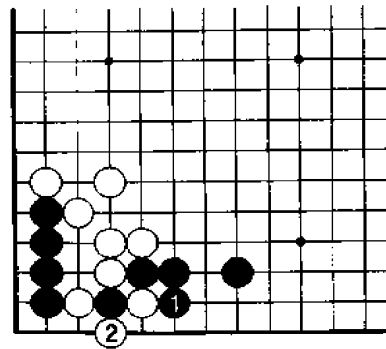
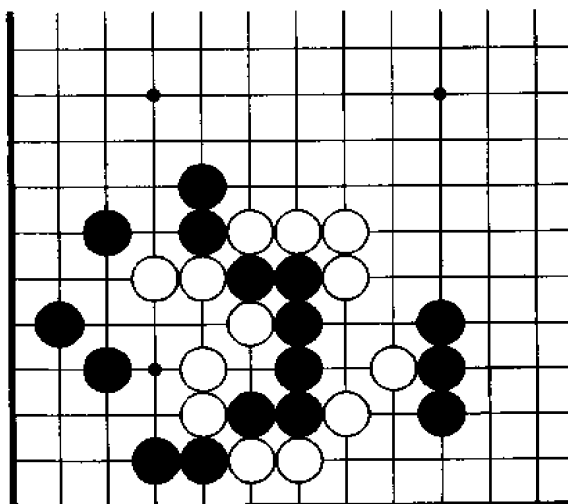


图2 失败

黑1打吃是大恶手，白2提子后，角上黑棋只能束手就擒。

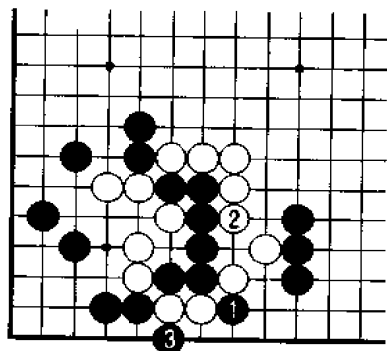
问题 50

黑先



被白棋包围的黑棋五子已非常危险，那么请问黑棋如何利用白棋的弱点来摆脱危机？

问题50解答



正解图

黑1断是利用白棋弱点的手筋,白2联络,黑3打吃后,黑棋成功联络。

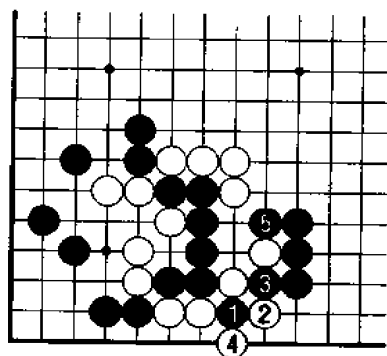


图1 变化1

黑1断时,白2如果打吃,黑3反打巧妙,其后白4提子,黑5打吃,黑棋获利更大。

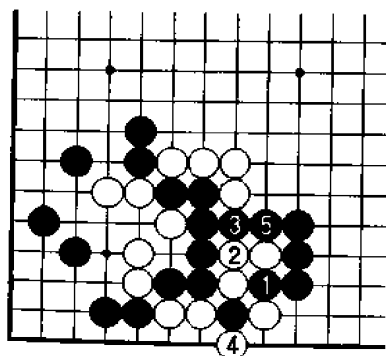
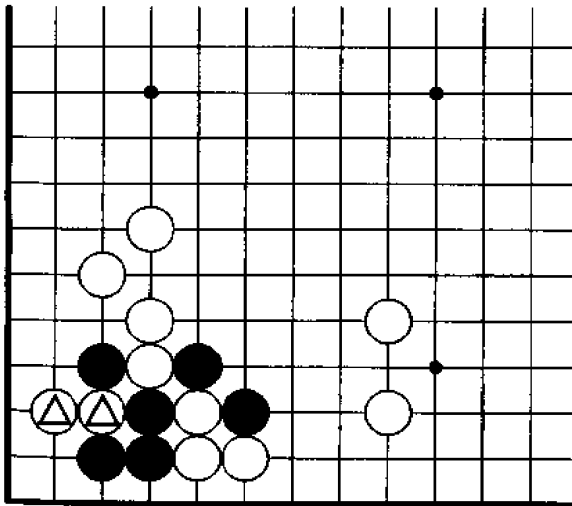


图2 变化2

黑1打吃时,白2如果连接,以下至黑5,白棋同样不行。

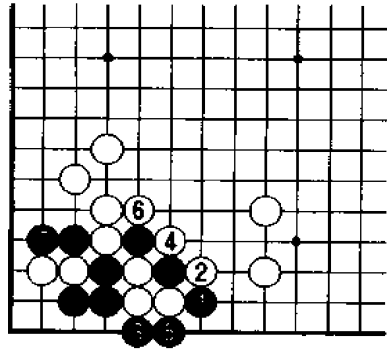
问题 51

黑先



角上的黑棋只有吃住白△二子才能活，那么请问黑棋如何利用角的特殊性来解答此题？

问题51解答



正解图

黑1扳以下至黑5，是非常重要的先手次序，其后白6提子时，黑7再挡，后续变化见下图。

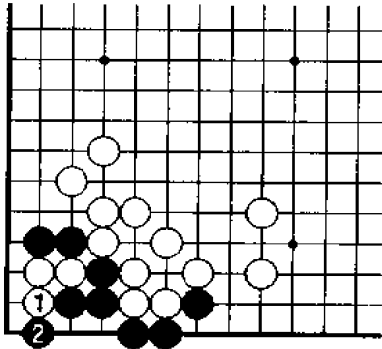


图1 正解继续

续正解图，其后白1抵抗，黑2扳，黑棋可以利用角的特殊性做活。

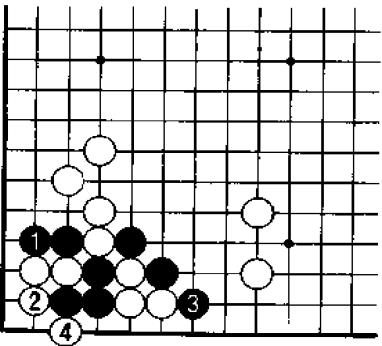
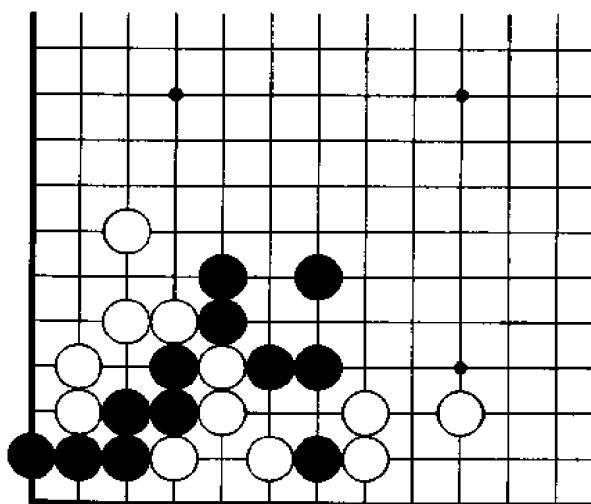


图2 失败

黑1直接挡次序错误，白2时，黑3再扳已来不及，至白4，黑棋被吃。

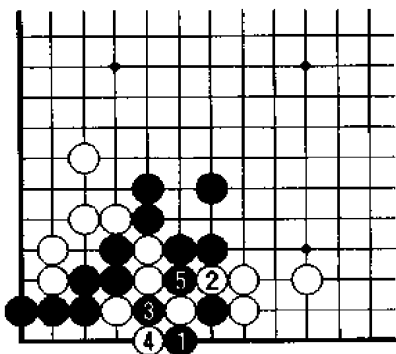


黑先



角上黑六子初看已不可能活，但白棋同样有弱点。那么请问黑棋如何利用白棋的弱点救活六子？

问题52解答



正解图

黑1扳是绝妙的手筋，白2如果打吃，黑3扑是准备好的次序，白4时，黑5打吃，从而可以吃住白二子。

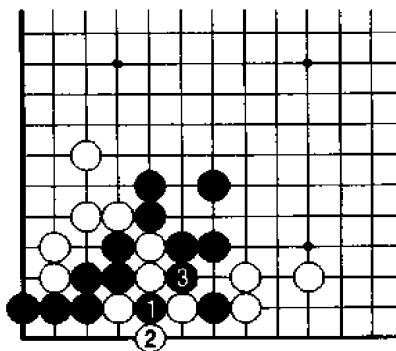


图1 失败1

黑1先扑，白2提子后，黑棋失败。

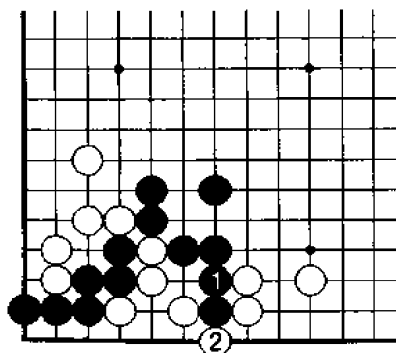
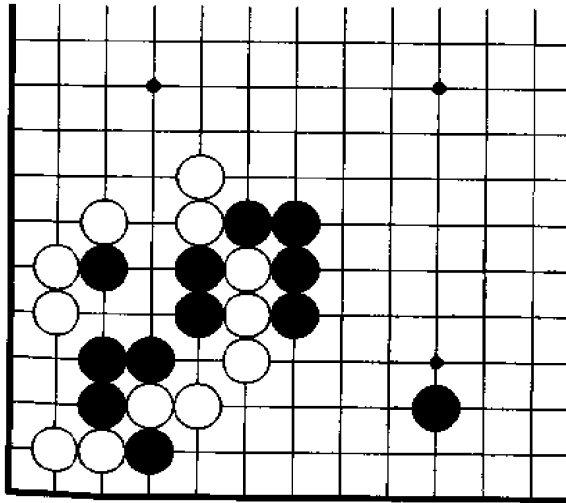


图2 失败2

黑1连接是不负责的下法，白2渡过后，角上黑棋只能束手就擒。

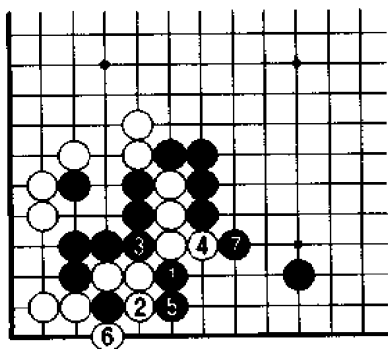
问题 53

黑先



本题中的黑棋如以普通的下法不可能扭转形势,那么请问黑棋应如何下?

问题 53 解答



正解图

黑 1 掖是解决问题的手筋, 白 2 只好后退, 黑 3 以下至黑 7, 黑棋如愿以偿。

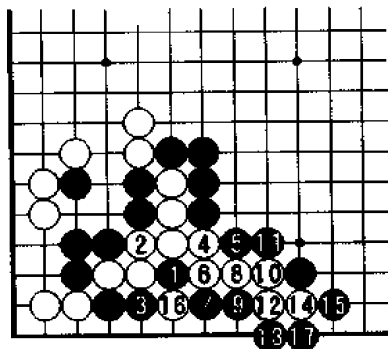


图 1 变化

黑 1 时, 白 2 连接无理, 黑 3 打吃以下至黑 17, 白棋大龙被吃。

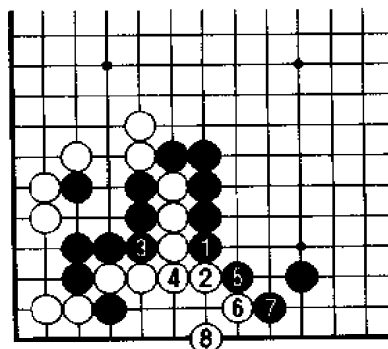
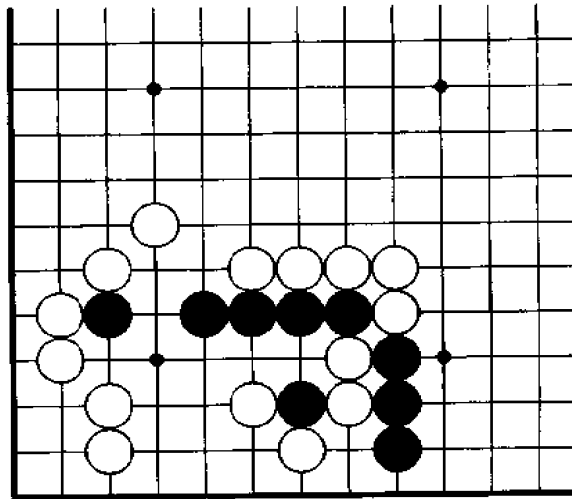


图 2 失败

黑 1 与白 2 交换是大恶手, 黑 3 打吃以下至白 8, 黑棋大损。

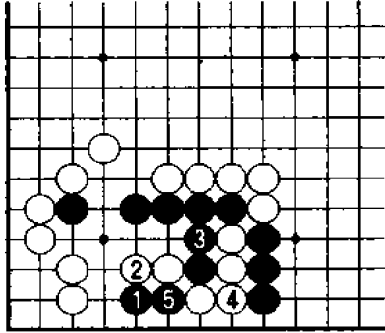
问题 54

黑先



黑棋已处于危机之中，但只要能发现手筋即可轻松解决问题。那么请问黑棋的手筋是什么？

问题54解答



正解图

黑1点是手筋，白2如果冲，黑3打吃后，黑5断，黑棋可以吃住白二子。

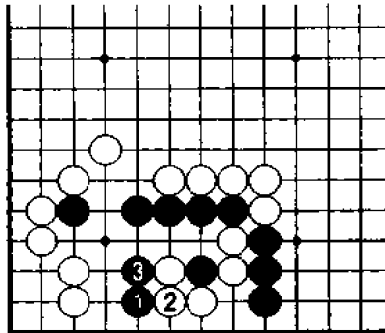


图1 变化

黑1点时，白棋为避免正解图的进行，而白2连接，黑3挡即可，白棋损失更大。

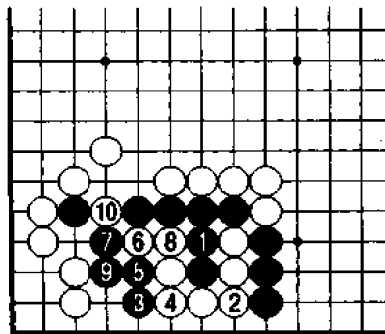

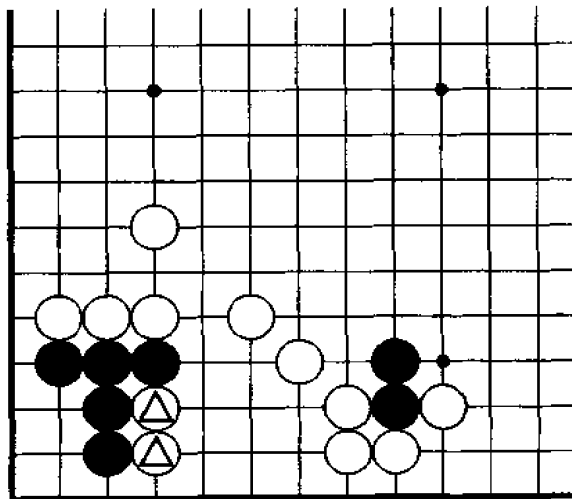


图2 失败

黑1与白2交换后再黑3点次序错误，白4连接以下进行至白10，白棋在对杀中快一口气。

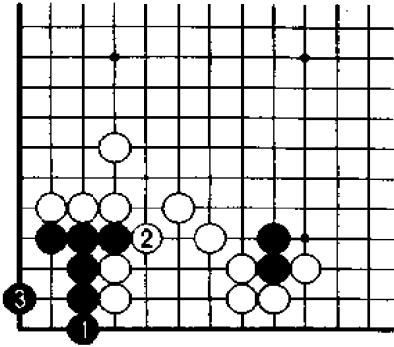


黑先



本问题是黑棋如何才能能在角上做活。只有正确利用白△二子的弱点才能解决问题。那么请问其正确的下法是什么？

问题55解答



正解图

黑1下立是做活的手筋，其后白2挡，黑3补活。

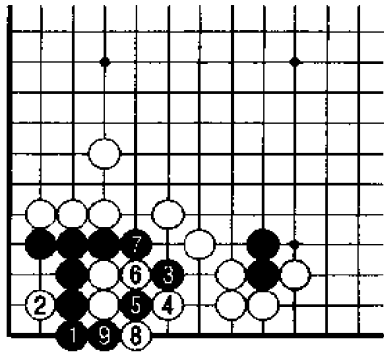


图1 变化

黑1时，白2点眼无理，黑3飞是手筋，白4时，黑5挖又是准备好的手段，以下至黑9，白棋接不归。

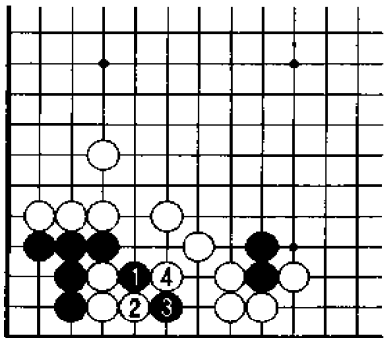
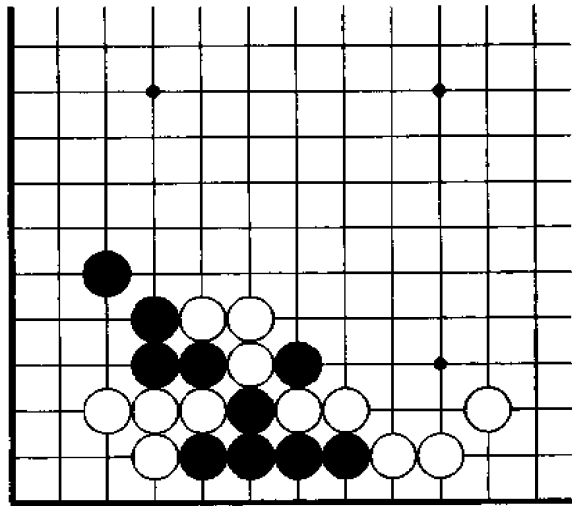


图2 失败

黑1扳是大恶手，白2时，黑3扳，白4断打，黑棋无应手。

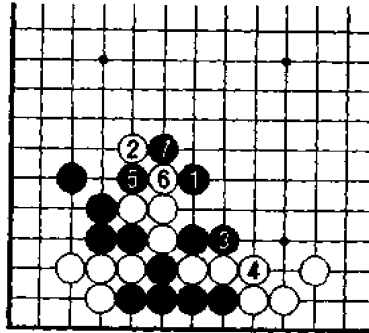


黑先



如何攻击白棋的弱点，打吃的时机是关键。请问黑棋应如何下？

问题56解答



正解图

黑棋保留打吃的权利，黑1单封是手筋，白2出逃，黑3利用先手后，黑5挖，至黑7，黑棋可以征吃白棋。

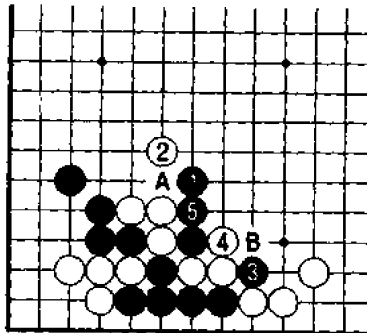


图1 变化

黑1封时，如果白2跳，黑3打吃之后，黑5连接是次序，以后黑棋只要在A位和B位中居其一即可。

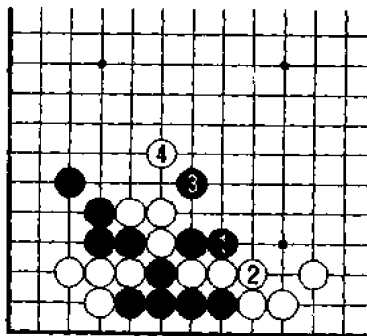
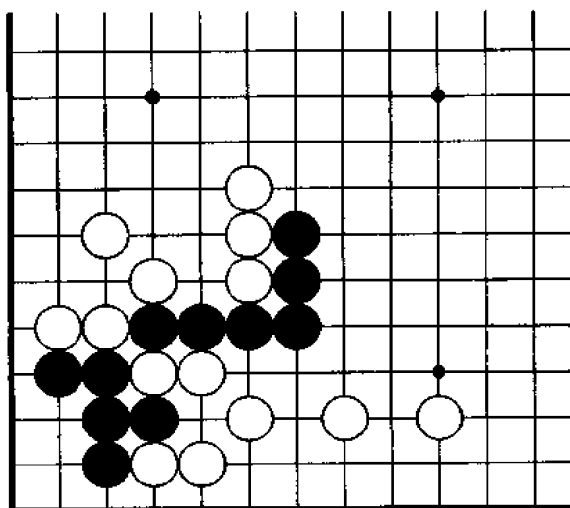


图2 失败

黑1打吃，让白2连接之后，黑1成为大恶手。其后黑3攻击，白4后，白棋成功逃脱。

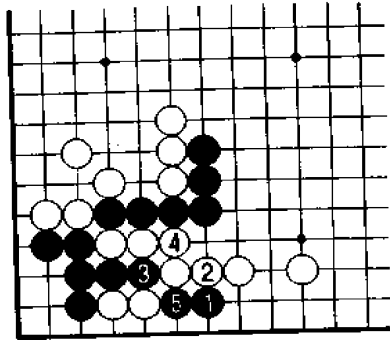


黑先



角上黑棋本身已肯定做不活，但可以利用周边白棋的缺点而不被杀。那么请问其急所在哪里？

问题 57 解答



正解图

黑 1 点是手筋，白 2 如果连接，黑 3 打吃，然后黑 5 断，黑棋可以吃住白二子。

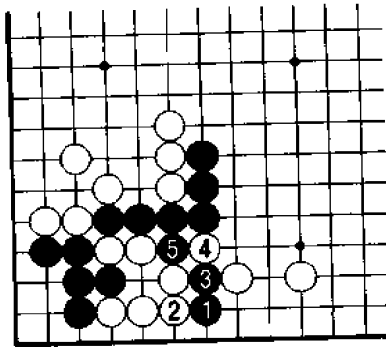


图 1 变化

黑 1 点时，白 2 如果变化，黑 3 简单冲即可。其后白 4 挡，黑 5 可双叫吃。

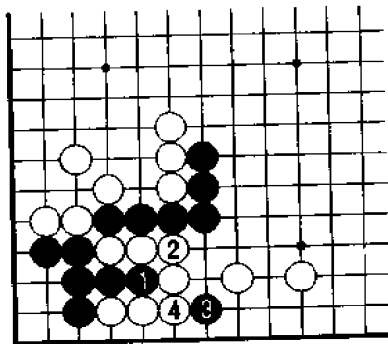
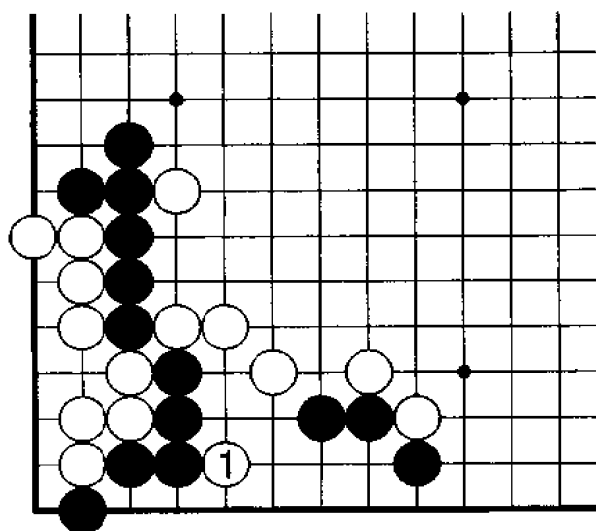


图 2 失败

黑 1 与白 2 交换后，黑 3 再点次序错误，白 4 简单连接，黑棋失败。

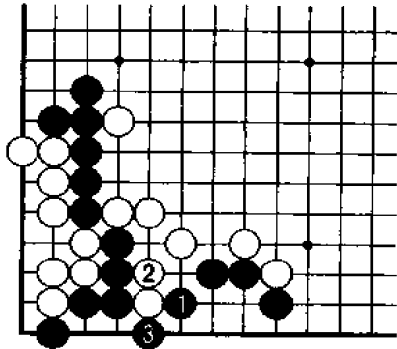
问题 58

黑先



白1靠,意在分割黑棋,此时黑棋如果应对不好,将会惨遭不幸。那么请问黑棋的安全下法是什么?

问题58解答



正解图

黑1夹是最正确的联络方法，白2如果连接，黑3安然渡过。

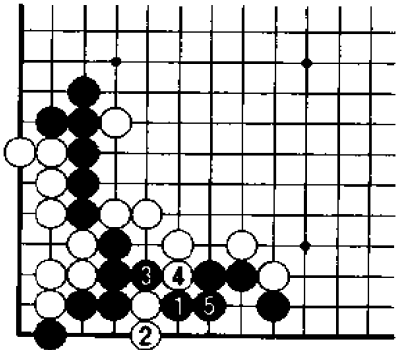


图1 变化

黑1夹时，白2如果下立，黑3断即可简单解决问题。其后白4如果断，黑5连接，与正解图相比，白棋损失更大。

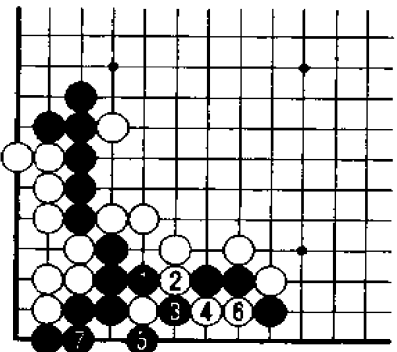

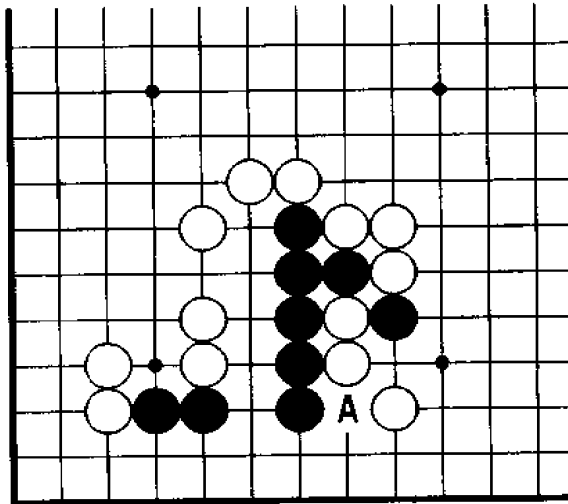


图2 失败

黑1、3打吃白一子正中白计，至白6打吃，白棋收获很大。

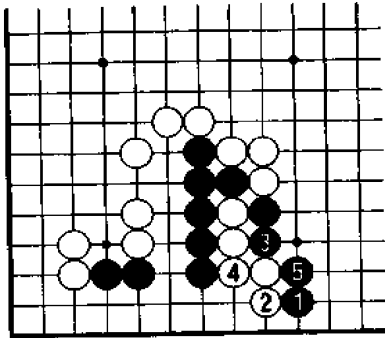


黑先



黑棋在 A 位打吃，做活即没有困难。那么请问黑棋有无更加有效的下法？

问题 59 解答



正解图

黑 1 在二路点是手筋，白 2 切断无理，黑 3 打吃后，黑 5 挡，黑棋可以吃住一块白棋。

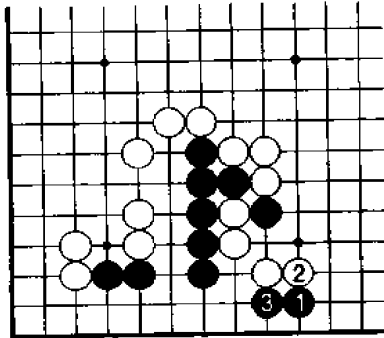


图 1 变化

黑 1 点时，白 2 如果压，黑 3 联络后，黑棋的效率很高。

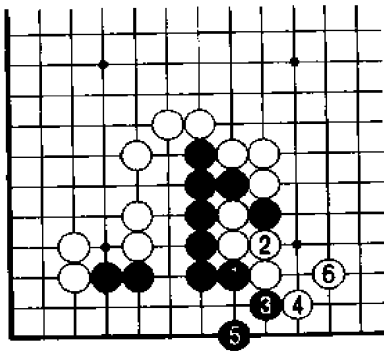
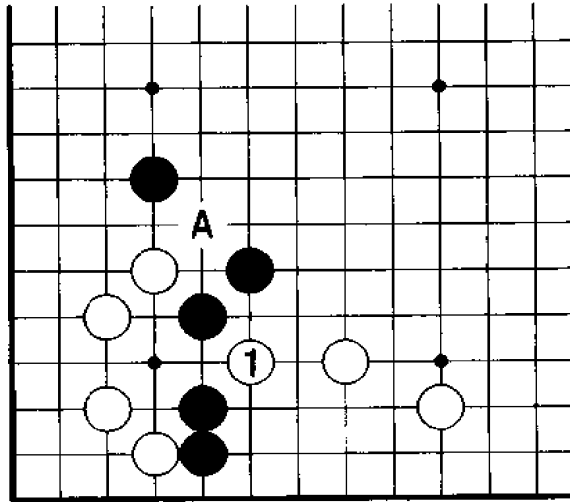


图 2 失败

黑 1 打吃，白 2 时，黑 3、5 做活是低手的下法，白 6 虎后，白棋构筑成坚厚的外势。

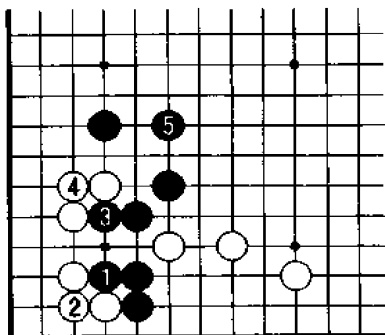
问题 60

黑先



白 1 刺, 白棋的意图是让黑棋连接, 然后白 A 穿象眼, 从而分割并攻击黑棋。那么请问黑棋应如何应付?

问题60解答



正解图

黑1挤是好棋，白2如果连接，黑3再双，白4必须连接，黑5跳补，黑棋可以整形。

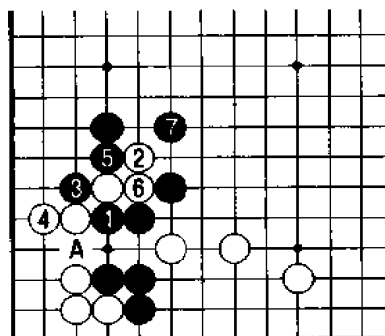


图1 变化

黑1双时，白2反击无理，黑3断是手筋，由于A位的弱点，白4只好下立，以下至黑7，黑棋有利。

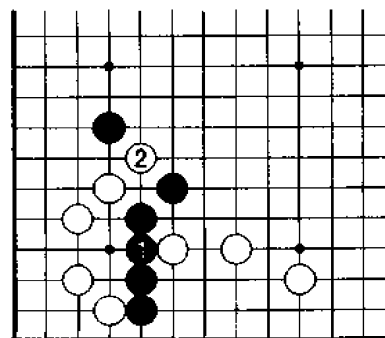


图2 失败

黑1直接连接无谋，白2穿象眼是急所，黑棋整体受攻。

下 篇

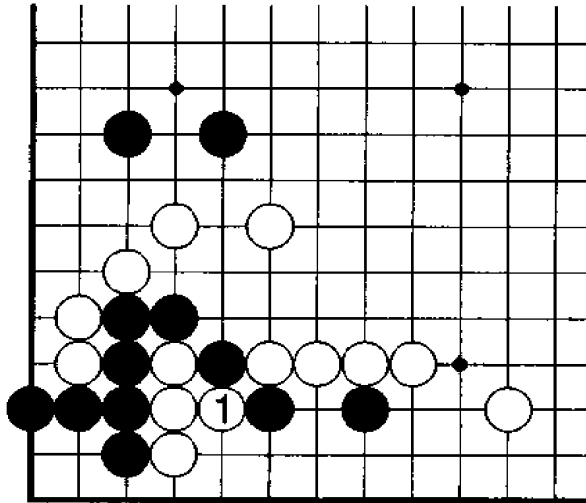
問題 61 ~ 115

Created by Tasita

Created by Tasita

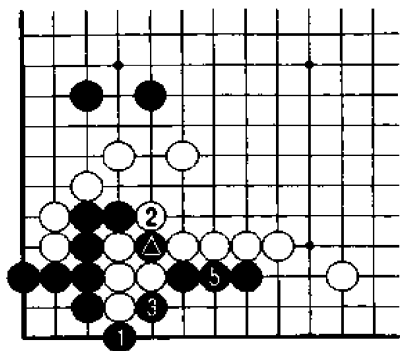
问题 61

黑先



白 1 打吃时,角上黑棋本身仍未活,那么
请问黑棋如何利用白棋的弱点来做活?

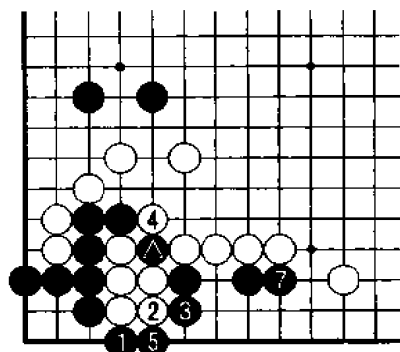
问题61 解答



④ = ⑤

正解图

黑1打吃是要领，白2如果提子，黑3打吃后，黑5连接，黑棋由此可以做活。



⑥ = ④

图1 变化

黑1打吃时，白2应，黑3打吃是要领，白4只好提子，黑5先手利用后，黑7长，黑棋同样可以活。

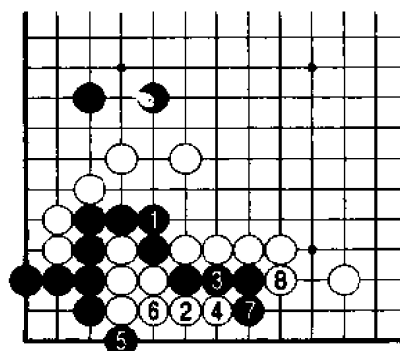
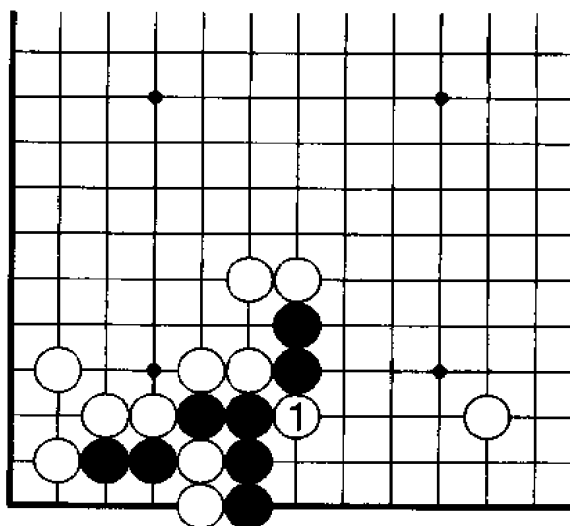


图2 失败

黑1连接是败着，白2打吃是好棋，以下进行至白8，黑棋整体被吃。

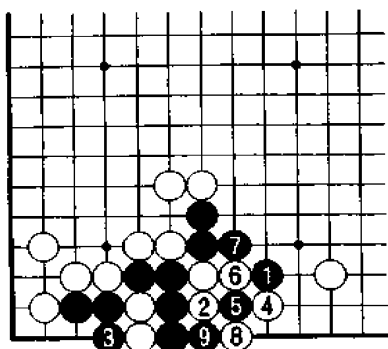
问题 62

黑先



白1断,黑棋有点不好应。那么请问黑棋如何下最佳?

问题62解答



正解图

黑1飞是手筋,其后白2打吃、白4托时,黑5挖以下至黑9,黑棋可以吃白三子。

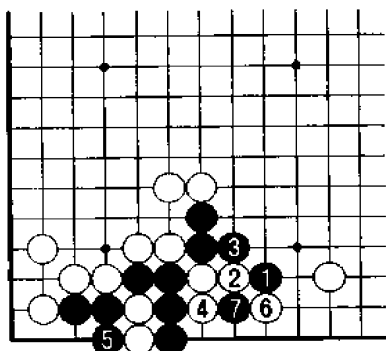


图1 变化

黑1飞时,白2如果顶,黑3挡即可,其后白4、6时,黑7扑,结果与正解图相同。

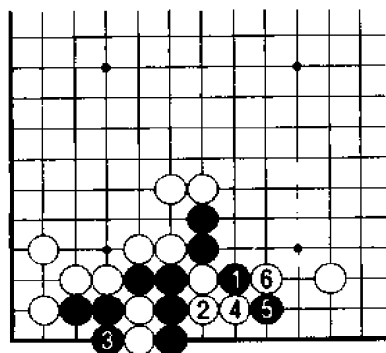
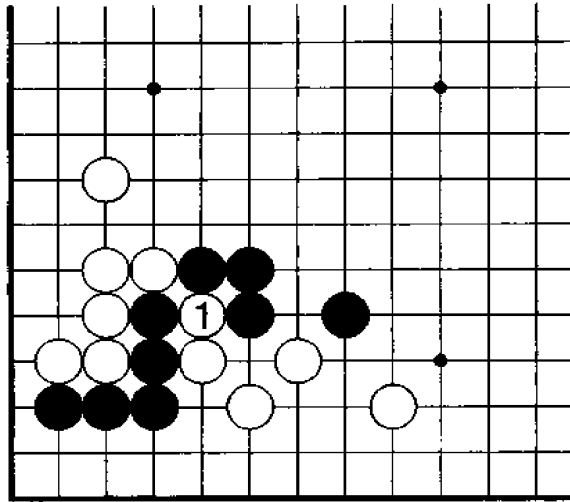


图2 失败

黑1打吃是败着,白2反打吃,其后白4爬,至白6打吃,黑棋已无法继续抵抗。

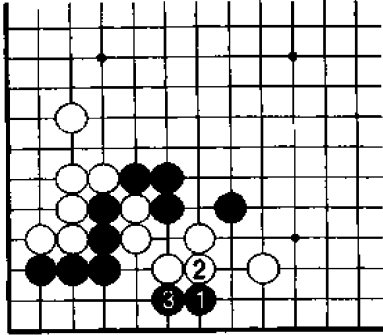
问题 63

黑先



白1断,白棋怎么办,前面我们已提出过类似的问题。那么请问本题的急所在哪里?

问题 63 解答



正解图

黑 1 点是急所，其后白 2 补弱点，黑 3 联络，黑棋由此可以做活。

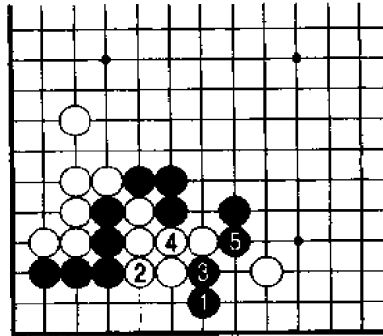


图 1 变化

黑 1 点时，白 2 连接无理，黑 3 顶后，黑 5 断，黑棋可以吃住白棋。

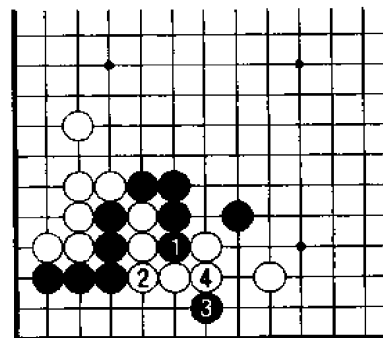
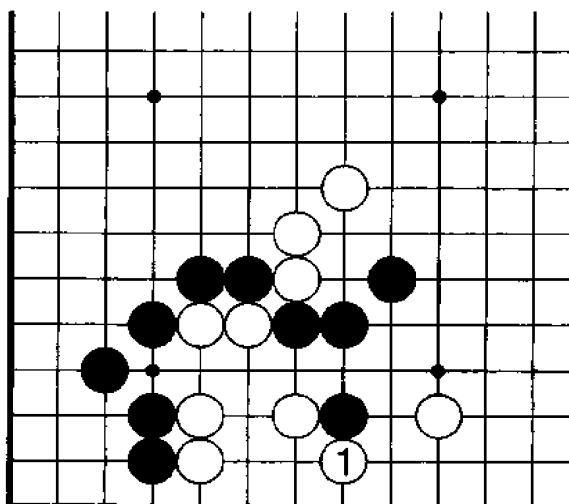


图 2 失败

黑 1 打吃，让白 2 连接之后，黑棋失败。其后黑 3 点，白 4 连接，黑棋无手段。

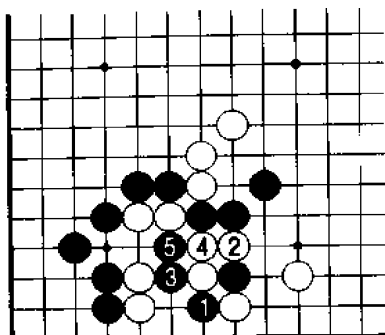
问题 64

黑先



白1扳,看起来白棋左右已经联络,但仔细分析,白棋仍存在致命的弱点。那么请问黑棋应如何下?

问题64解答



正解图

黑1断是锐利的手筋，白2如果打吃，黑3、5都是好棋，黑棋可以吃住白数子。

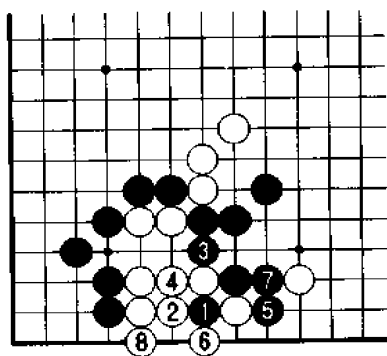


图1 变化

黑1断时，有白2打吃的变化，此时黑3打吃是好棋，以下至黑7，黑棋可以分断白棋。

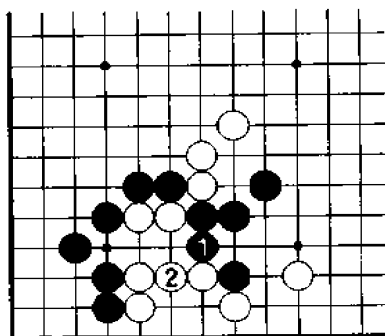
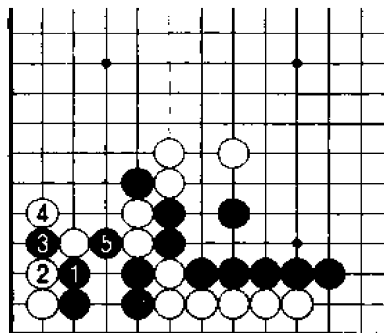


图2 失败

黑1顶是败着，白2连接后，中腹黑五子已非常弱。

问题65解答



正解图

黑1顶是好棋，白2联络时，黑3断是与黑1连贯的手筋，其后白4如果打吃，黑5可以双打吃。

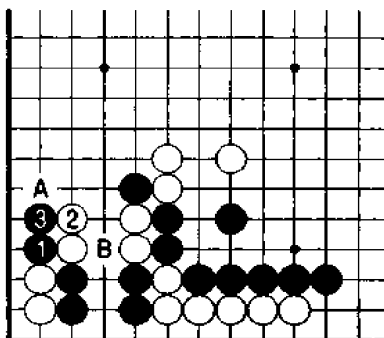


图1 变化

黑1断时，白2如果退，黑3爬是好棋，以后白A如果挡，黑B打吃即可。

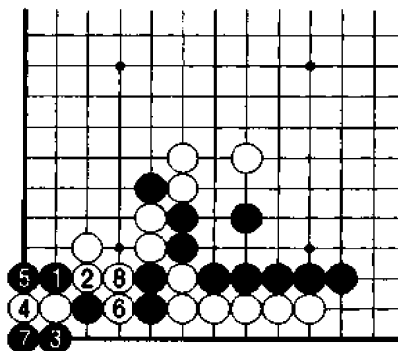
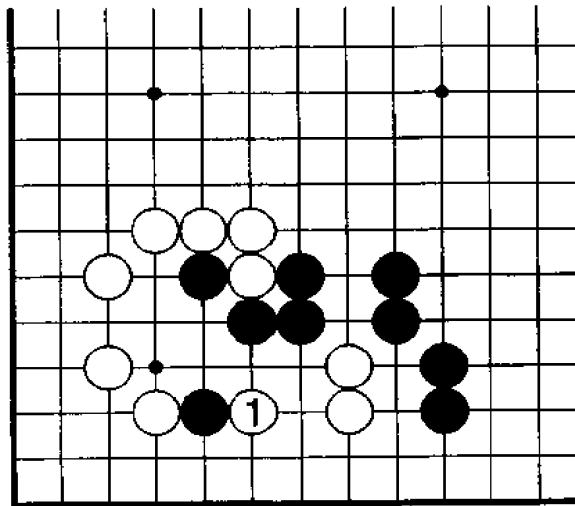


图2 失败

黑1扳，白2可以断，其后黑3如果打吃，白4下立以下进行至白8，黑棋大损。

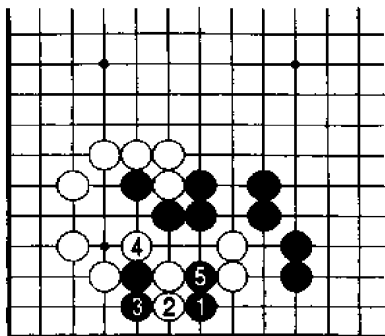
问题 66

黑先



白1夹,意在左右联络。现在请问黑棋分断白棋的手筋是什么?

问题66解答



正解图

黑1点是手筋,白2如果挡,黑3下立后,黑5可以切断白棋的联络。

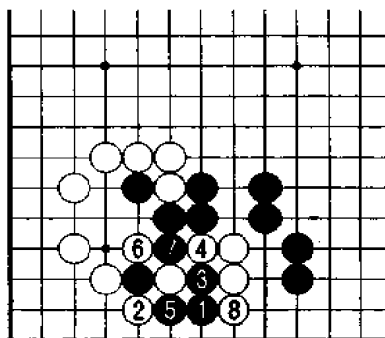


图1 变化

黑1点时,白2打吃是最顽强的抵抗,其后黑3冲,黑5打,以下进行至白8,黑棋先提劫。

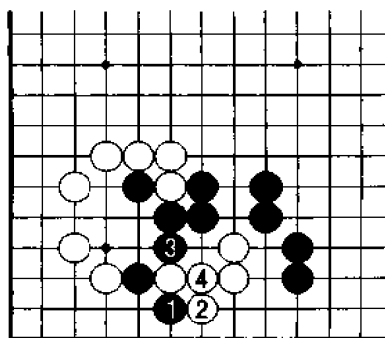

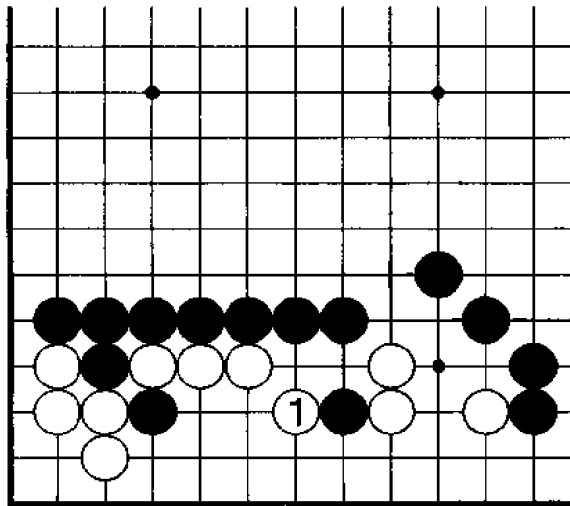


图2 失败

黑1扳,白2挡,黑3打吃,白4连接后,黑棋有两处断点。

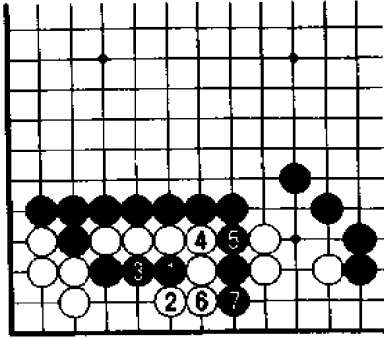


黑先



白 1 的目的是谋求联络，其后黑棋欲阻止白棋联络而获取收益。请问黑棋的手段是什么？

问题67解答



正解图

黑1是阻止白棋联络的手筋，白2如果打吃，黑3、5先手利用至黑7，黑棋可以分割白棋。

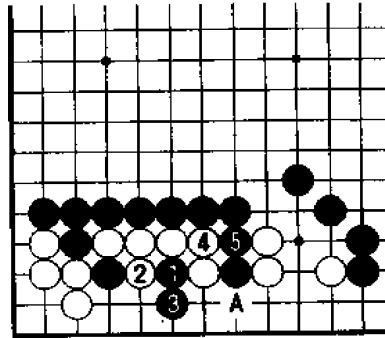


图1 变化

黑1时，如果白2打吃，黑3下立是要领，白4时，黑5连接，白棋即被切断。白棋由于有被打吃的毛病，因而不是在A位渡过。

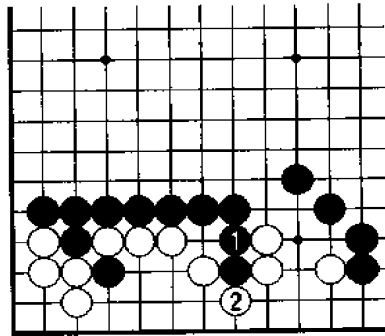
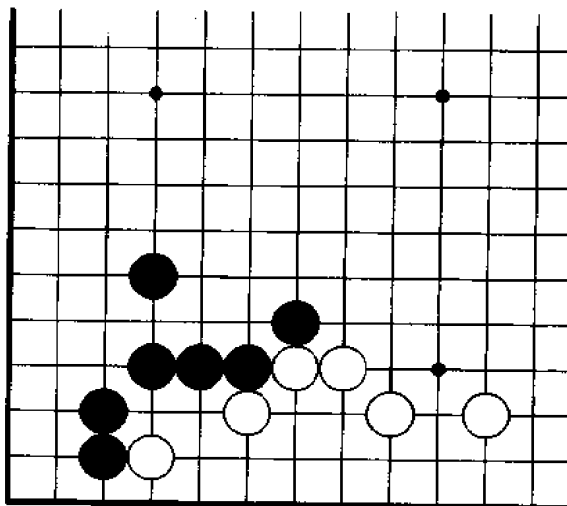


图2 失败

黑1连接，被白2渡过后，黑棋无后续手段。

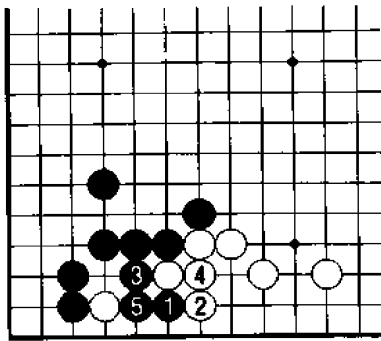
问题 68

黑先



本题是有关官子的问题。黑棋的目的是吃住角上白一子,请问其正确手法是什么?

问题68解答



正解图

黑1是收官的要领，白2如果挡，黑3打吃，其后黑5连接，由此可以最大限度地吃住白一子。

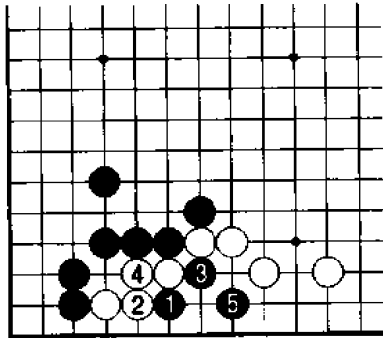


图1 变化

黑1时，白2挡无理，黑3打吃后，黑5虎，黑棋收获更大。

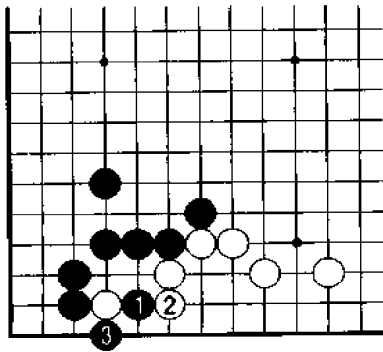
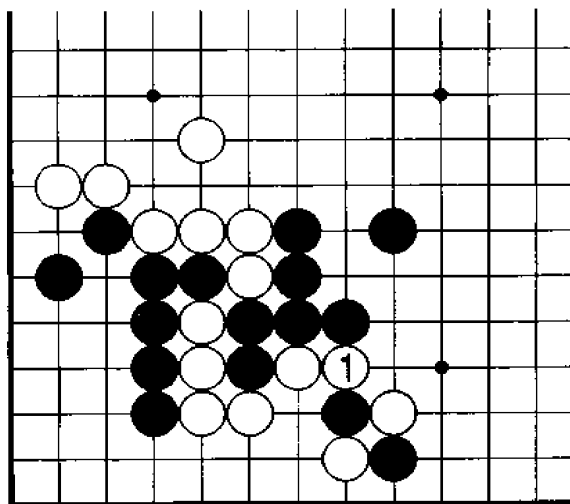


图2 失败

黑1夹，虽也可吃住白一子，但被白2挡后，与正解图相比，黑棋的差别很大。

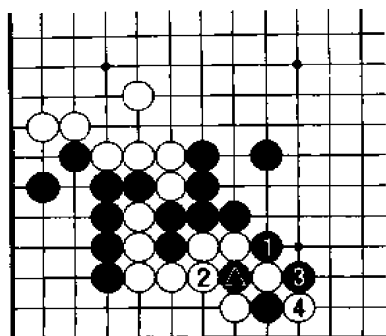
问题 69

黑先



白 1 打吃, 黑棋攻击白棋的要领是什么?
黑棋应如何下?

问题69解答



⑤ = ▲

正解图

黑1打吃是手筋，白2如果提子，黑3、白4之后，双方下成打劫。

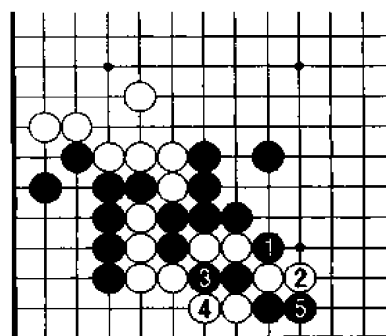


图1 变化

黑1打吃时，有白2长的变化，此时黑3提子稳健，白4时，黑5爬，白棋难受。

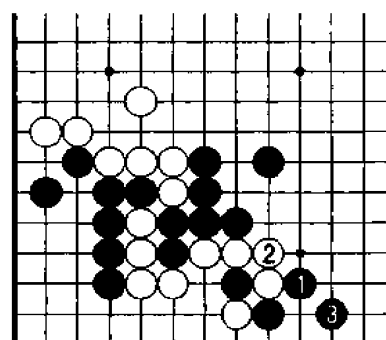
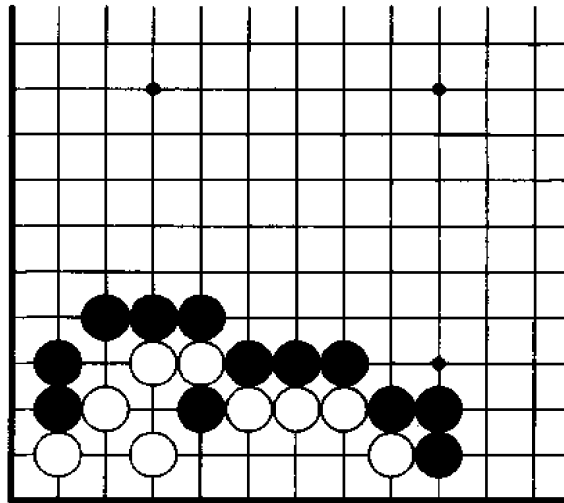


图2 失败

黑1打吃错误，白2只需团住，黑3虎补断点，白棋已不再受攻。

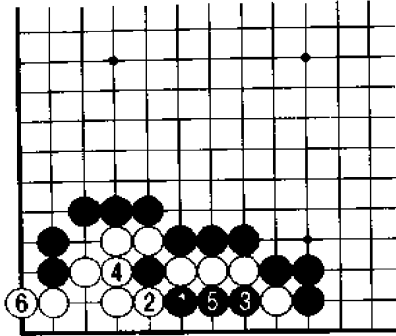
问题70

黑先



黑棋如何利用白棋的弱点来获取官子收益？第一手棋是关键，其后的进行则相对简单。请问黑棋应如何下？

问题70解答



正解图

黑1扳是好棋，白2打吃时，黑3打吃以下至白6，黑棋可以先手获取官子利益。

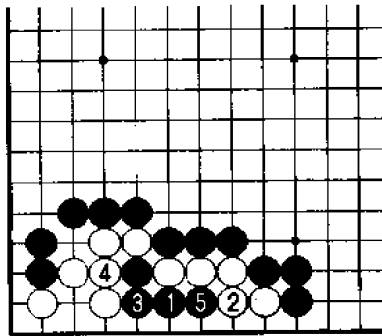


图1 变化

黑1扳时，白2连接无理，黑3连接稳健，白4时，黑5收气，白棋整体被吃。

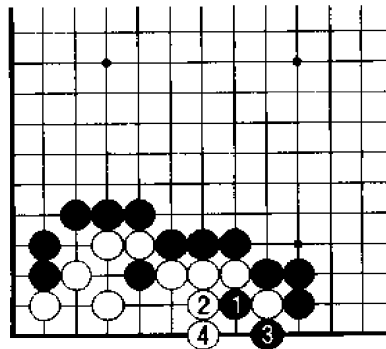
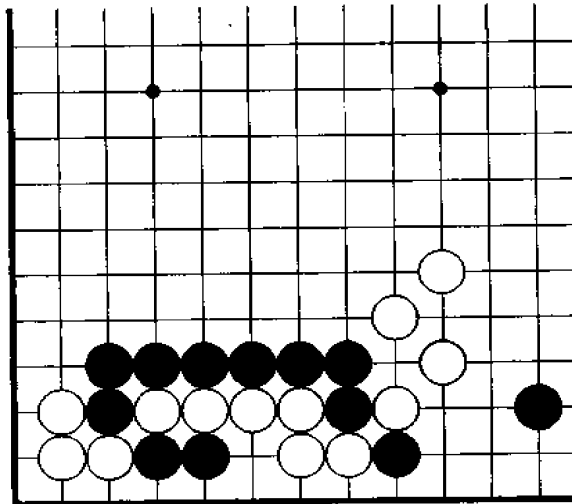


图2 失败

黑1打吃白一子，不能令人满意。白2下立后，白4下立，白棋满足。

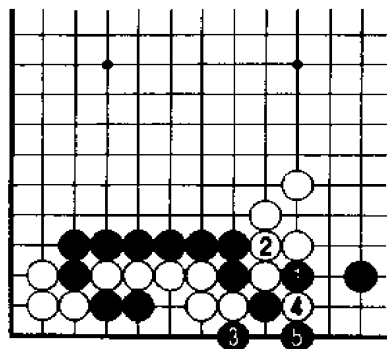
问题 71

黑先



初看黑棋被分成三块,处理起来很困难,但黑棋可以动用非常手段,扭转形势。能下成打劫即是成功。请问黑棋应如何下?

问题71解答



正解图

黑1打吃是头绪，白2如果连接，黑3扳是好棋，白4时，黑5做劫，黑棋可以满足。

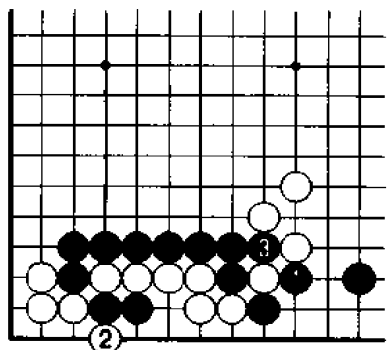


图1 变化

黑1打吃时，白棋由于劫材不足，只好白2后退，黑3提子后，黑棋形漂亮。

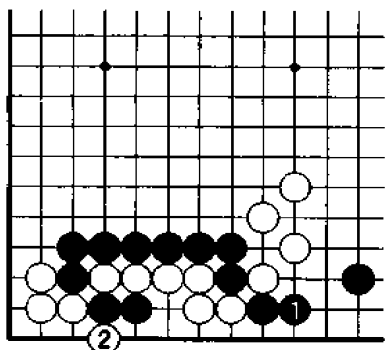
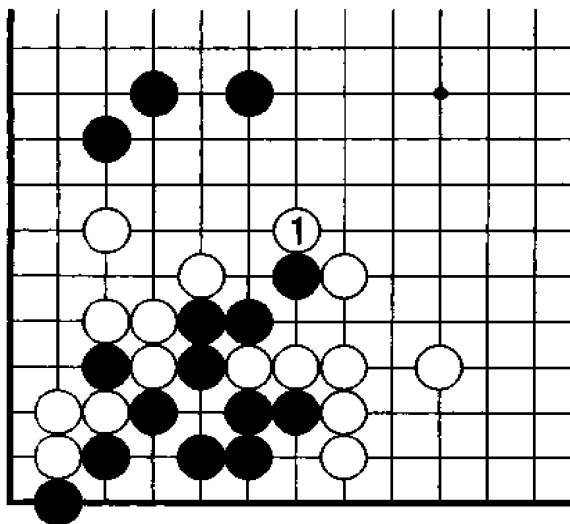


图2 失败

黑1退不好，白2扳控制住黑二子，黑棋不满。

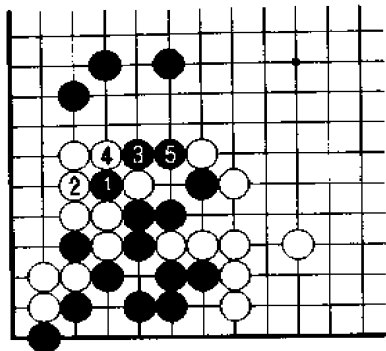
问题 72

黑先



白1扳,意在封锁黑棋,黑棋如果不能冲破白棋的封锁网,将面临被全歼的危机。那么请问黑棋如何才能摆脱危机?

问题72解答



正解图

黑1断是摆脱危机的绝妙手筋，白2打吃时，黑3、5可以成功出头。

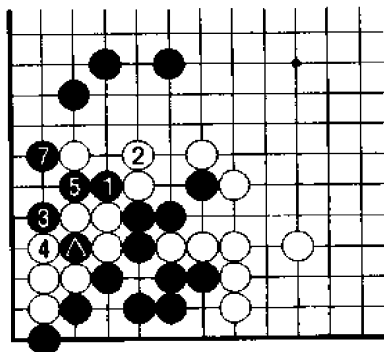


图1 变化

黑1断时，白2长无理，此时黑3打吃是好棋，白4时，黑5、7渡过，白棋反而被吃。

⑥ = ▲

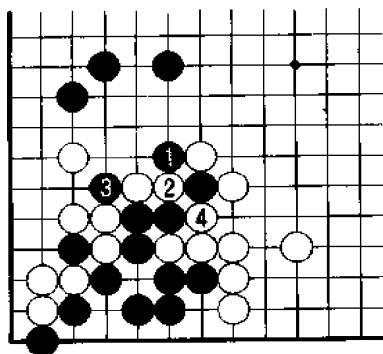
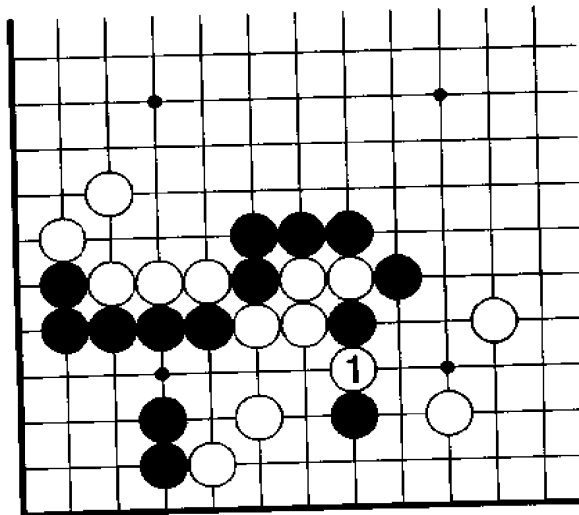


图2 失败

黑1扳次序错误，白2时，黑3断已来不及，白4提子后，黑棋已无任何手段。

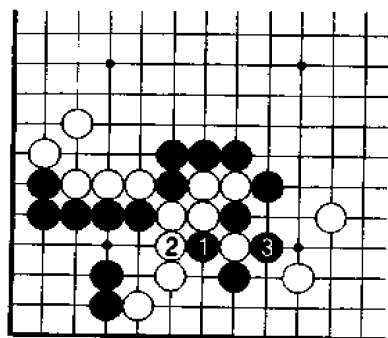
问题 73

黑先



白 1 打吃时，黑棋有常用的手筋准备着。那么请问其手筋是什么？

问题73解答



正解图

黑1打吃是手筋，白2如果联络，黑3提子，黑棋可以满足。

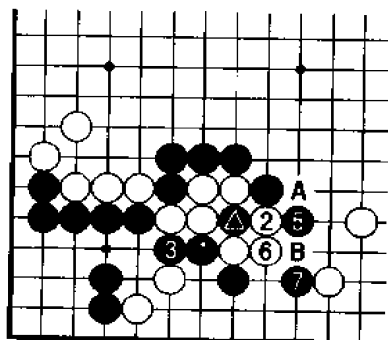


图1 变化

黑1打吃，白2提子，其后黑3、5打吃，黑7封是连贯的好手，以后白A时，黑B打吃，黑棋非常满意。

④ = ▲

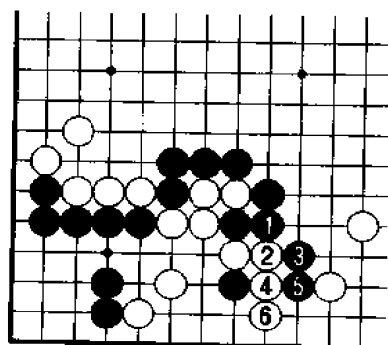
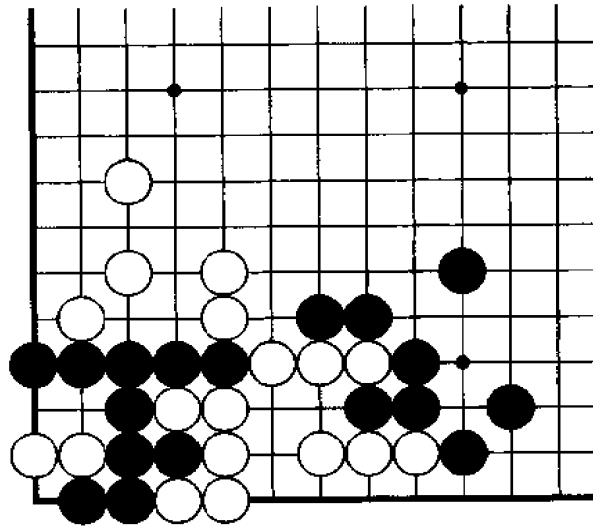


图2 失败

黑1单接不能令人满意，白2冲，黑3以下至白6，白棋充分可下。

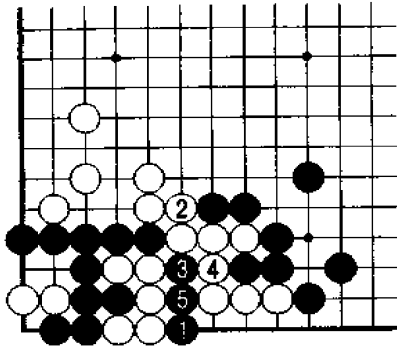
问题 74

黑先



角上黑棋已不可能做成两只眼，黑棋要想活，只有充分利用白棋的弱点。那么请问黑棋应如何下？

问题74解答



正解图

黑1点是绝妙的手筋，白2如果连接，黑3打吃是好棋，黑棋可以吃住白五子。

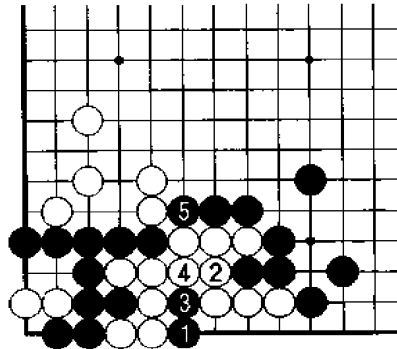


图1 变化

黑1点时，白2如果连接，黑3打吃是好棋，其后白4如果连接，黑5断，白棋的损失更大。

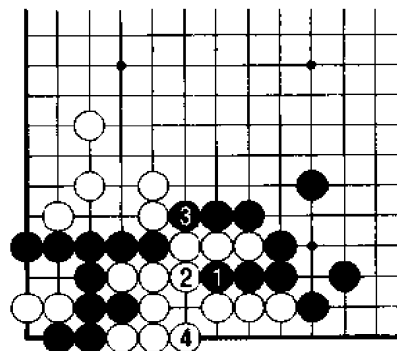
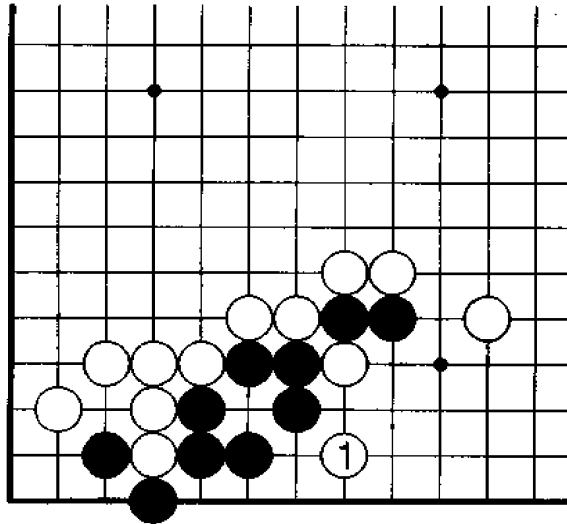


图2 失败

黑1与白2交换是大恶手，其后黑3断，白4做活后，角上黑棋死掉。

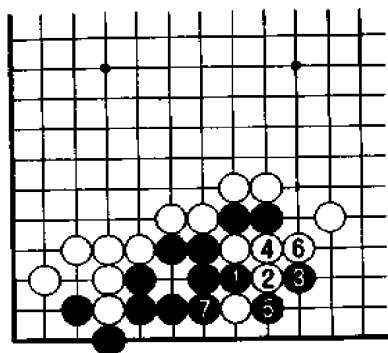


黑先



白1点,威胁黑棋的根地,黑棋对此如不认真对待,将会整块棋死掉。那么请问黑棋正确的应手是什么?

问题75解答



正解图

黑1打吃是绝对的一手，其后白2如果挡，黑3是好棋，白4如果打吃，则黑5、7做活。

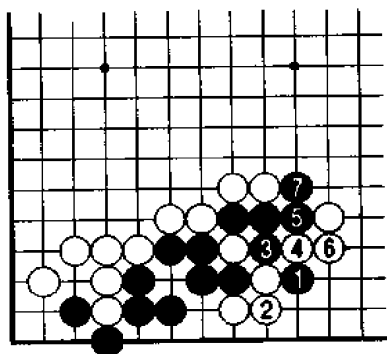


图1 变化

黑1靠时，白棋为避免正解图的进行，而于白2连接，黑3则可提子，至黑7，黑棋摆脱出白棋的攻击圈。

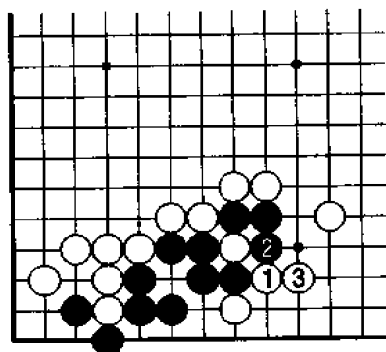
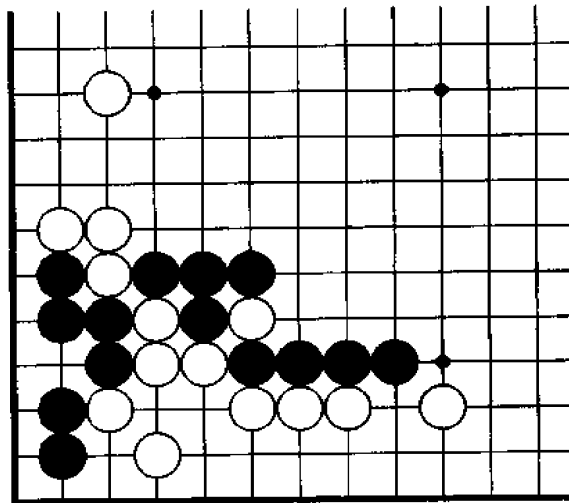


图2 失败

白1挡时，黑2提子是大恶手，其后白3退，黑棋整体被吃。

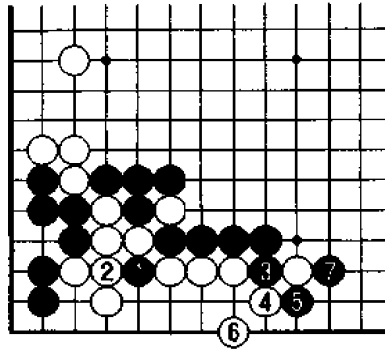
问题76

黑先



白棋的棋形初看很完整，但只要黑棋能用正确的次序攻击白棋的弱点，可以取得相当大的收益。那么请问黑棋应如何下？

问题76 解答



正解图

黑1打吃,其后黑3、5冲断,是利用白棋弱点的好次序。白6如果补棋,黑7打吃后,黑棋收获很大。

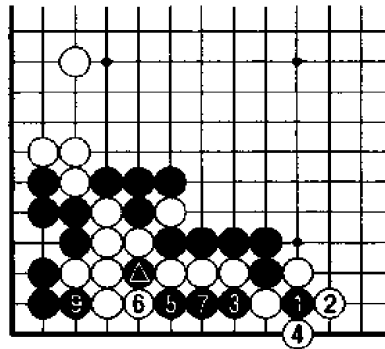


图1 变化

黑1断时,白2打吃无理,此时黑3断,然后黑5、7打吃,至黑9紧气,白棋整体被吃。

⑧ = ▲

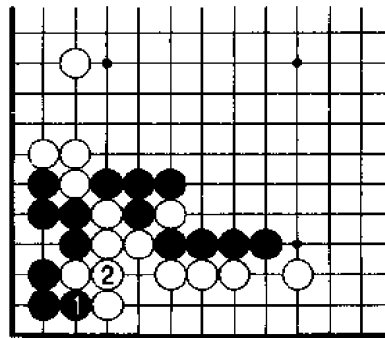
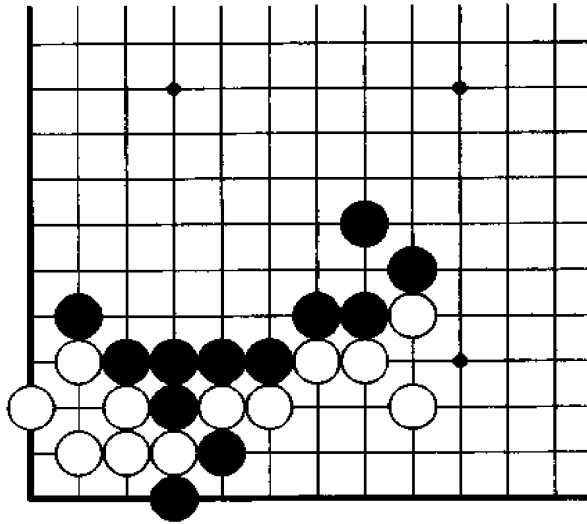


图2 失败

黑1打吃,让白2连接,黑1成为大恶手。以后不论黑棋如何下,都不可能再出棋。

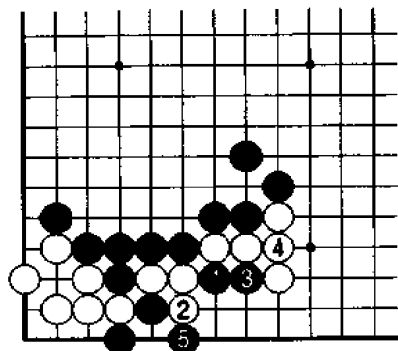


黑先



黑棋如何利用一路扳的黑一子是成败的关键。那么请问黑棋应如何下？如果下成打劫即告成功。

问题77 解答



正解图
 黑 1 断打是惟一的一手，白 2 必须应，其后黑 3、5 可以打吃，从而双方下成打劫。

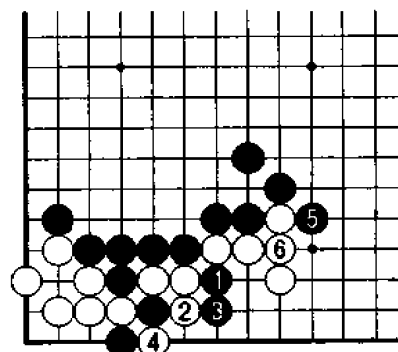


图 1 失败 1
 黑 1、白 2 后，黑 3 打吃是大恶手，白 4 提子后，黑棋只能获得黑 5 打吃的先手，白棋满意。

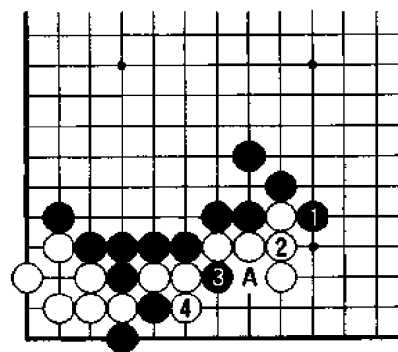
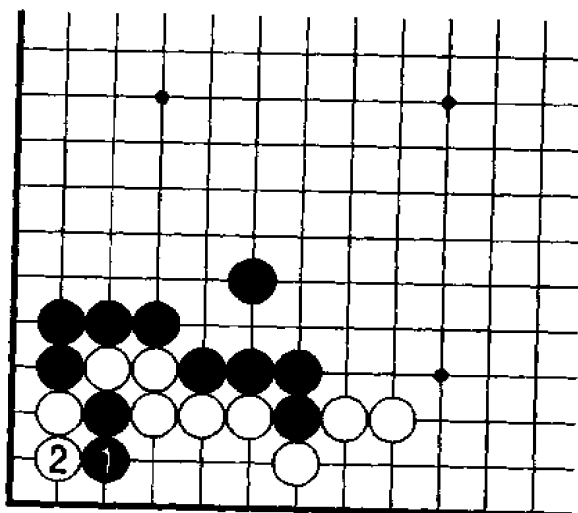


图 2 失败 2
 黑 1 与白 2 交换是大恶手，其后黑 3 即使断打，但由于 A 位已不是黑棋的先手，黑棋无计可施。

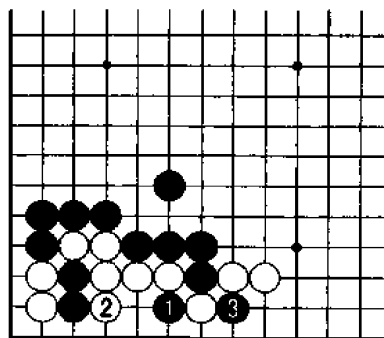
问题78

黑先



黑1下立,白2应,黑棋应该利用角的特殊性而获取利益。那么请问黑棋如何下最佳?

问题78解答



正解图

黑1断是锐利的试应手，白2打吃取实地，黑3吃白一子，黑棋的成果很大。

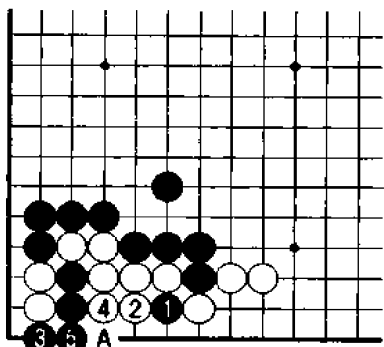


图1 变化

黑1断时，有白2打吃的变化，此时黑3扳是好棋，白4打吃，黑5连接之后，白棋由于A位不能入气，因而角上白子被吃。

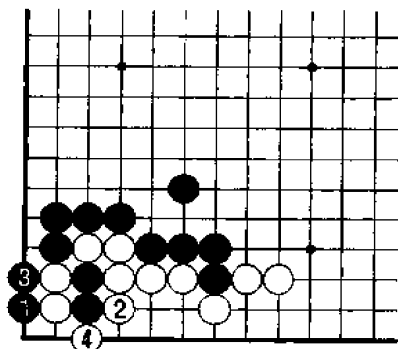
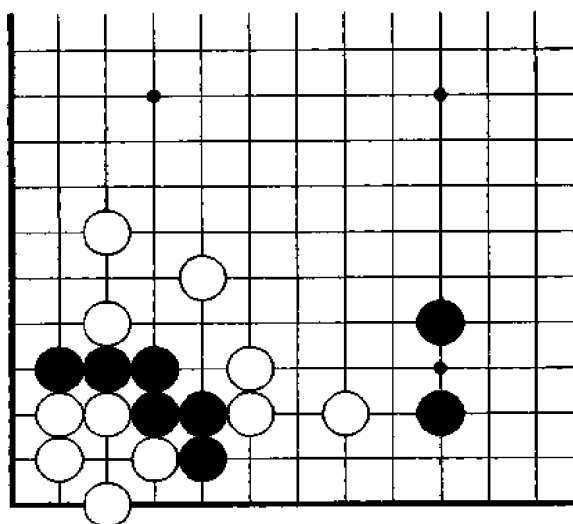


图2 失败

黑1仅仅是官子行为，白2、4之后，黑二子被吃，黑损。

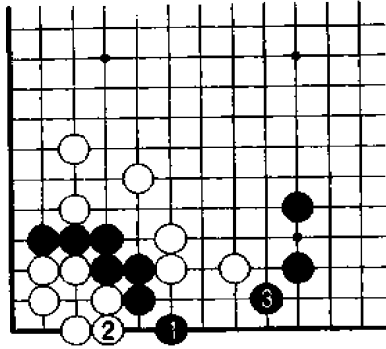
问题 79

黑先



角上黑六子仅凭自身的力量已不能活棋，只有利用白棋的弱点才可能与另一侧黑棋形成联络。那么请问其手段是什么？如能下成打劫即告成功。

问题79 解答



正解图

黑 1 尖是惟一方法,白 2 如果补棋,黑 3 尖,由此相互联络。

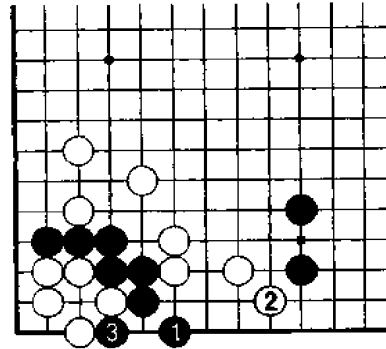


图 1 变化

黑 1 时,白 2 阻渡是最顽强的抵抗,此时黑 3 抛劫是好棋,双方下成打劫。

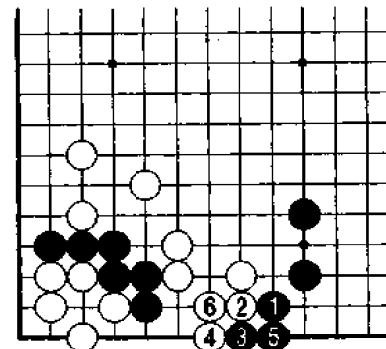
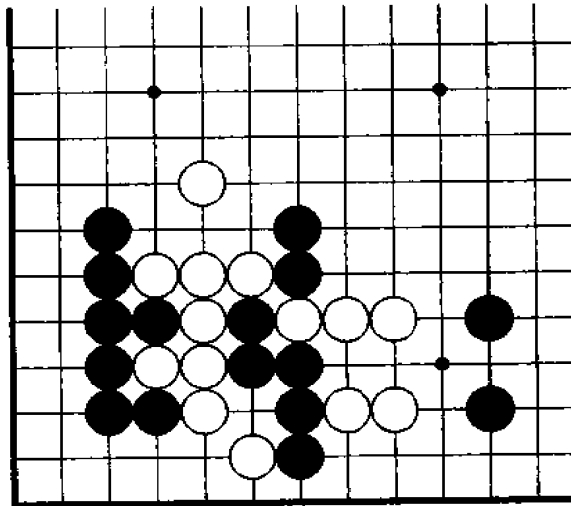


图 2 失败

黑 1 尖至白 6 仅为官子行为,角上黑六子已落入白手。

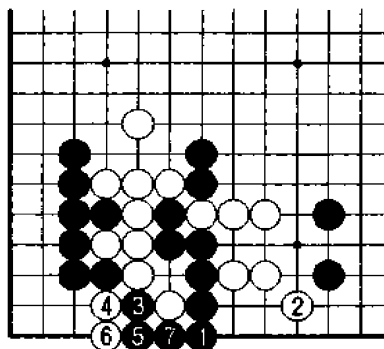
问题 80

黑先



被白棋围困的黑五子,已处于危机之中,黑棋如能救活这五子,将可确立优势。那么请问黑棋应如何下?

问题80解答



正解图

黑1下立，伺机向两侧渡过。白2如果尖，黑3掖是好棋，以下进行至黑7，黑棋成功联络。

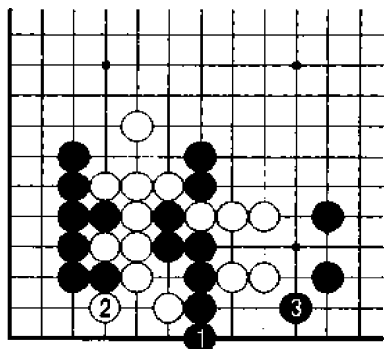


图1 变化

黑1下立时，白2虎寻求变化，黑3尖是联络的要点。黑棋成功联络后，两块白棋均已成为浮棋。

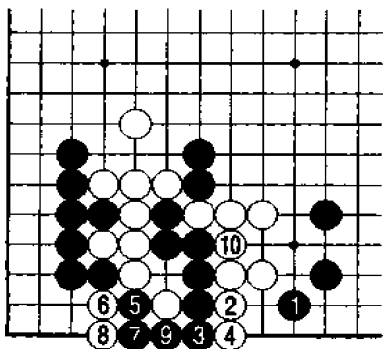
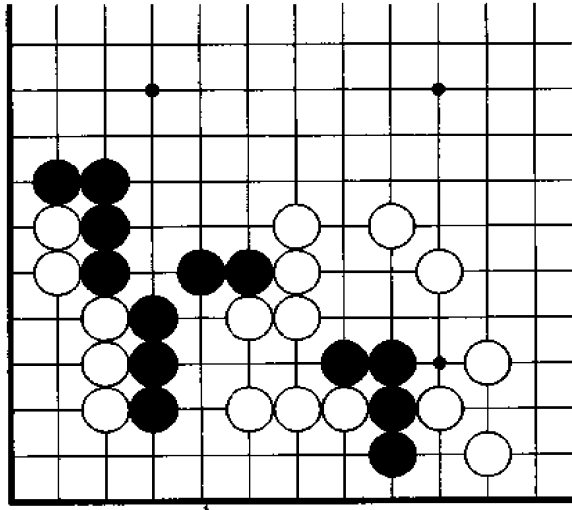


图2 失败

黑1先尖是败着，白2挡是好棋，黑3抵抗时，白4贴，以下进行至白10，结果黑棋被吃。

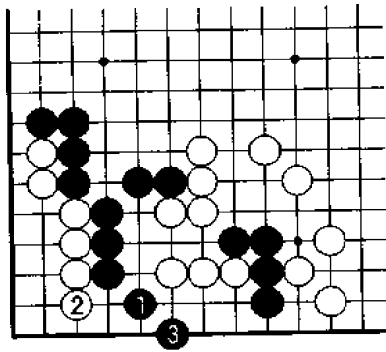
问题 81

黑先



黑棋如何利用白角上的弱点来救活被白棋围困的黑四子是黑棋目前面临的问题，第一手棋是成败的关键。请问黑棋应如何下？

问题81 解答



正解图

黑1尖是攻击白棋弱点和自身谋求联络的手筋，白2补角，黑3尖，黑棋轻松联络。

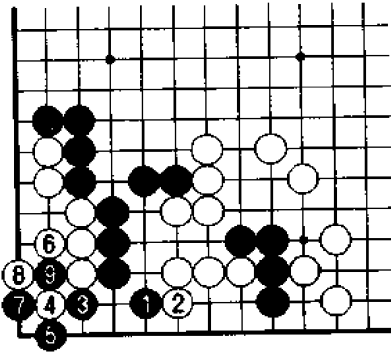


图1 变化

黑1尖时，白2如果挡，黑3虎后，黑棋对白角构成威胁。白4扳以下至白8，双方下成打劫。

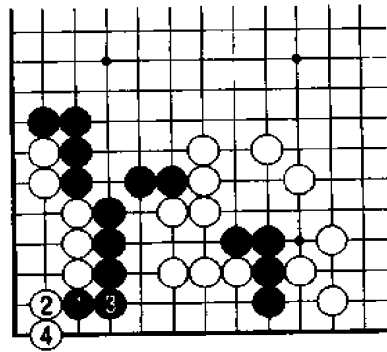
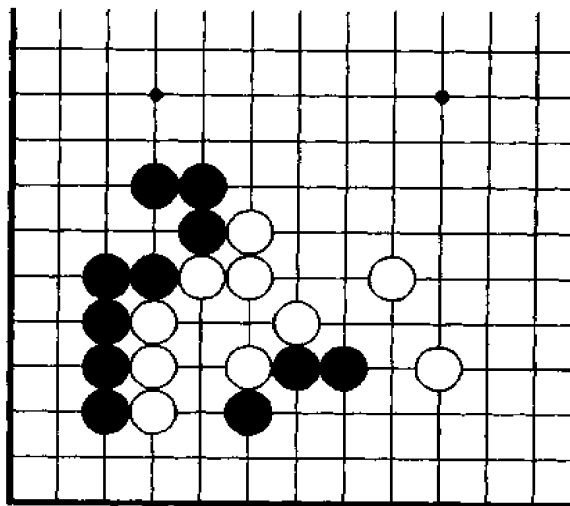


图2 失败

黑1、3扳接是官子下法，白4后，黑棋无后续手段。

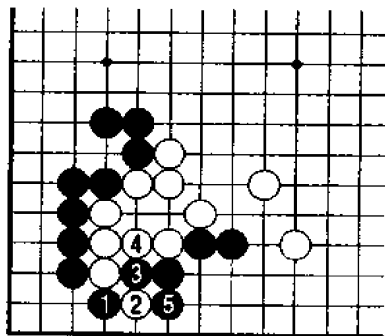
问题 32

黑先



黑棋如何处理边上黑三子是其面临的首要问题。那么请问黑棋应如何下？其手筋又是什么？

问题82解答



正解图

黑1扳是利用对方的弱点处理自身的要领。白2如果挡,黑3断是预定的下法,白4时,黑5打吃即可。

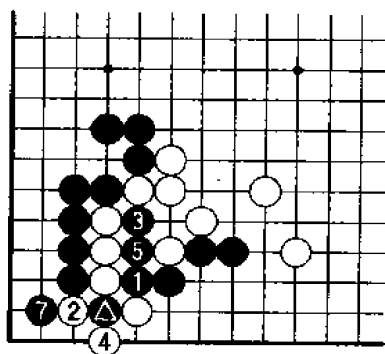


图1 变化

黑1断时,白2如果打吃,黑3可以断打,白4只好提子,以下进行至黑7,白棋整体被吃。

⑥ = ▲

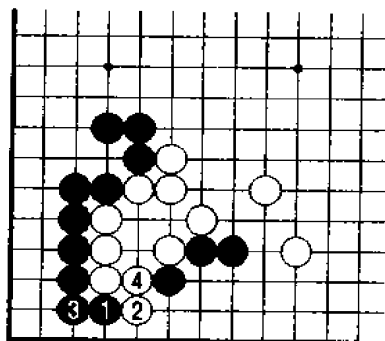
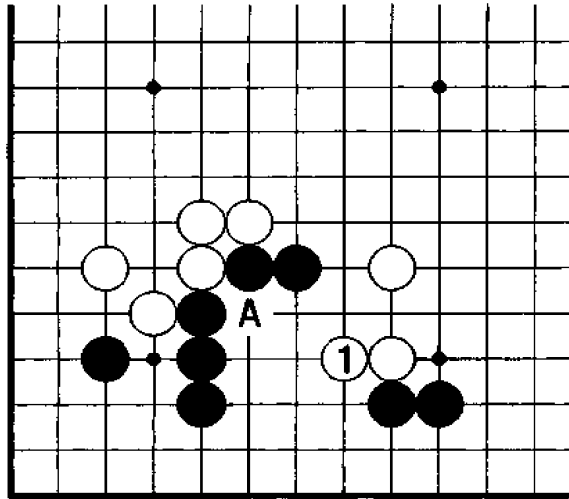


图2 失败

黑1扳,白2时,黑3连接是没有发现正解图中的手筋,白4连接后,黑棋大损。

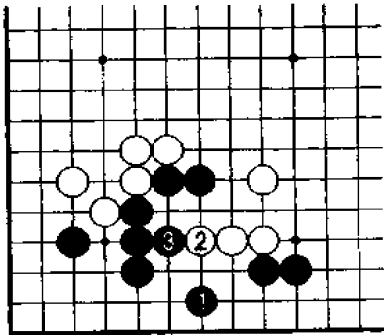
问题 33

黑先



白 1 长，黑棋必须防备 A 位的弱点，而且还要左右形成联络。那么请问黑棋应如何下？

问题83 解答



正解图

黑1飞是一举两得的好点，白2如欲分断，黑3顶后，黑棋可以解决全部问题。

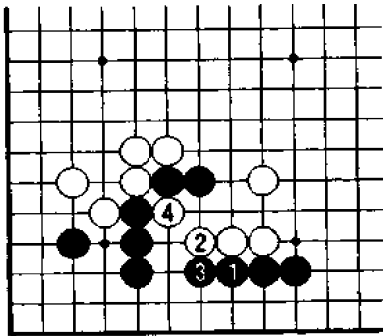


图1 失败1

黑1长，白2同样长时，黑3只有联络，于是白4断，中腹黑二子变弱。

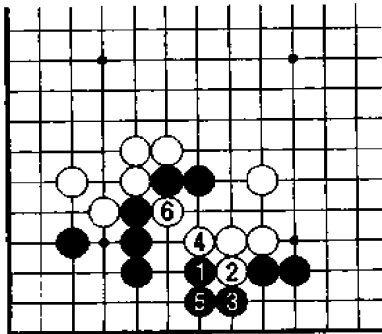
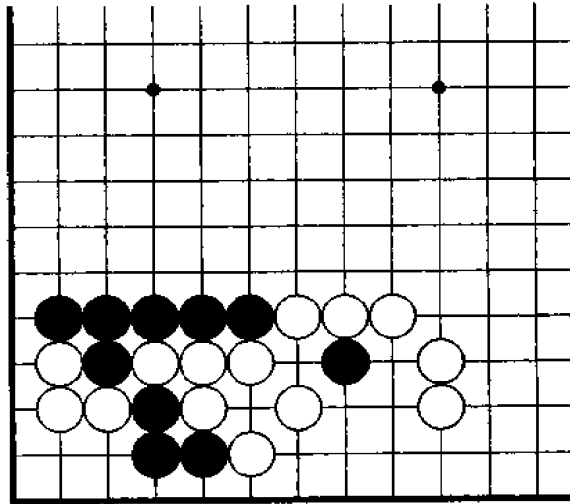


图2 失败2

黑1跳谋求联络，结果与图1大同小异。白2、4冲，其后白6断，黑棋失败。

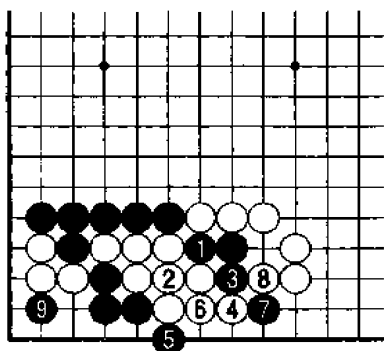
问题 84

黑先



下边黑三子已经很危险,要摆脱危机,只有吃住角上白三子。那么请问黑棋如何下最佳?

问题 84 解答



正解图

黑 1 断打以下至白 8，黑棋先手与白棋交换非常重要，其后黑 9 靠，黑棋可以利用角的特点吃住白三子。

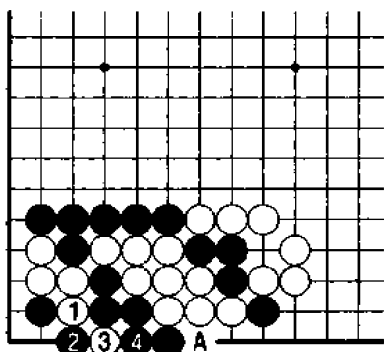


图 1 正解继续

续正解图，其后白 1 冲、3 扑，黑 4 提子后，白棋由于 A 位不能入气，因而黑棋在对杀中快一气。

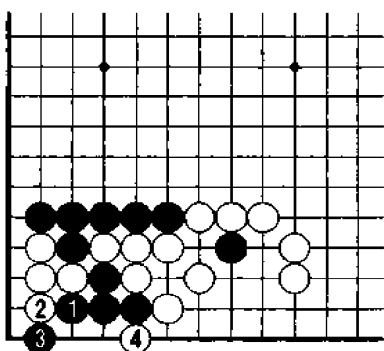
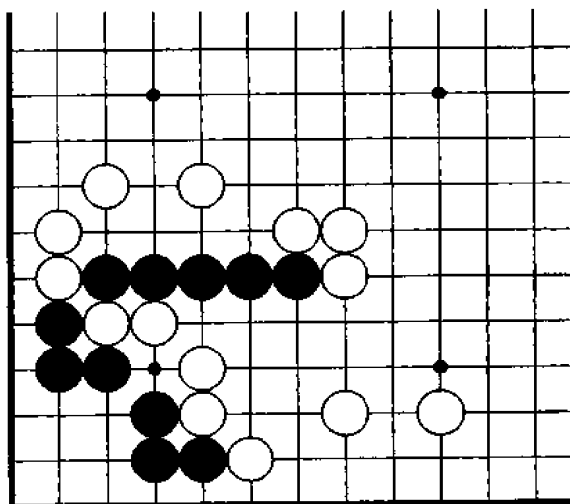


图 2 失败

黑 1 紧气，白 2 挡，黑棋一无所获。黑 3 扳，白 4 收气，黑棋被吃。

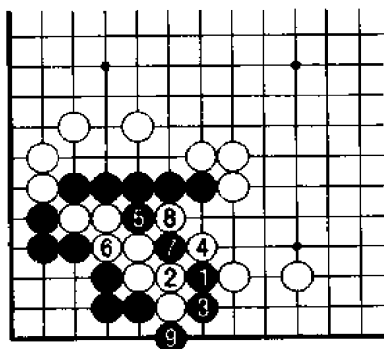
问题 85

黑先



中腹黑五子已处于白棋的包围之中，黑棋只有通过攻击白棋的弱点，方可扭转局势。那么请问黑棋的手筋是什么？

问题85解答



正解图

黑1靠是手筋,其后白2如果连接,黑3立下是要领,白4时,黑5打吃以下至黑9,黑棋可以滚打白棋。

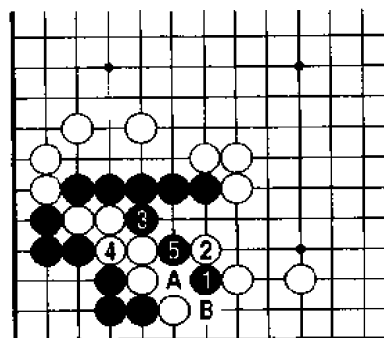


图1 变化

黑1靠时,白2如果扳,黑3打吃是要领,其后白4如果连接,黑5打吃即可,以后白A时,黑B可以打吃。

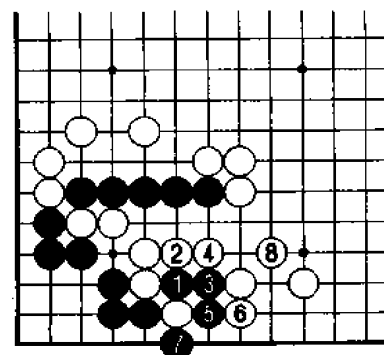
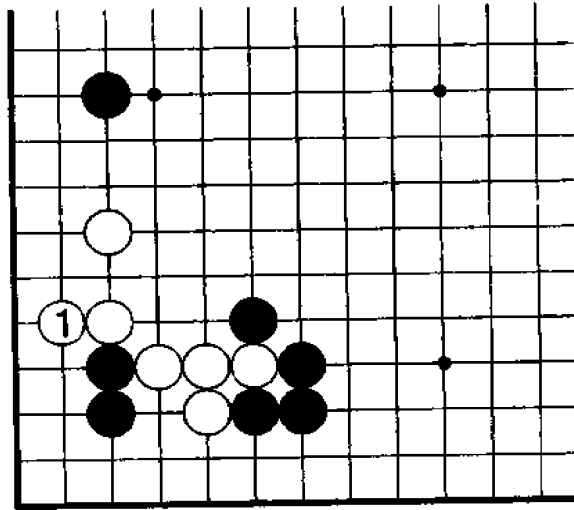


图2 失败

黑1断,仅仅是官子下法,白2打吃以下至白8,白棋弃去一子,形势很充分。

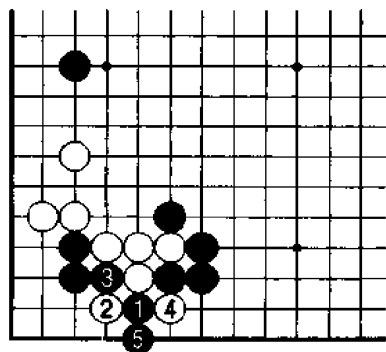


黑先



白1下立,准备攻击角上黑二子。那么请问黑棋如何处理二子,其要领是什么?

问题 86 解答



正解图

黑 1 扳是联络的手筋，其后白 2 如果扳，黑 3 断，白 4 打吃，黑 5 下立是好次序，后续变化见下图。

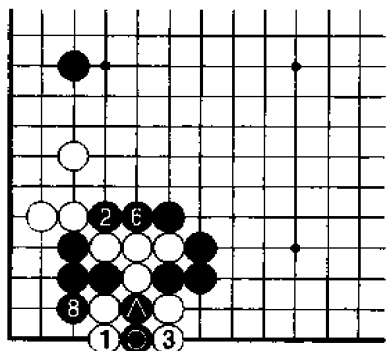


图 1 正解继续

续正解图，其后白 1 如果打吃，黑 2 断以下至黑 8，结果白棋被吃。

④ ⑦ = ▲ ⑤ = ●

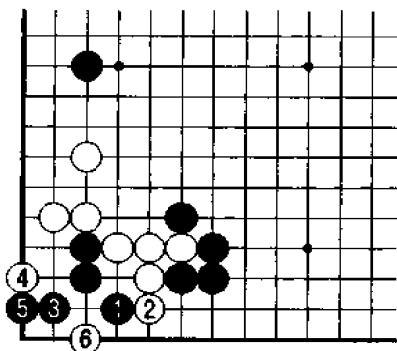
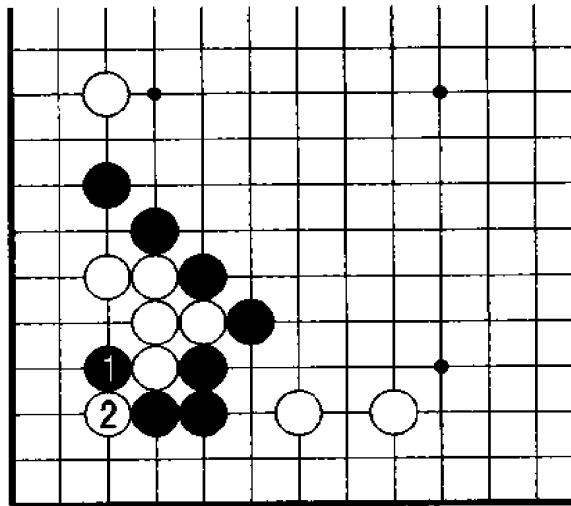


图 2 失败

黑 1 尖后黑 3 虎求活，但白 4 飞、6 点，结果黑棋不能活。

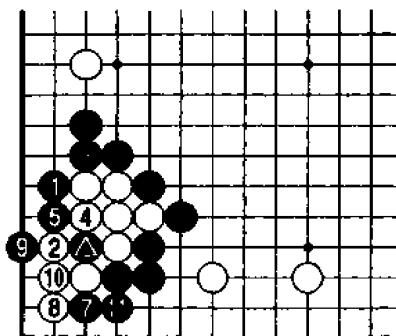


黑先



黑 1 扳时,白 2 断,黑棋以后可以利用对方的弱点来作战。那么请问其手筋是什么?

问题 87 解答



正解图

黑1托是手筋，白2如果打吃，黑3、5以下至黑11，黑棋可以吃住整块白棋。

⑥ = 黑

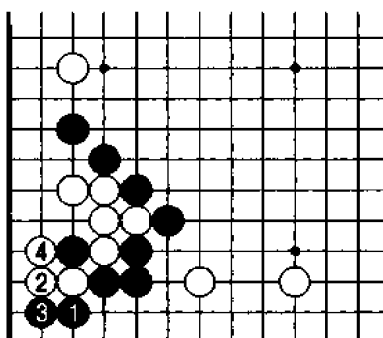


图1 失败1

黑1打吃是败着，白2、4吃住黑一子后，黑棋处处都是缺点。

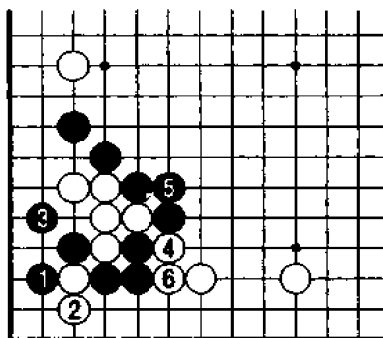
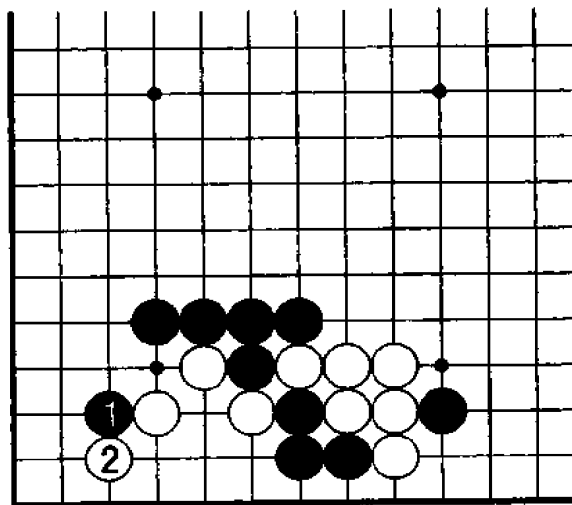


图2 失败2

黑1打、3虎同样是无谋的下法，白4断后，白6收气，白棋可以吃住黑三子。

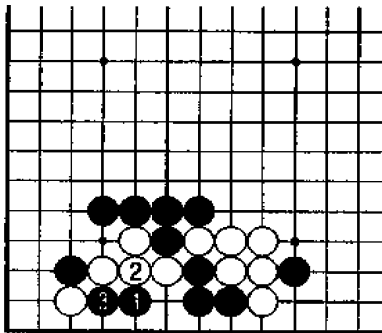


黑先



黑 1 靠时,白 2 扳,但白棋自身有弱点。
那么请问黑棋如何攻击白棋?

问题88解答



正解图

黑1点是将白棋逼入绝境的手筋，白2如果连接，黑3断，不给白棋以任何喘息机会，后续变化见下图。

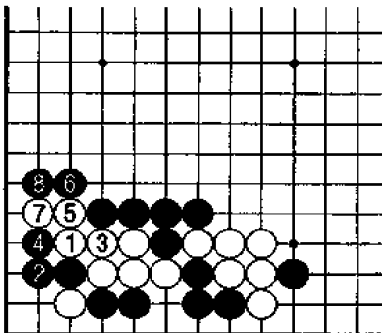


图1 正解继续

续正解图，其后白1打吃、白3连接，黑4长、6扳是好次序，至黑8挡，黑棋可以吃住大块白棋。

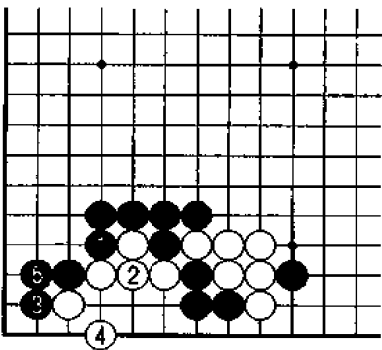

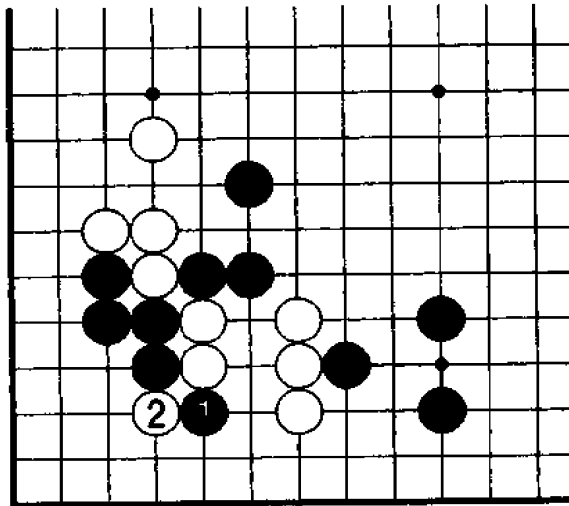


图2 失败

黑1打吃，让白2连接之后，黑1成为大恶手。其后黑3连扳，以下白4、黑5，黑棋收获太小。

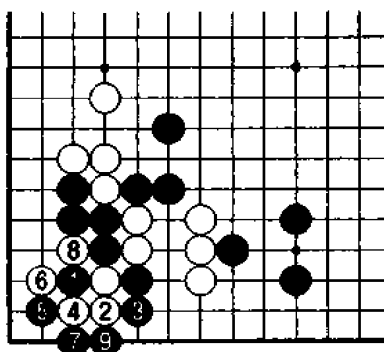


黑先



黑1扳,白2断,白2断看似当然,实际上无理。那么请问黑棋惩罚白棋无理的方法是什么?

问题89解答



正解图

黑1打吃、黑3挡是惩罚白棋无理的好次序,其后白4拐,黑5挡以下至黑9,黑棋可以滚打包收。

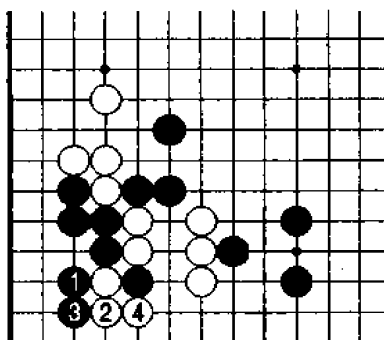


图1 失败1

黑1打吃,白2立时,黑3挡缺少思考,至白4打,黑棋实地大损。

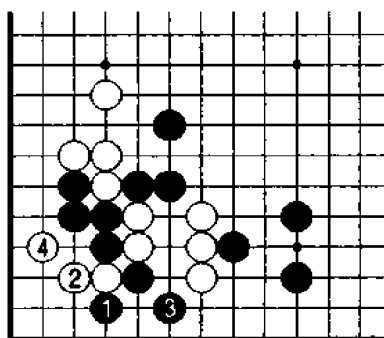
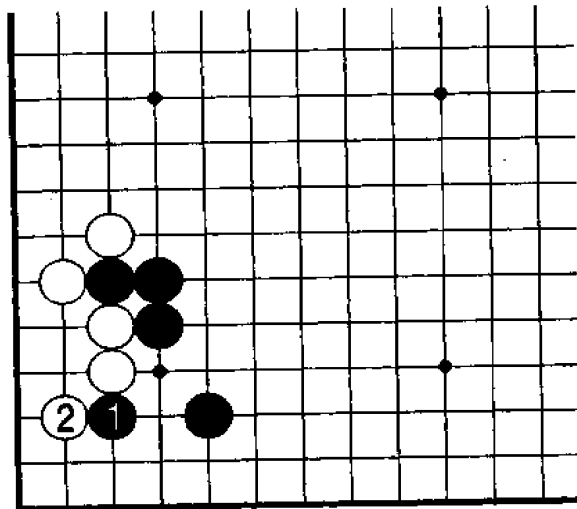


图2 失败2

黑1打吃是最坏的选择,至白4尖,黑四子被吃。

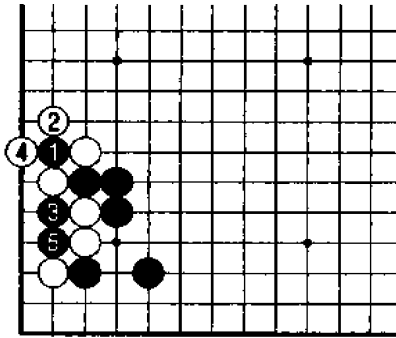


黑先



黑 1 靠, 白 2 扳, 黑棋如何才能通过攻击白棋的弱点来确立优势?

问题90解答



正解图

黑1断问应手,白2如果打吃,黑3先手利用后,黑5断吃,黑棋取得很大的实地。

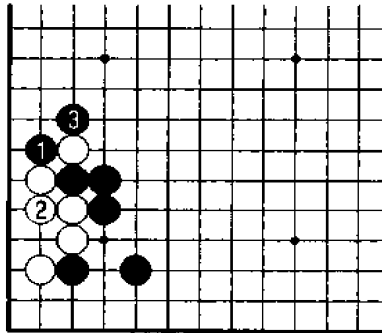


图1 变化

黑1断时,白2如果连接,则黑3可以征吃白一子,收获也很大。

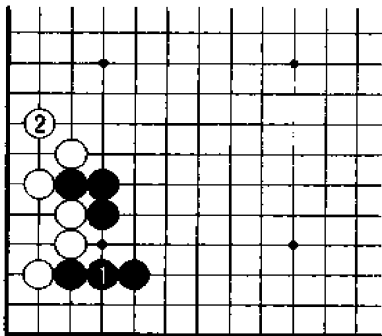

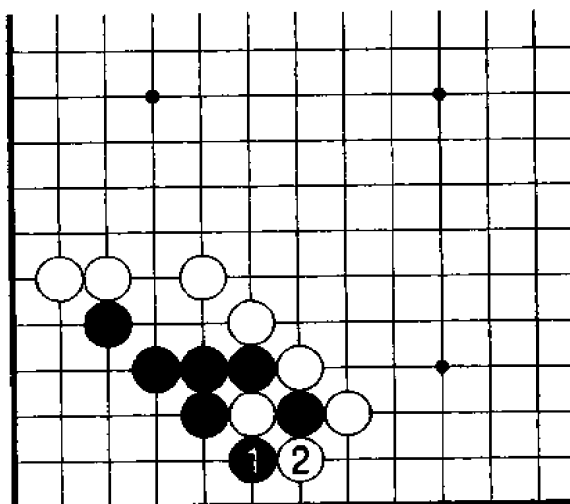


图2 失败

黑1连接补自身的弱点,白2虎整形后,黑棋再也没有好手段了。

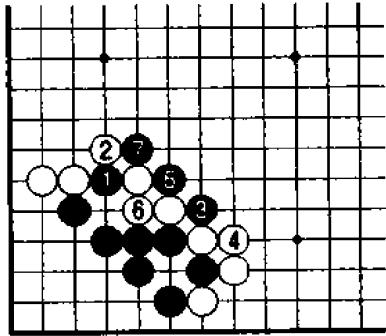


黑先



黑1提子,白2打吃。白2这手棋多少有点无理。那么请问黑棋如何下最佳?

问题 91 解答



正解图

黑 1 挖问白棋的应手是好棋, 白 2 如果挡, 黑 3、5 打吃后, 黑 7 可以吃倒包。

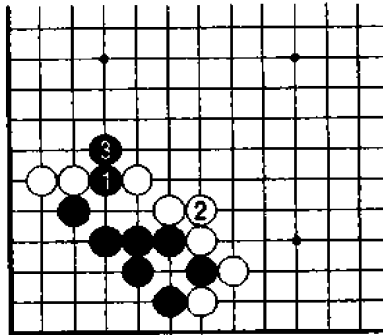


图 1 变化

黑 1 挖时, 白 2 如果连接, 则黑 3 冲出, 白棋不利。

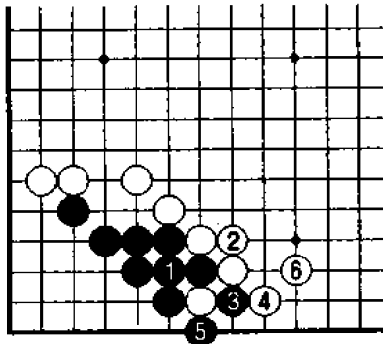

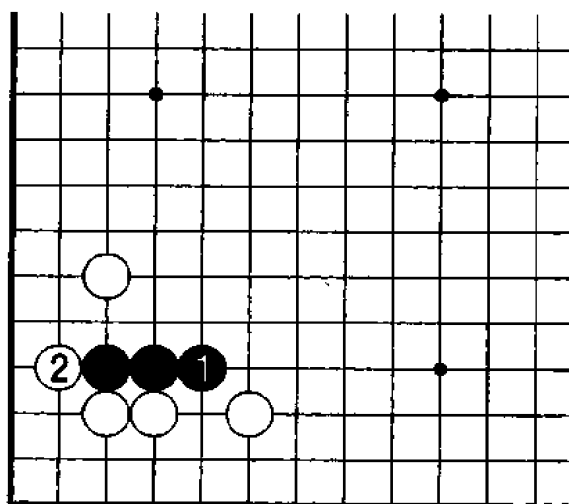


图 2 失败

黑 1 连接下成愚形, 白 2 连接, 黑 3 打吃一子, 以下进行至白 6, 白棋形比较理想。

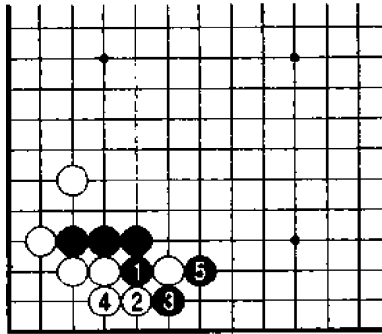


黑先



黑 1 长，白 2 扳，其后黑棋如何下最佳？
应该寻求比单扳更为有效的手段。

问题92解答



正解图

黑 1、3 冲断是正确下法，其后白 4 如果连接，黑 5 可以征吃白一子。

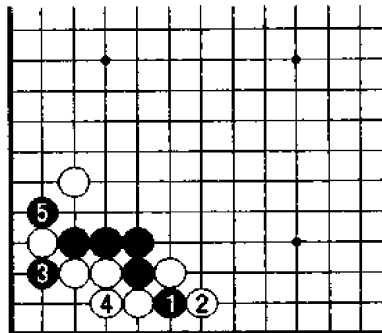


图 1 变化

黑 1 断时，有白 2 打吃的变化，此时黑 3 断是好棋，白 4 只好连接，至黑 5，黑棋可以吃住白一子。

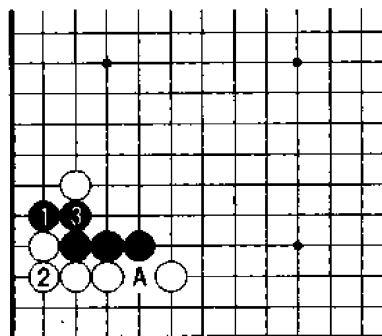
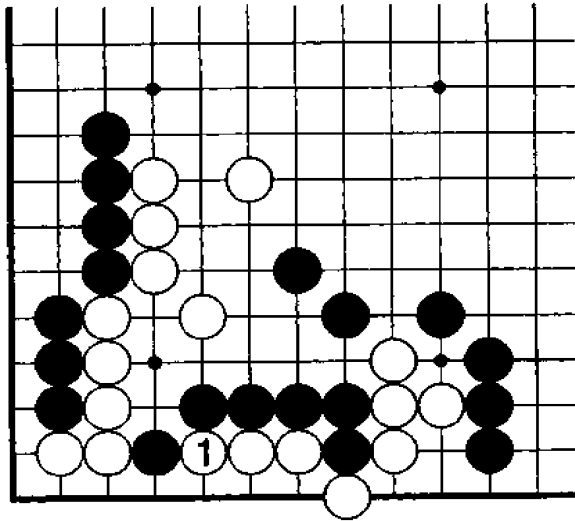


图 2 失败

黑 1 扳，明显缺少思考，白 2 连接，白棋由此补去了 A 位的弱点。

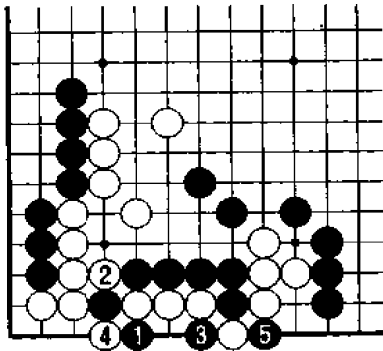
问题 93

黑先



白1挤，似乎已可形成联络，但仔细分析，白棋形存在着致命的弱点。那么请问黑棋应如何攻击白棋的弱点？

问题 93 解答



正解图

黑 1 扳是追击白棋弱点的手筋，白 2 打吃时，黑 3 扑，白棋只能忍痛割舍右侧白四子。

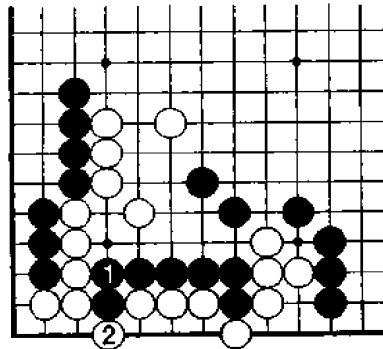


图 1 失败 1

黑 1 连接是大恶手，白 2 联络后，黑棋对白大龙的攻击以失败告终。

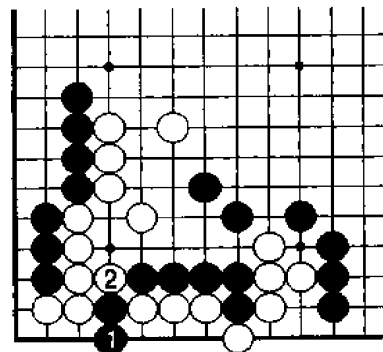
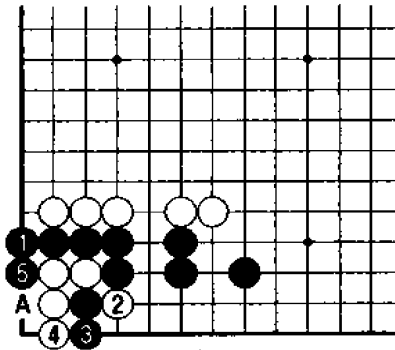


图 2 失败 2

黑 1 下立更坏，白 2 断后，黑棋白白牺牲。

问题94解答



正解图

黑1下立,阻止白棋的联络,其后白2如果打吃,黑3下立,以下白4、黑5,白棋由于A位不能挡,从而不能活。

图1 失败1

黑1扳是疑问手,白2先手利用后,白4打吃黑一子,白棋已活。

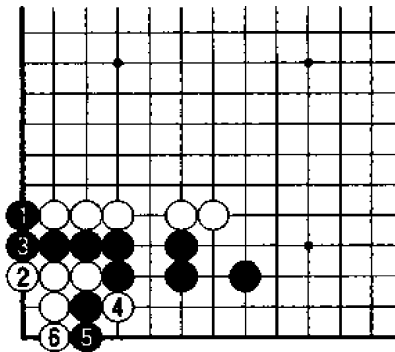
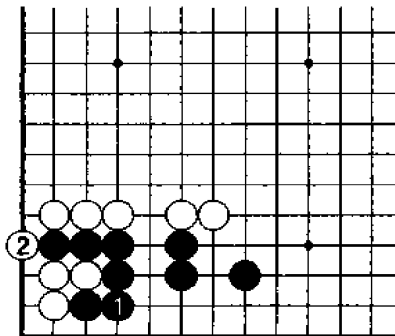


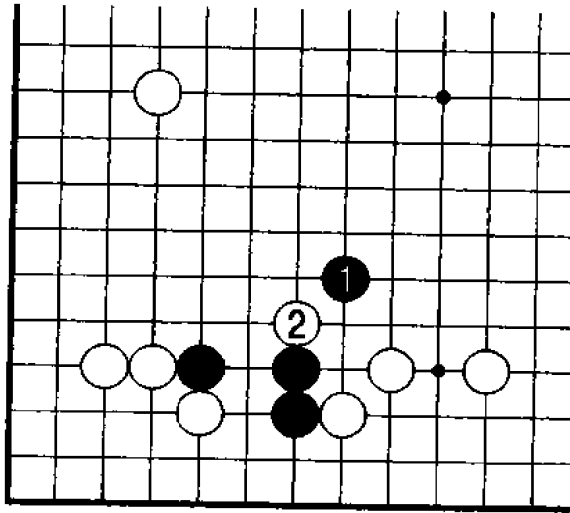
图2 失败2

如果是实战,黑1很可能连接,白2轻松渡过后,黑损。



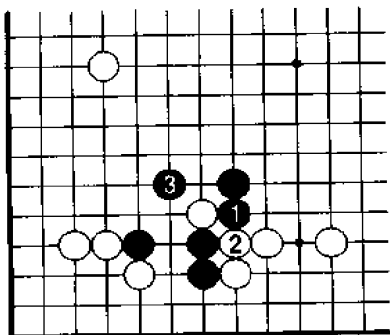
问题 95

黑先



黑 1 飞，白棋在征子有利的前提下，于 2 位搭，试图切断黑棋。那么请问黑棋如何应最佳？

问题95解答



正解图

黑1是绝对的一手，白2断时，黑3封是准备好的对策，白一子被枷吃。

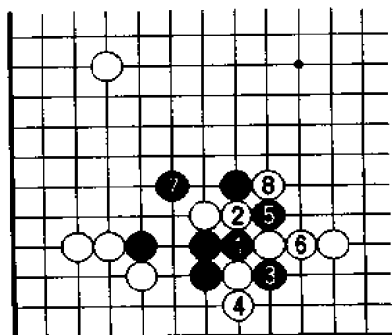


图1 失败

黑1挤，被白2反击后，黑棋不好。其后黑3、5先手利用，黑7整形，至白8打吃，黑棋形薄弱。

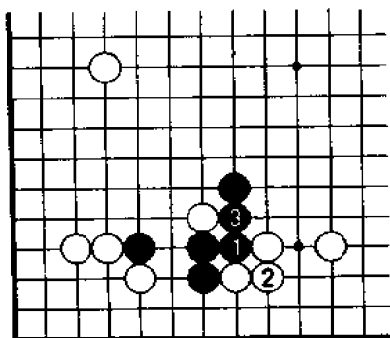
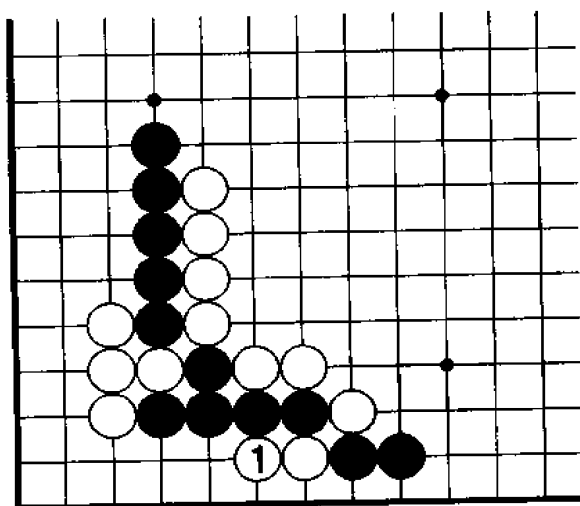


图2 变化

黑1挤时，白棋若顾忌自身的弱点，白2连接是大恶手，黑3连接后，黑棋形很厚。

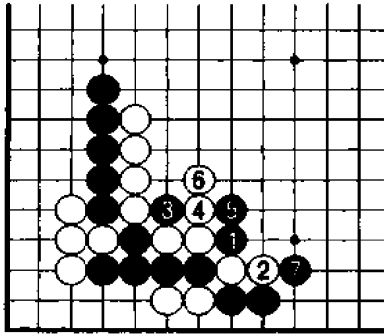
问题 96

黑先



白 1 开始紧气,黑棋仅剩最后两口气,那么请问黑棋应以什么方法来攻击白棋的弱点?征子对黑棋有利,这是要给大家的提醒。

问题96解答



正解图

黑1断打当然,白2如果逃跑,黑3再打,其后黑5先手利用是非常重要的次序,黑7可以征吃白二子。

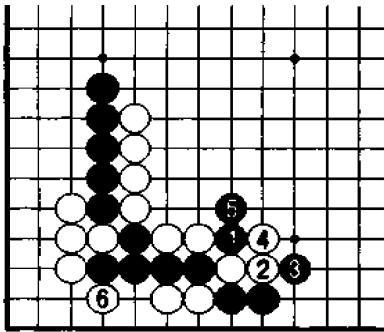


图1 失败1

黑1断打,白2逃跑时,黑3打吃是大恶手,以下至白6,黑棋被吃。

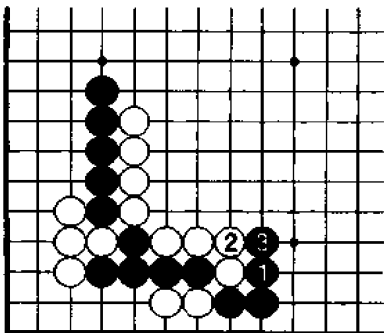

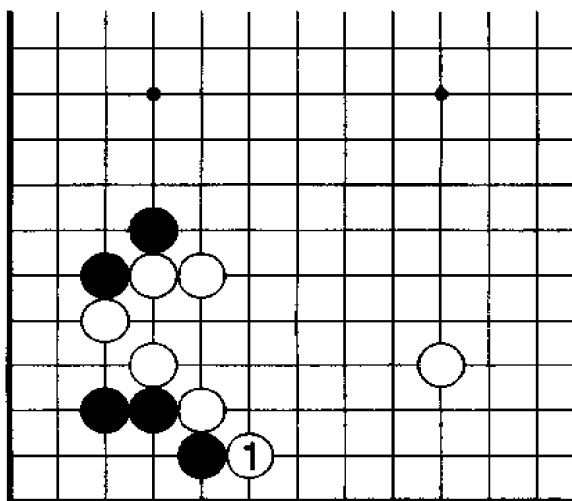


图2 失败2

黑1本能发现手筋,以下白2、黑3,与正解图相比,黑棋明显失败。

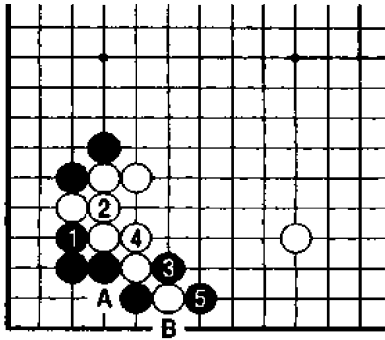


黑先



白1连扳,看起来很具气势,但只要黑棋应对正确,即可充分证明白棋的无理。那么请问黑棋惩罚白棋无理的手筋是什么?

问题97解答



正解图

黑1挤是正确下法，白2阻止黑棋渡过，黑3、5可以打吃白一子，以后白A打吃时，黑B提即可。

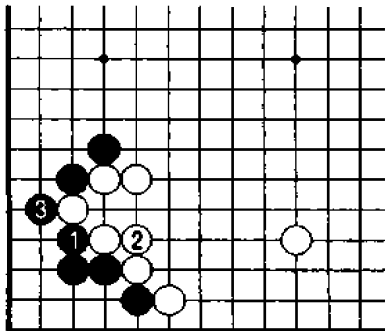


图1 变化

黑1挤时，白2若连接，黑3则打吃渡过，白损。

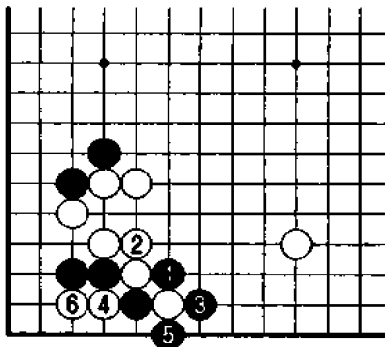
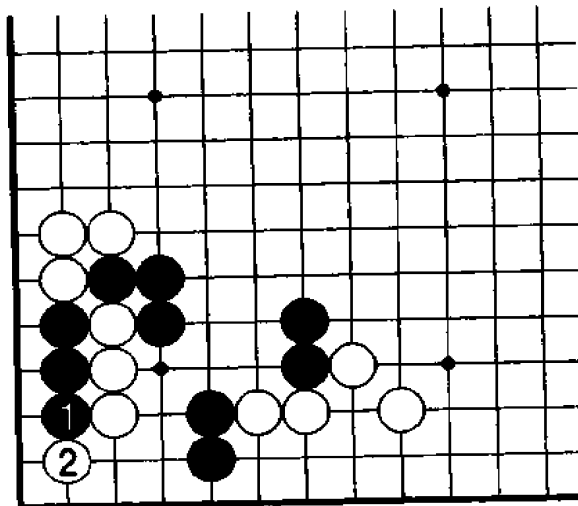


图2 失败

黑1、3打吃白一子明显缺少思考，白4、6后，白棋可以占取角地。

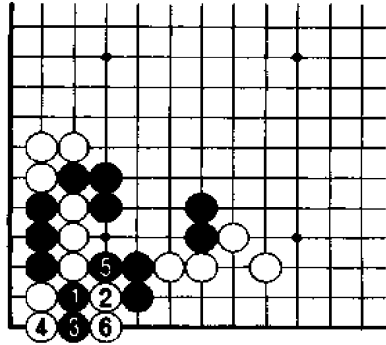


黑先



黑1长，白2扳，双方下成了对杀的棋形。那么请问黑棋如何才能取得对杀的胜利？

问题98解答



正解图

黑1断是手筋，白2如果打吃，黑3下立是预定的下法，以下至白6均是必然的次序，后续变化见下图。

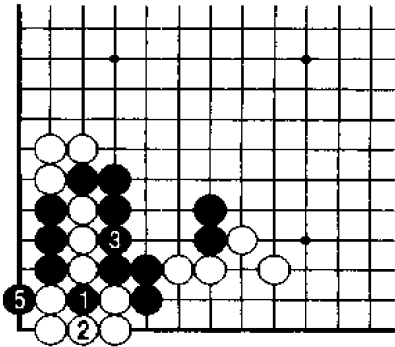


图1 正解继续

续正解图，其后黑1扑是对杀的要领，白2提子时，黑3再打，白4时，黑5扳，黑棋胜利。

④ = ①

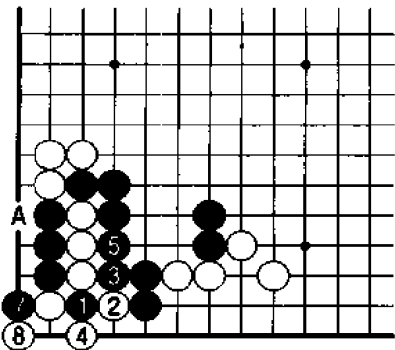


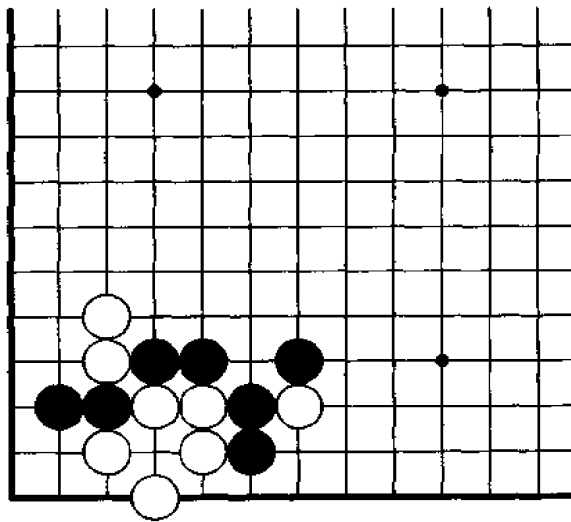
图2 失败

黑1断，白2打吃时，黑3是败着，以下至黑7扳，白8可以扑劫，当然白8下在A位更好。

⑥ = ①

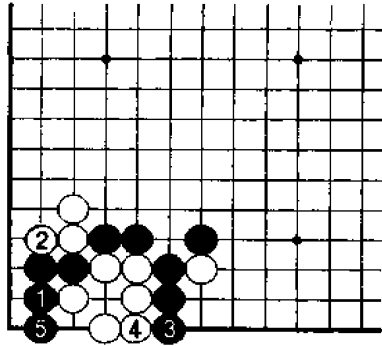
问题 99

黑先



角上黑二子看起来已被吃住，但黑棋可以利用角的特殊性，下成先手打劫。那么请问黑棋正确的行棋次序是什么？

问题99解答



正解图

黑1拐，白2时，黑3下立是好棋，其后白4时，黑5下立，结果白棋被吃。

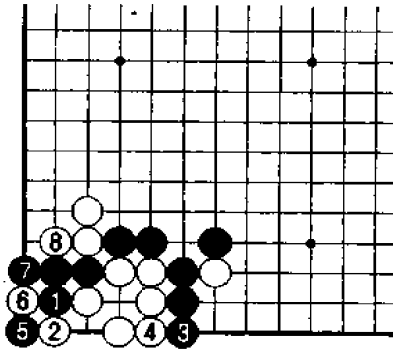


图1 变化

黑1拐时，有白2扳的变化，黑3、白4后，黑5扑是对杀的要领，以下至白8，下成打劫，这是双方的最佳进行。

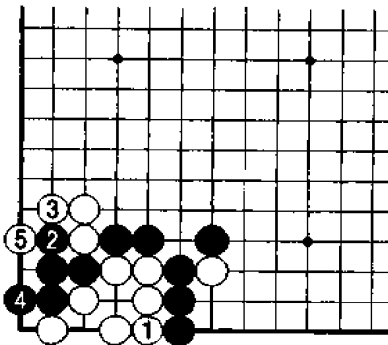
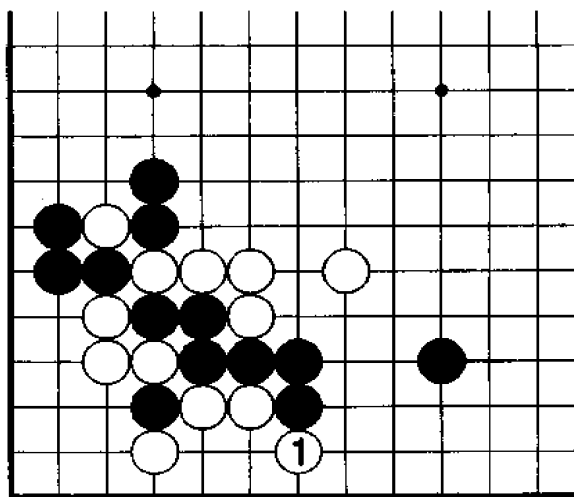


图2 失败

白1团时，黑棋不选择图1的进行，而黑2长是大恶手，白3挡后，结果成了白棋有眼杀无眼的局面。

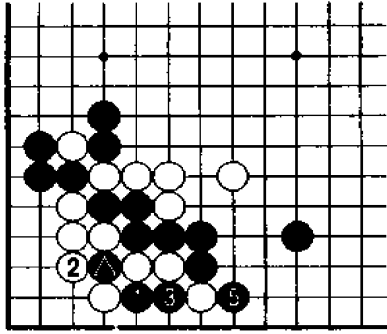
问题 100

黑先



白 1 扳看似当然,实际上却无理。那么请问黑棋如何捕捉战机,以什么样的手段来获利?

问题100解答



正解图

黑1断打是惩罚白棋失误的好棋，其后白2如果提子，黑3、5可以吃住白一子。

④ = ⑤

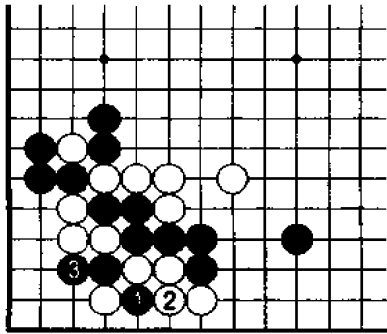


图1 变化

黑1时，白2如果连接一子，黑3长可以成立，结果白三子被吃住。

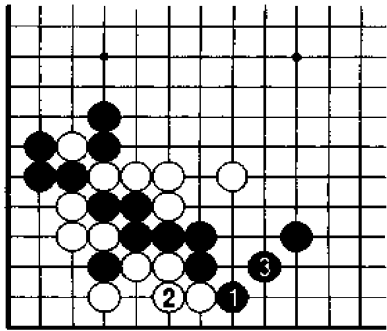
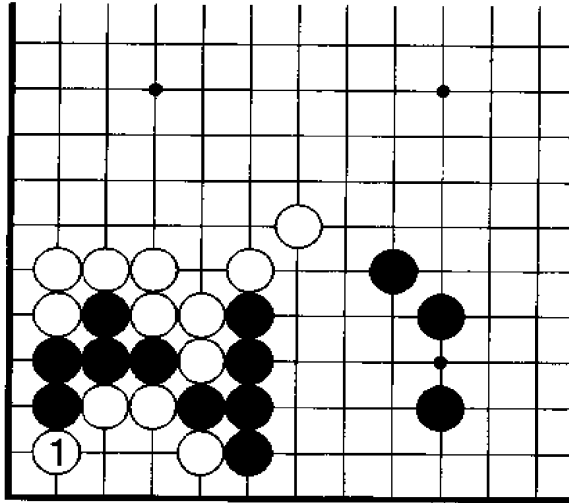


图2 失败

黑1扳，错失了机会，白2连接后，黑3还须虎补，与正解图相比，黑棋的差别很大。

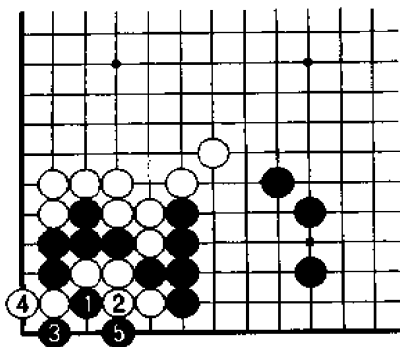
问题 101

黑先



白1扳后，黑棋看起来已处于绝望的境地，但实际上黑棋却可利用角的特殊性，用打劫来与白棋抗争。那么请问黑棋应如何下？

问题 101 解答



正解图

黑 1 断打是手筋，白 2 只好连接，黑 3 打吃是要领，白 4 若下立，黑 5 可以做劫。

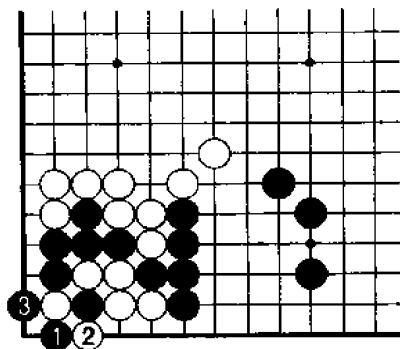


图 1 变化

黑 1 打吃，白 2 若提，黑 3 仍可利用角的特殊性做劫，黑棋可以满足。

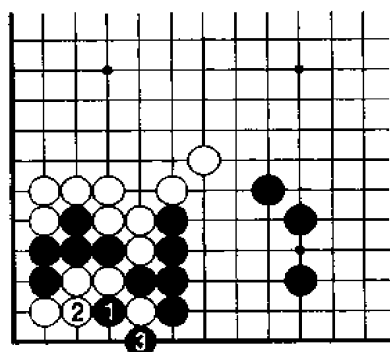
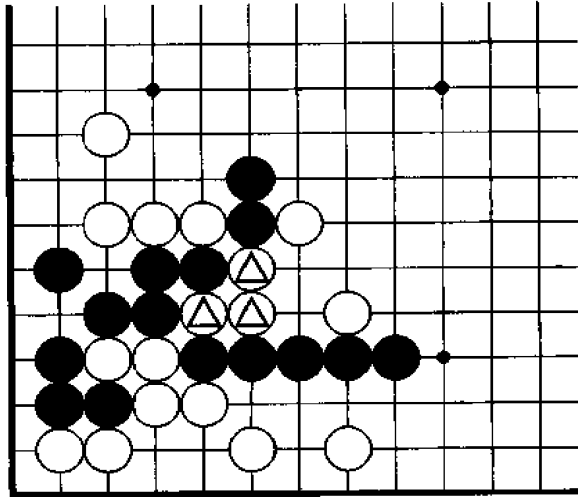


图 2 失败

黑 1 打吃白一子，仅为官子下法，而且黑棋还是后手。

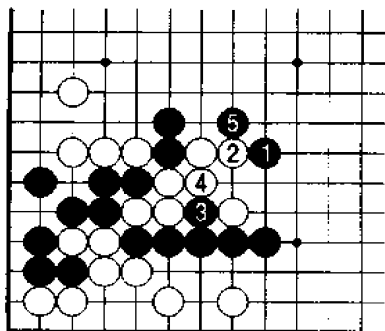
问题 102

黑先



黑棋如不能吃住白△三子，那么黑棋的三块棋将很难处理。那么请问黑棋吃白△三子的手筋是什么？

问题102 解答



正解图

黑1将白棋关住是摆脱危机的手筋。白2如果顶,黑3打吃后,黑5扳,黑棋可以吃住整块白棋。

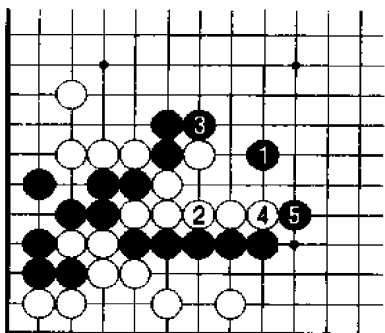


图1 变化

黑1封时,白2如果连接,黑3挡是好棋,其后白4、黑5,白棋被吃住。

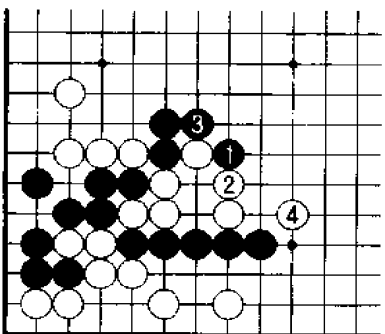
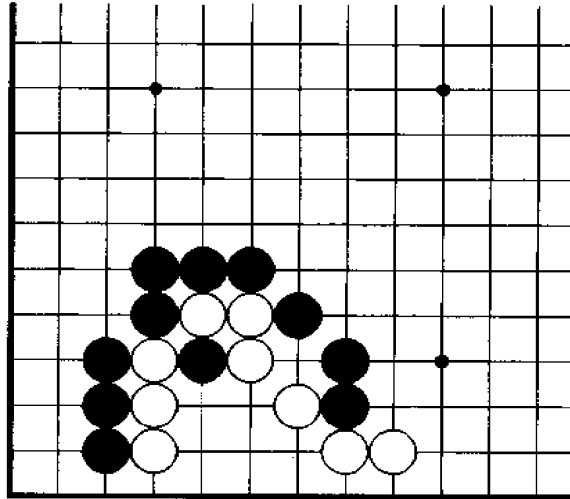


图2 失败

黑1貌似手筋,但白2双后,黑棋不行。其后黑3打吃,白4单跳,黑棋吃不住白棋。

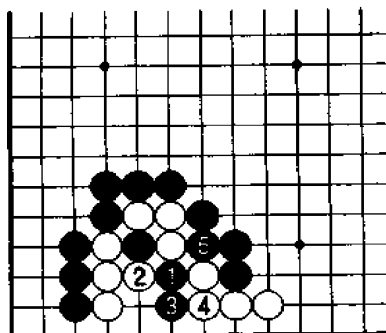
问题 103

黑先



黑棋面临的问题是如何通过攻击白棋的弱点来获取官子收益。只要对白棋形进行仔细分析，即可找出正确的答案。那么请问黑棋应如何下？

问题103解答



正解图

黑1打吃是巧妙的手筋，白2如果提子，黑3下立是好棋，白4挡，黑5打吃，黑棋可以吃住白棋。

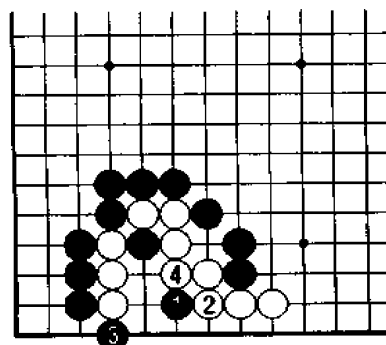


图1 失败1

黑1点，在本题中只能以失败告终。白2连接，黑3扳时，白4连接即可。

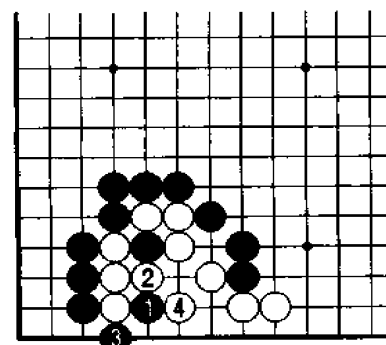
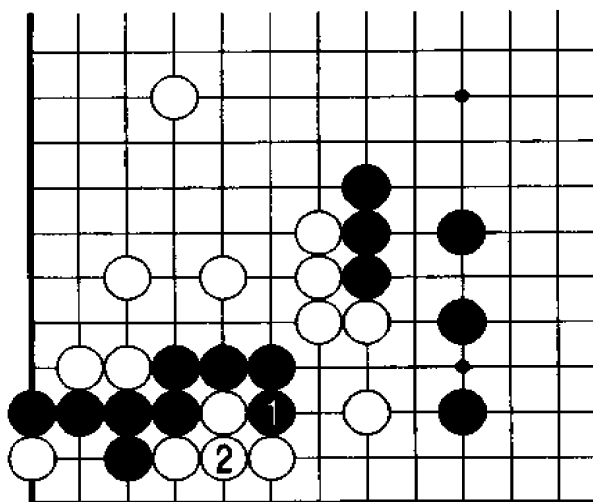


图2 失败2

黑1夹同样不成功，白2提子，以下黑3、白4，结果与图1大同小异。

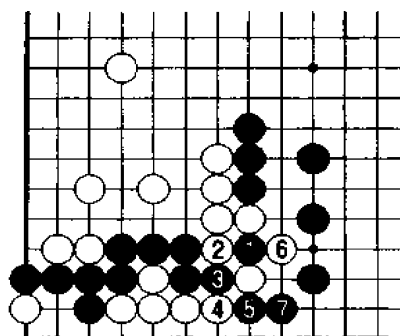
问题 104

黑先



黑 1 打吃, 白 2 连接, 角上黑棋现在已不可能做活。那么请问黑棋如何通过攻击白棋的弱点使自己活出?

问题104 解答



正解图

黑1挖是摆脱危机的唯一手筋，白2如果打吃，黑3顶以下进行至黑7，黑棋可以吃住白棋。

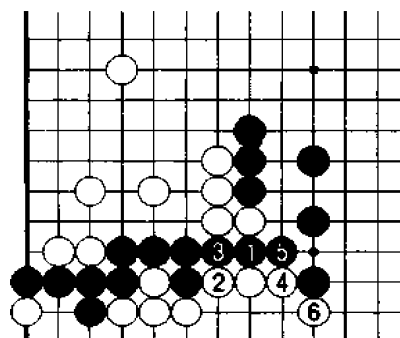


图1 变化

黑1挖，白2、4后退，以下至黑5，黑棋可以轻松联络。

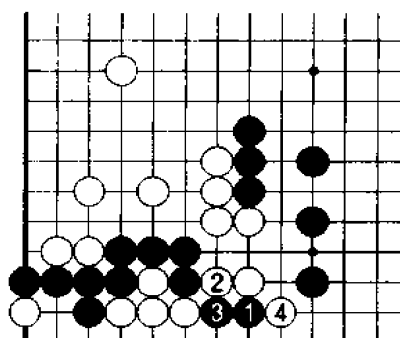
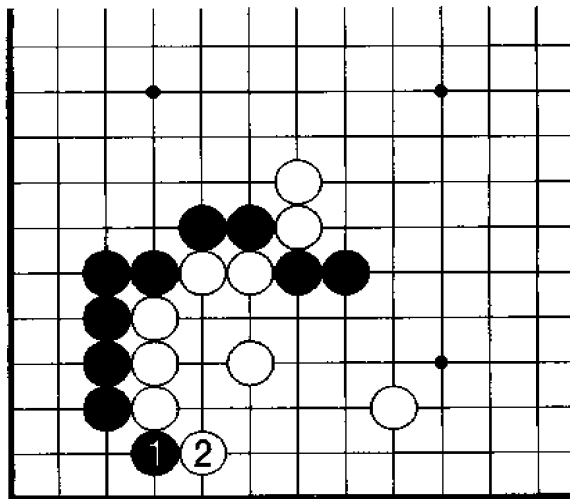


图2 失败

黑1托不能成立，白2断，黑3顶，白4扳，白棋可以轻松吃住黑二子。

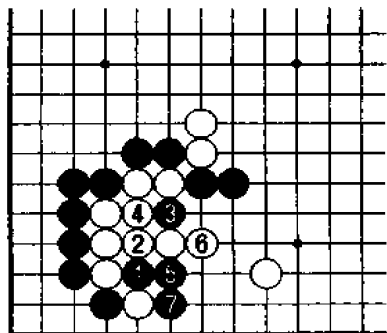
问题 105

黑先



黑 1 扳时,白 2 扳是大恶手,其后黑棋可以通过攻击白棋的弱点来获取利益。那么请问黑棋应如何下?

问题 105 解答



正解图

黑 1 断是攻击白棋弱点的锐利一手，白 2 只好连接，黑 3 先手与白 4 交换后，黑 5 再打，以下白 6、黑 7，黑棋收获很大。

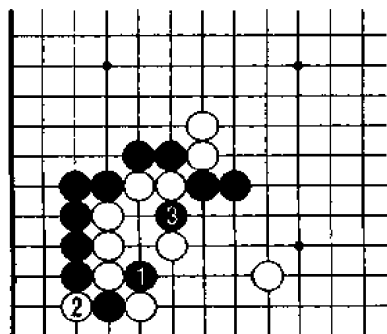


图 1 变化

黑 1 断时，白 2 打吃黑一子，白棋会受到更大的损失。黑 3 打吃，白二子被吃住。

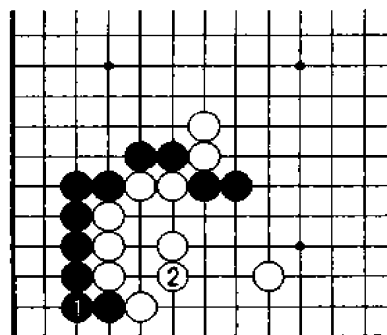
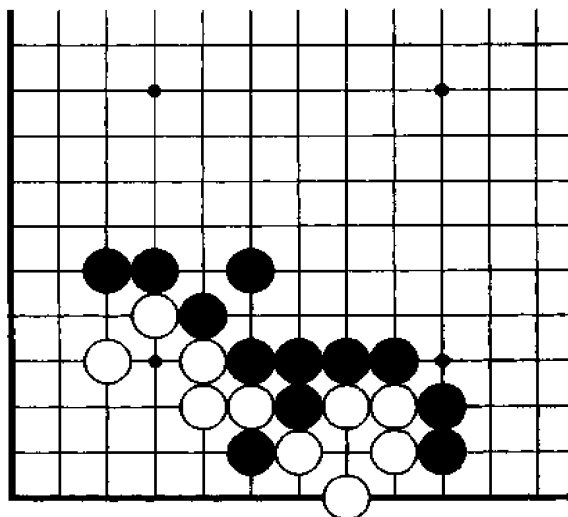


图 2 失败

黑 1 连接，白 2 补弱点后，黑棋再也没有手段了。

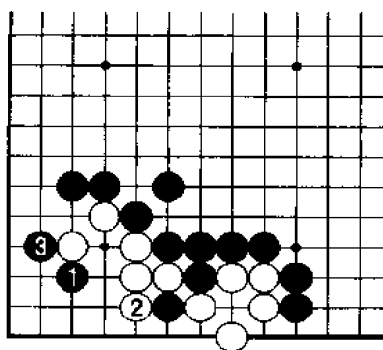
问题 106

黑先



本题是有关官子的手筋问题。那么请问黑棋如何通过攻击白棋的弱点来获取利益？第一手棋是成败的关键。

问题 106 解答



正解图

黑 1 靠是急所，白 2 被迫后退，黑 3 扳过，黑棋收益很大。

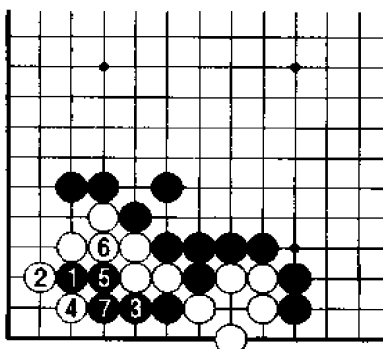


图 1 变化

黑 1 靠时，白 2 扳进行反击无理，黑 3 长以下至黑 7，白棋大损。

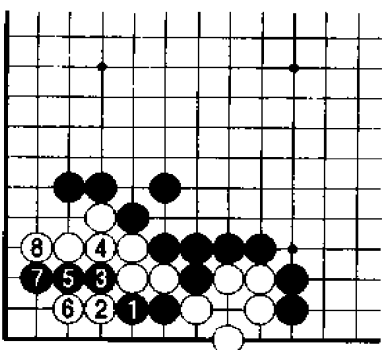
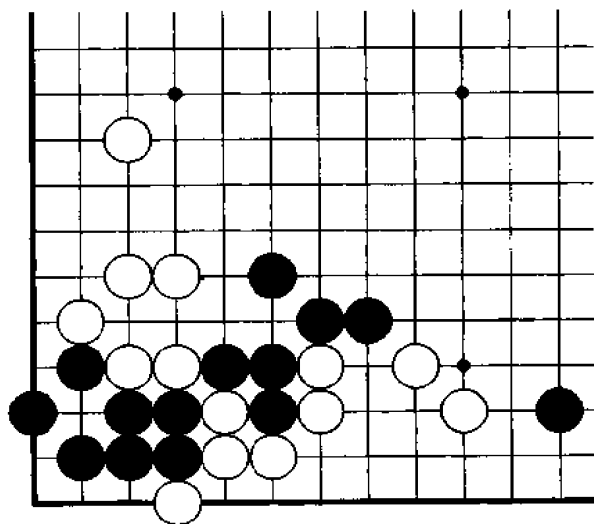


图 2 失败

黑 1 单长，白 2 扳是强手，黑 3 断以下至白 8，黑棋的任何手段都不能成立。

问题 107

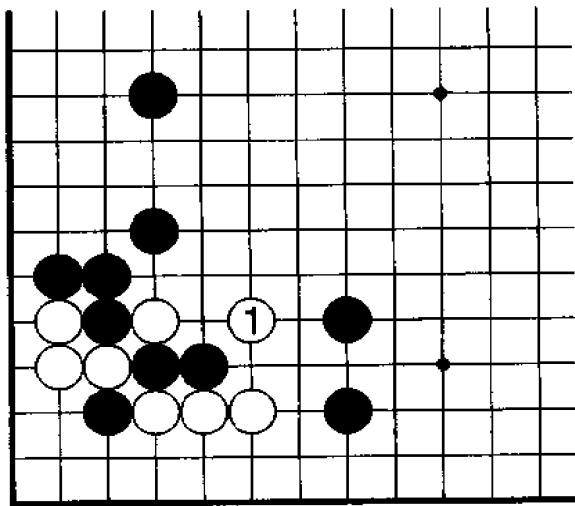
黑先



黑棋面临的问题是如何通过攻击白棋形的弱点获益并搜根。那么请问黑棋的常用手筋是什么？

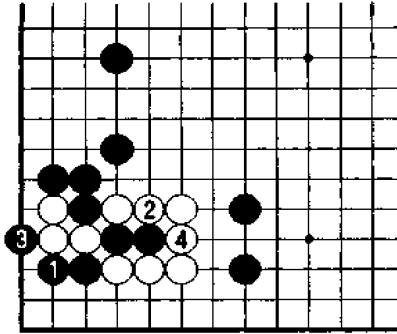
问题 08

黑先



白1枷,阻止黑二子出逃。黑棋下一手棋是关键,请问黑棋应如何下?

问题 108 解答



正解图

黑 1 挡是好棋，白 2 只好打吃，黑 3 渡是预定的次序，白 4 提子，后续变化见下图。

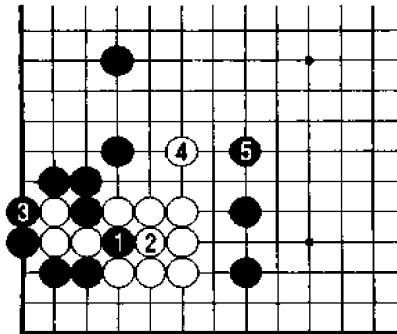


图 1 正解继续

续正解图，其后黑 1 扑是好棋，白 2 时，黑 3 再渡过，以下白 4、黑 5，黑棋好调。

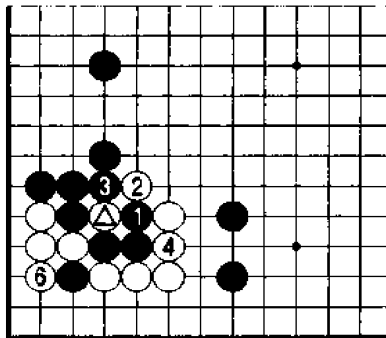


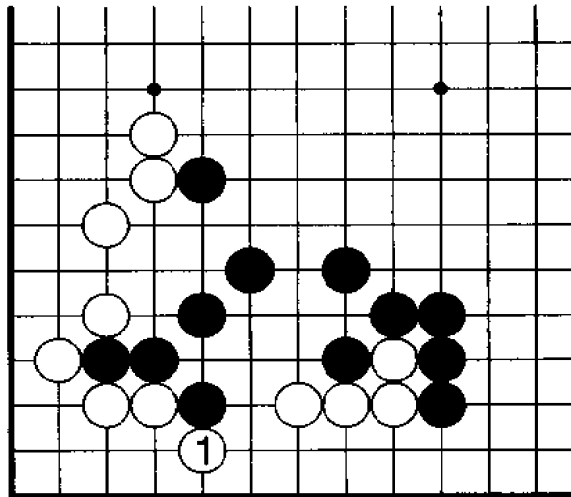
图 2 失败

黑 1 打吃白一子是典型的俗手，白 2、4 滚打后，白 6 补棋，白棋非常满足。

⑤ = △

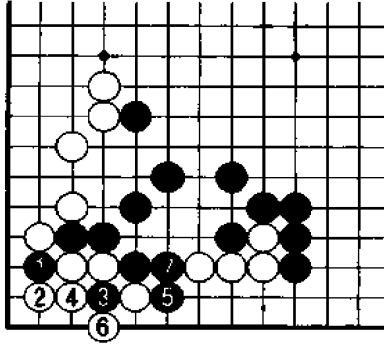
问题 109

黑先



白1扳,意在相互间联络,但通过仔细分析,白棋形仍存在缺点。那么请问黑棋应如何攻击白棋的弱点。

问题109解答



正解图

黑1断是手筋，白2如果打吃，黑3同样打吃是连贯的好棋，以下至黑7，黑棋可以分断白棋。

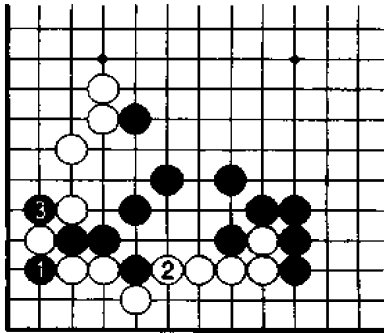


图1 变化

黑1断时，白2打吃是为避免正解图的进行，黑3打吃白一子后，结果仍是黑棋成功。

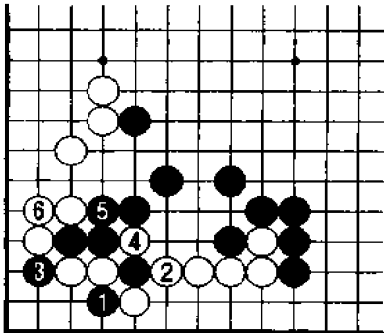
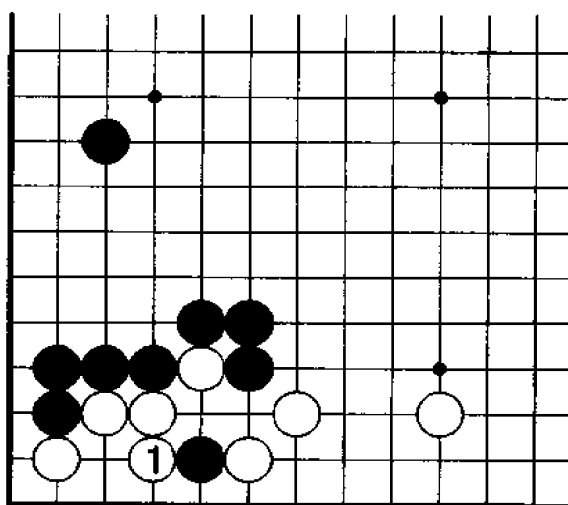


图2 失败

黑1虽然同样是断，但被白2打吃后，黑棋失败。其后黑3打吃，白4提子，黑棋苦于需黑5连一手。

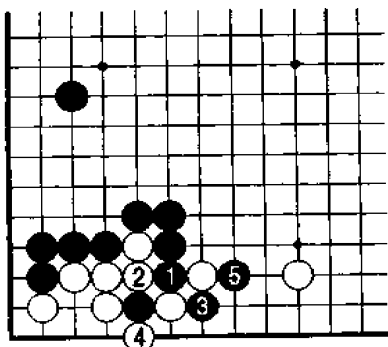
问题 110

黑先



黑棋靠时,白1挡谋求联络,但黑棋可通过对不完整的白棋进行攻击来达到目的。那么请问其手筋是什么?

问题 110 解答



正解图

黑 1 顶, 问白棋的应手, 白 2 如果打吃, 黑 3 先手利用, 再黑 5 打吃, 黑棋可以分断白棋。

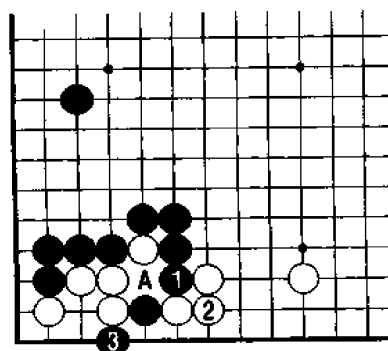


图 1 变化

黑 1 顶时, 有白 2 连接的变化, 此时黑 3 扳是切断的手筋, 其后白棋苦于 A 位不入气。

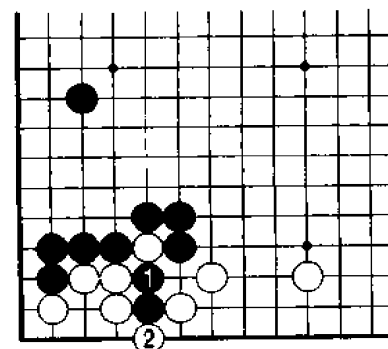
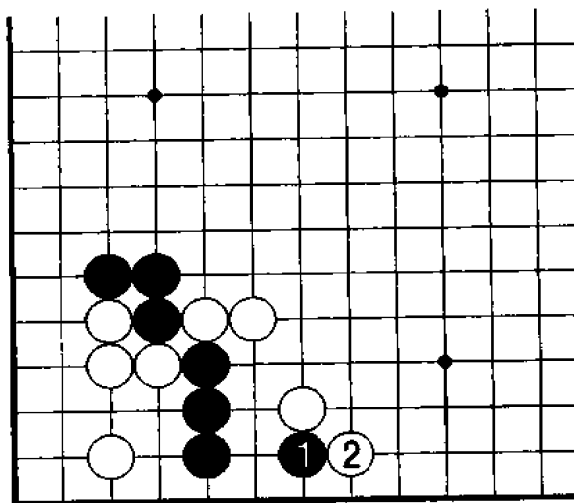


图 2 失败

黑 1 提子明显缺乏思考, 白 2 渡过后, 黑棋再也没有手段。

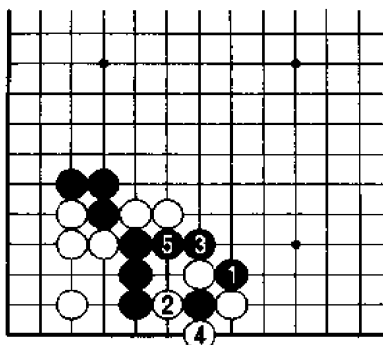
问题 111

黑先



黑1托,白2扳,其后黑棋要想活,只有突破白棋的包围圈才行。那么请问其手筋是什么?

问题 111 解答



正解图

黑 1 断是手筋，白 2 如果打吃，黑 3 反打后，黑 5 连接，由此可以突破白棋的包围。

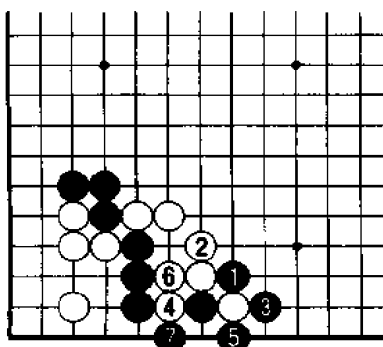


图 1 变化

黑 1 断时，白 2 如果长，黑 3 打吃即可。其后白 4 反打，黑 5 提子，白 6 只有连接，黑 7 成功联络。

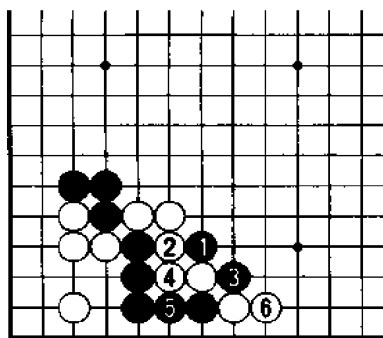
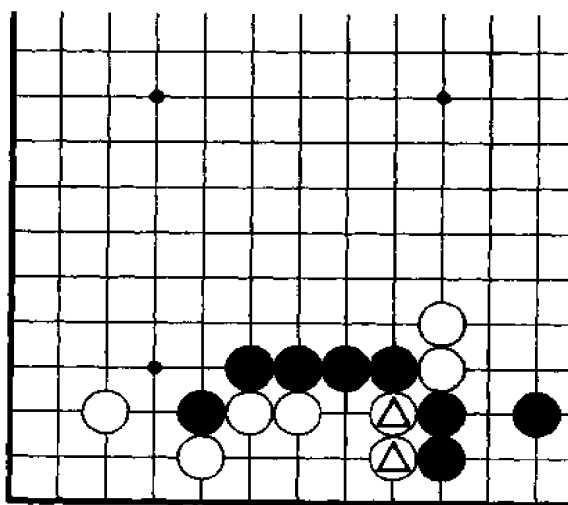


图 2 失败

黑 1 看似手筋，但被白 2 切断，其后黑 3 打吃，黑 5 连接，白 6 退后，黑棋战斗不利。

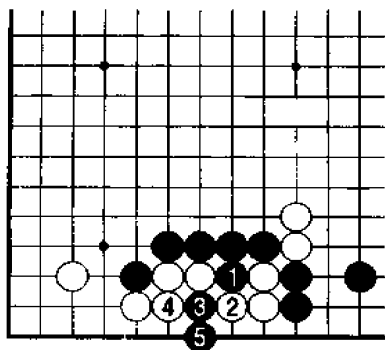
问题 12

黑先



黑棋左右若真被白棋分割，自然非常难受。只要能吃住白△二子，转眼间即可解决所有问题。那么请问黑棋应如何下？

问题112解答



正解图

黑1冲、黑3打吃是攻击白棋弱点的巧妙次序，其后黑5下立则是准备好的妙手，后续变化见下图。

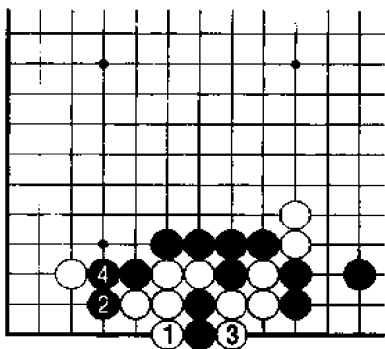


图1 正解继续

续正解图，其后白1打吃黑二子无理，黑2打吃后黑4连接，黑棋可以吃住整块白棋。

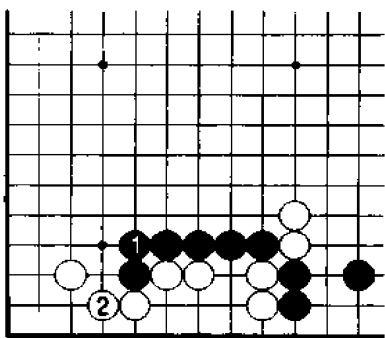
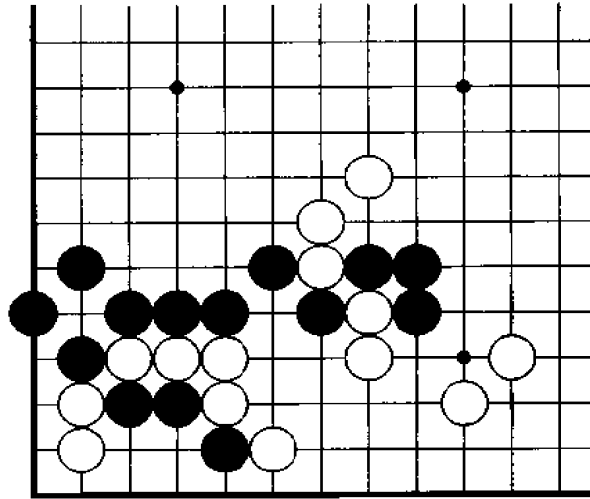


图2 失败

黑1连接，被白2补，以后黑棋由于须处理两块棋，将会感到疲惫。

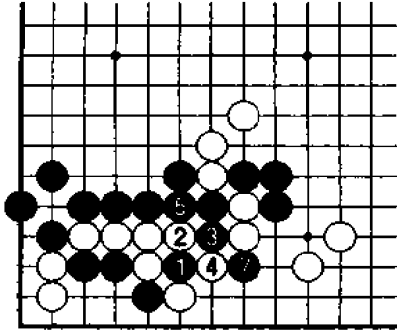
问题 113

黑先



黑棋通过攻击白棋的弱点可以给自身带来有利的结果。那么请问黑棋应如何下？

问题118解答



正解图

黑1断打是出发点，白2如果打吃，黑3、5滚打，然后黑7打吃，即可解决问题。

⑥ = ①

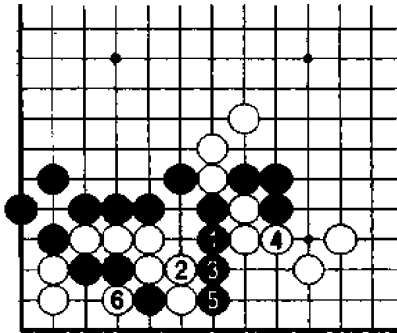


图1 失败1

黑1冲不好，白2连接，黑3、5虽可冲入白阵，但至白6，白棋充分。

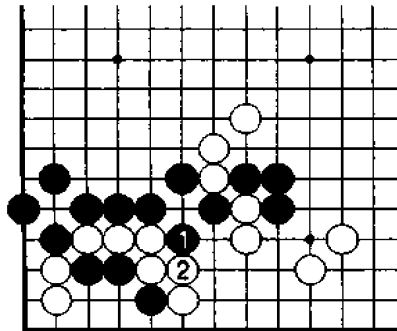
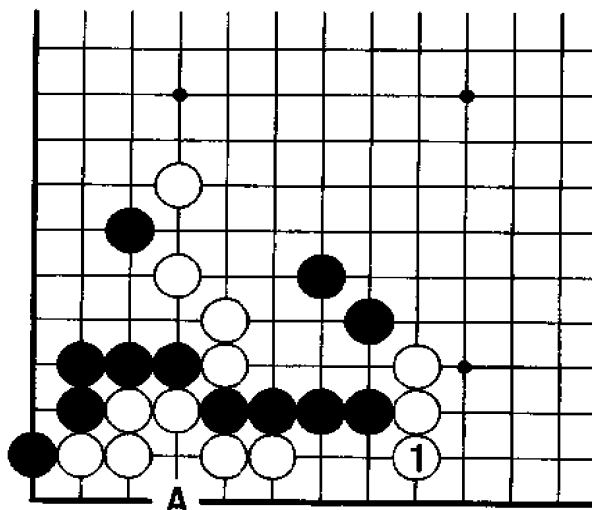


图2 失败2

黑1打吃是最坏的选择，白2连接之后，黑棋无后续手段。

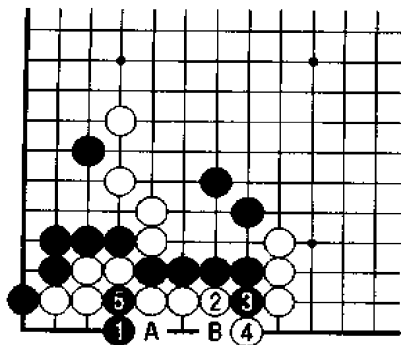
问题 14

黑先



白 1 下立,其意是或者相互间形成联络,或者在 A 位做活。但实际上白 1 是无理棋,应该下在 A 位做活才是本手。那么请问现在黑棋如何下最佳?

问题 114 解答



正解图

黑 1 点是双方的急所，白 2、4 试图联络，至黑 5 断，白棋被吃。以后白 A 时，黑 B 应，白棋损失更大。

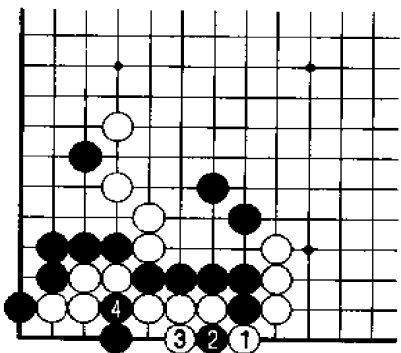


图 1 变化

白 1 渡过时，黑 2 扑与白 3 交换后再黑 4 断，这样下是黑损。

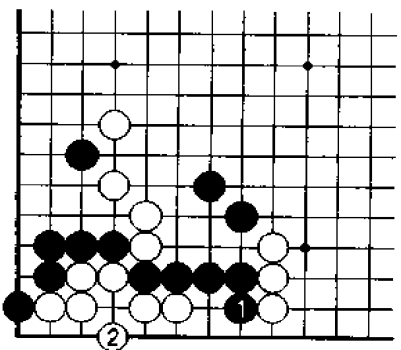
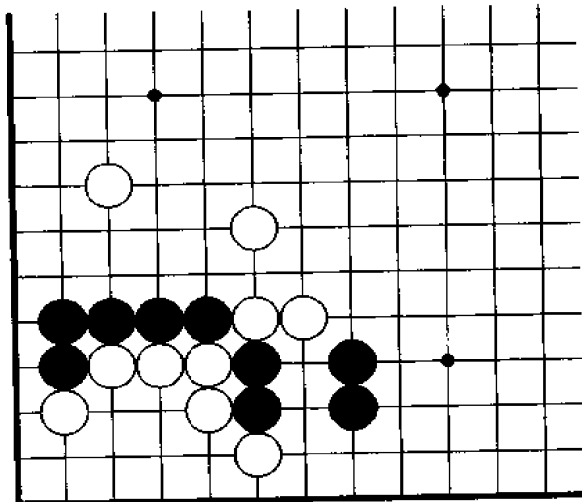


图 2 失败

黑 1 分断目光短浅，白 2 可简单做活。

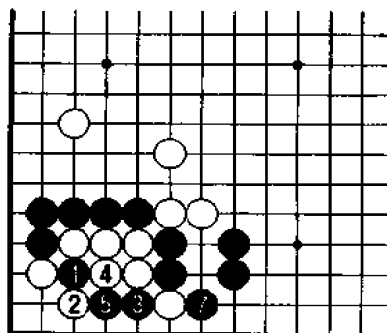
问题115

黑先



左侧的黑五子已经很危险，其后黑棋只有通过攻击白棋的弱点方能摆脱危机。那么请问黑棋应如何下？

问题 115 解答



正解图

黑 1 断是手筋，白 2 打吃，黑 3、5 先手利用后，黑 7 打吃，黑棋可以吃住整块白棋。

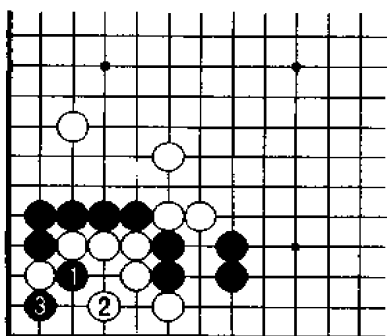


图 1 变化

黑 1 断时，有白 2 虎的变化，黑 3 可以轻松处理自身，以后白棋还须后手做活。

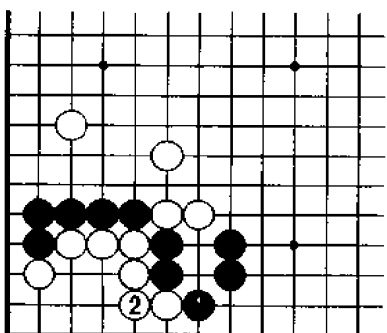


图 2 失败

黑 1 挡，被白 2 连接后，左侧黑五子只能束手就擒。